

第四讲 判断推理

渔舟唱晚

理论部分（基础差的同学请先看易错题整理部分）

一、图形推理：（原则一单独规律强于复合规律，原则二数量规律强于其他规律。）

（一）数量：

1、数数：

- a、素：种类和个数；
- b、面：不连通的部分；
- c、角（小于 180 度）：主要考内角；（扇形、多边形中间加线、乱绞丝考察角）
- d、线：考线段的曲直性和笔画数；（井字格为载体考察长短线）
- e、点：端点、交点和拐点（拐点和交点一般不区分）。

2、数列规律：

- a、等差：1、2、3、4、5。
- b、等比：1、2、4、8、16。
- c、递推：1、2、3、5、8。
- d、对称：1、2、3、2、1。
- e、乱序：5、0、1、3、2、（4）。
- f、同余：奇偶奇偶或者 3、3、6、9、3 这种形式。
- g、周期：1、2、3、1、2、3。

3、计算规律（一般在九宫格）：

- a、答案在题中： $a+x \div b=c$ ；
- b、答案在题外： $a+b+c=d$ 或者 $a \times b \times c=d$ 。

（二）位置：

1、静态位置关系（只有两个元素）：

- a、相离：看结构（左右、上下）和是否相邻；
- b、相切：分为内切和外切，注意切点变化；
- c、相交：注意是点交还是线交；
- d、内含：

2、动态位置变化（组成元素完全相同）：

- a、平移：元素的对应（标号法）；
- b、旋转：（**箭头法**）；
- c、翻转：（**时针法**，若翻转则改变了时针的方向）。

（三）样式：

1、内在属性：

- a、对称性：轴对称、中心对称及兼有二者。
- b、曲直性：
- c、**封闭**：封闭、开放、半封闭。

2、外在形状：

- a、遍历：缺谁补谁；
- b、样式运算：加减同异。

（四）空间重构类：

1、面的利用：

- a、特殊面：一个面；
- b、相对关系：两个面；
- c、时针法（三个面）；

2、线的利用（描线法）：

- 第一步：由立体→平面；
- 第二步：侧视图的三条线；
- 第三步：两侧最不对称图形优先。

（五）平面重构类：

- 1、不允许丢块：数个数；
- 2、不允许翻转：数时针。

二、类比推理：

（一）外延概念关系：

- 1、a、b 是全同关系：古今、中外、自他。
- 2、a、b 是交叉关系
- 3、a、b 是包含关系：种属和组成。
- 4、a、b 是并列关系：矛盾（非 a 即 b）、反对（如黑、白）。

（二）内涵映射关系：

- 1、充分必要；
- 2、一一对应与非一一对应；
- 3、必然与或然。

（三）语句语法关系

主谓关系、主宾关系、谓宾关系、双主、双谓、双宾。

三、逻辑判断：

（一）真假推理：

1、**五对矛盾关系**：A 与 -A；A 且 B 与 -A 或 -B；A 或 B 与 -A 且 -B；所有与有的不；
A→B 与 A 且 -B。

- 2、反对关系：两个有的至少有一真；两个所有至少有一假。
- 3、包容关系：所有→某人→有的；A 且 B→A（B）→A 或 B。

（二）翻译推理：

1、六个单句翻译：

- a、所有 S 都是 P ——S→P；
- b、所有 S 都不是 P——S→-P；
- c、没有 S 是 P ——P→-S；
- d、没有 S 不是 P ——S→P；
- e、不是 S 都是 P ——S→P；
- f、不是 S 都不是 P ——S→-P；

g、如果 A 那么 B，跟 A 且非 B 矛盾，而 A 且非 B 跟非 A 或 B 矛盾，所以如果 A 那么 B 与非 A 或 B 是等价的。

2、四个等价关系：

- a、并非所有 A 都是 B=有的 A 不是 B；

- b、并非有的 A 是 B=所有 A 都不是 B;
- c、所有的 A 都不是 B=所有的 B 都不是 A;
- d、有的 A 是 B=有的 B 是 A。

3、四个复句翻译:

- a、假言命题(充分条件): 如果 P, 那么 Q, 前推后。
- b、假言命题(必要条件): 只有 P, 才 Q, 后推前。
- c、选言命题: 或者 P, 或者 Q, 非 P 即 Q, 反之亦然。
- d、连言命题: P 且 Q。

4、确定信息:

翻译→优先信息→推理→得到结论。

(三) 分析推理: 分为选项信息充分和题干信息充分。

(四) 归纳推理: 像言语题, 确定主题词→排除无关项。

(五) 论证加强型(搭桥):

- 1、弱支持(解说): 再说一遍, 举个例子。
- 2、强支持(比较): 旁人不灵, 非我不行。

(六) 论证削弱型(矛盾):

- 1、A: 削弱方式: -A;
- 2、A→B, 两种削弱方式: A 且-B 的力度要大于-A。

四、定义判断:

(一) 单定义判断(符合性验证)

1、单关键词判断:

- a、关键词为主体、客体、种属;
- b、关键词为状语(目的、时间、方式)

2、多关键词判断: 要件关系为和关系还是或关系。

(二) 多定义判断(辨析): 注意杂糅在一起的定义即可。

易错题整理部分

1、魔术师表演前需要铺垫一个“包袱”, 邀请一名观众配合。魔术师让他抽出一张牌后说: 我说红桃 K 或梅花 Q 以后, 你才能看到你抽的那张牌和我说的相同。

对魔术师说法理解错误的一项是:

- A.允许: 魔术师说出的牌与抽的牌相同, 那么这张牌不是红桃 K, 就是梅花 Q。
- B.允许: 魔术师说出的牌与抽的牌相同, 那么这张牌不是红桃 K 也不是梅花 Q。
- C.允许: 魔术师说红桃 K, 没说梅花 Q(说的是其他牌), 而这张牌却是梅花 Q。
- D.允许: 魔术师说红桃 K, 而抽出的牌不是梅花 Q。

解析: 前面是后面的必要条件, 所以后面是前面的充分条件, 即抽的牌和魔术师说的相同时, 这牌不是 K 就是 Q。所以选 B。

2、应该看到, “少数人靠觉悟, 多数人靠政策”。将各种社会问题归结为良知不守, 则有逻辑倒置和认知错位之嫌。很多问题, 是缺“法”导致缺“德”, 而不是相反。如果监管和惩罚机制能够得到严格执行, 食品生产者的“投毒冲动”就能得到有效抑制: 如果制度健全, 使好人流血不再流泪, 藏于人心的本然良知就能够转化为见义勇为的实际行为。由此可以推出()。

- A. 如果良知不能化为行动, 说明制度仍有待完善
- B. 只有制度健全, 才不会良知不守

- C. 只要守住良知，就不会有各种社会问题
- D. 只有制度健全，才不会有各种社会问题

解析：注意第二句是充分条件，所以选 A。B、C 都是对第二句后句的肯定，D 无关。

3、要是不学习二胡演奏，徐平就做不了民乐理论研究。如果他喜欢民族乐器，那么他会选择学习二胡演奏作为专业。如果他不喜欢民族乐器，他就会做民乐理论研究。由此可推出徐平将（）。

- A. 研究民乐理论
- B. 学习二胡演奏
- C. 不学二胡演奏
- D. 不研究民乐理论

解析：如果喜欢民乐，那么学二胡；如果不喜欢民乐，那么就做研究，而做研究的必要条件也是学二胡，所以选 B。

4、品学兼优的学生不都读研究生。如果以上论述为真，则下列命题能判断真假的几个？

- 1、有些品学兼优的读研究生
- 2、有些品学兼优的学生不读研究生
- 3、所有品学兼优的学生都读研究生
- 4、所有品学兼优的学生都不读研究生

- A. 1 个
- B. 2 个
- C. 3 个
- D. 4 个

解析：1、4 不能确定，2、3 可以确定，2 对 3 错，选 B。

5、针对动物神经科课题，皇家科学院四名研究院各抒己见：

肯尼迪：若 W 物质能缓解紧张，那么服用 QRT 利于情绪则注射 UNT 就不利于情绪。

史蒂芬：W 物质能缓解紧张，服用 QRT 利于情绪而且注射 UNT 也利于情绪。

爱尔玛：W 物质不能缓解紧张。

罗斯特：注射 UNT 利于情绪，那么服用 QRT 就不利于情绪。

实验证明只有一个对的，那么正确的一项是：

- A.服用 QRT 不利于情绪
- B.注射 UNT 有利于情绪
- C.W 物质不能缓解紧张
- D.注射 UNT 不利于情绪

解析：肯尼迪与史蒂芬矛盾，则爱尔玛和罗斯特都错，推出史蒂芬是正确的，选 B。

6、家庭财政会议。

爸爸：今年买汽车，而不出过旅游。

妈妈：今年或者不买汽车，或者出国旅游。

女儿：今年既买汽车，也要出国旅游。

最后采纳了其中两个人的建议，可推知该家庭今年：

- A.既买车又旅游
- B.买车而不旅游
- C.旅游而不买车

D.不旅游也不买车

解析：爸爸与妈妈矛盾（A 且 B，与非 A 或非 B），所以女儿的支持，选 A。

7、某校食堂发生一起严重的食物中毒事故，关于事故的原因，有如下四种说法：

甲：事故是由食物过期引起的

乙：如果事故是由食物过期引起的，那么食堂管理方面一定存在着监管不到位的现象

丙：事故确实是由食物过期引起的，但食堂管理方面并不存在监管不到位的现象

丁：事故不是由食物过期引起的，但食堂管理方面存在监管不到位的现象

如果上述四种说法中只有一种是真的，由此可以推出

A.乙为真，且食堂存在监管不到位的现象

B.乙为真，但食堂没有存在监管不到位的现象

C.甲为真

D.丙为真

解析：乙、丙矛盾，甲丁必错，不是由食物中毒引起且食堂监管不存在监管不到位，选 B

（如果 A 那么 B，跟 A 且非 B 矛盾，而 A 且非 B 跟非 A 或 B 矛盾，所以如果 A 那么 B 与非 A 或 B 是等价的）。

8、公司购进一批电脑作为员工的办公电脑，对此，甲、乙、丙三人各有判断。甲说：“有的员工没有分到电脑。”乙说：“并非所有的员工都没分到电脑。”丙说：“市场部的小丁，到现在都没有分到电脑呢。”如果上述三句判断只有一句是真的，则以下关于公司的判断，哪项一定为假？（ ）

A. 市场部的小丁分到了电脑

B. 销售部有的员工分到了电脑

C. 人力资源部的员工都分到了电脑

D. 研发部除新入职的小刘外，都分到了电脑

解析：用假设法，假如丙为真，则甲为真，所以丙必然假，则小丁分到了电脑，故而选 D。

9、已知法学 10 级 3 班有 36 人，假定下列四种说法有两个为真，其余为假：

（1）并非法学 10 级 3 班所有同学都去过庐山。

（2）法学 10 级 3 班王芳和李娜都去过庐山。

（3）只有法学 10 级 3 班有人去过庐山，才能说该班张斐既去过庐山，也去过三清山。

（4）并非法学 10 级 3 班没有同学去过庐山。

依据上述假定及其给定条件，下列判断为真的选项是（ ）。

A. 该班至少有三个同学去过庐山

B. 王芳没有去过庐山，但是李娜去过

C. 张斐和李娜去过庐山

D. 王芳、李娜、张斐都没有去过庐山

解析：假设 3 为假，则张去过两山且 10 级 3 班没去过庐山为真，自相矛盾，所以 3 必为真。1 和 4 必有一真，所以 2 必然假，所以王芳和李娜至少有一个没去，所以 1 为正确，4 为假，4 假推出全部没去过庐山，选 D。

10、2 亿年前，在恐龙统治地球之时，一小撮夜行性的远古爬行动物在不知不觉中找到了一条生存策略，并最终走向了大脑的进化之路。科学家从与原始哺乳动物极其类似的远古爬行动物的头骨化石中得出结论，正是嗅觉的发展促进了远古爬行动物大脑的进化。以下哪项如果为真，最能支持上述结论？（ ）

- A. 许多早期哺乳动物由于自然选择进化出了更小的身体，而它们的脑却未能按比例缩小
- B. 研究人员分析了爬行动物犬齿龙类化石，其与早期哺乳动物摩根兽亲缘关系很近，但摩根兽的大脑比犬齿龙要大一倍，其中处理嗅觉的区域明显增大
- C. 早期夜行性哺乳动物进化出更大的脑是为了促进它们的听觉，因为视觉在夜晚并不能起到很大作用
- D. 研究表明，与现存哺乳动物关系最近的巨颅兽，其大脑容量和鼻腔所占空间都要比早期爬行动物大一些

解析：题干论点为正是嗅觉的发展促进了远古爬行动物大脑的进化，B 项哺乳动物处理嗅觉的区域大，是支持本题大，脑因为嗅觉发展的观点，选 B。A 中是脑和身体的关系，与本题无关；C 说的是听觉和进化的关系，无关；D 中说的是现存的爬行动物，而不是远古爬行动物，偷换概念，故排除。

11、超级本作为笔记本市场中一个非常有竞争力的新生力量，2011 年销量只占移动计算机市场销量的 20%，低于预期的 30%。有供应商表示，超级本之所以遭遇销售低迷，很大程度上是因为欧洲市场对超级本需求过小。调查显示，欧洲消费者普遍更青睐 15 英寸及以上的笔记本电脑，有数据显示，目前欧洲售出的移动计算机中有 40%~45%都是 15 英寸的机型，而超级本根本就没有这样的尺寸。

供应商得出上述结论的前提假设是：

- A. 生产前厂家未考虑欧洲消费者的使用习惯
- B. 超级本应该设计生产 15 英寸级别的产品
- C. 欧洲消费者的消费习惯与其他地区相类似
- D. 欧洲市场在全球笔记本市场中占较大比重

解析：D 题干论述的是世界市场超级本的低迷是因为欧洲市场，可知欧洲市场是世界市场的主要比重。ABC 都是设计和消费习惯问题，与欧洲需求过小是低迷原因不相关。

12、某地一企业今年招聘时，平均每个职位的应聘人数比去年减少了 30%。因此，该公司对求职者的吸引力有所降低。

以下最能削弱上述推论的一项是()。

- A. 今年全国应届毕业生人数比去年有所增加
- B. 今年到该地求职的总人数有所减少
- C. 该企业今年招聘的部分职位应聘人数多于去年
- D. 该企业今年招聘的职位有八成提高了用人标准

解析：注意是应聘的人数，不是招聘的人数，所以选 B。

13、人工合成食用色素，使用煤焦油中分离出来的苯胺染料为原料制成的，故又称煤焦油色素或苯胺色素，如合成苋菜红、胭脂红及柠檬黄等等。偶尔食用添加一定量的人工合成食用色素的食品，并不会引发中毒、泻泄等状况。因此，人们可以放心实用添加少量人工合成色素的食品。

以下哪项如果为真，最能削弱上述论证？

- A. 食用添加少量人工合成食用色素的食品不利于人体健康
- B. 经常食用和偶尔食用对人体的影响不同
- C. 苯胺染料含对人体有害的物质
- D. 实用添加少量天然食用色素的食品不会影响人体健康

解析：A 直接否定，选 A，B 项太过模糊，可以有很多种理解方式。

14、英国剑桥大学专家称，早期人类的大脑比现代人类更大，而且现代人类比早期人类身材矮小 10%。这项研究颠覆了此前的理论——现代人类伴随着进化变得更高、更强壮。科学家称，这种人类进化衰减性出现在过去一万年左右，很可能是由于农业的出现导致的。农业耕作出现之后，人类受限于食物种类的减少以及疾病的蔓延，所以出现了进化衰减现象。以下哪项如果为真，最不能质疑研究人员的假设？

- A. 据研究，人类大规模农业耕作出现在 5000 年前
- B. 一万年前，居住在非洲的人身材和现代人类差不多
- C. 随着农业水平的提高，人类的食物种类远多于一万年前
- D. 早期人类患病没有办法医治，身残体弱者在进化中均遭到淘汰

解析：考查不能削弱类。题干研究人员的假设是“现代人类进化出现衰减现象，原因是农业耕作的出现使人类受限于食物种类减少以及疾病蔓延”。D 项，早期人类疾病无法医治，身残体弱者被淘汰，与题干中的衰减现象和农业耕作无关。因此，选择 D。

15、一个人生活虽然很难，但也必须学会一个人，不要轻易依赖别人，这样以后身边的人都离开你的时候，你还可以好好活下去。

如果以上为真，则以下哪项为真？

- A. 身边人都离开时还可以好好活，未必是因你以前学会如何一个人生活
- B. 不能独自生活的人，在身边的人都离开他的时候，就无法好好活下去
- C. 一个人生活虽然艰难，但也比身边的人都离开他的时候要来得容易些
- D. 不要轻易依赖别人，因为一个人生活的时候会很艰难无法好好活下去

解析：注意是充分条件，选 A。

16、有哲学家指出，人生其实应该追求两个简单：物质生活的简单和人际关系的简单。有了这两个简单，心灵就拥有了广阔的空间和美好的宁静。但是，大多数现代人却在这两方面很复杂，物质生活上是财富的无穷追逐，人际关系上是利益的不尽纠葛，两者几乎占满了生活的全部空间，而有了这两种复杂，就产生了现代人的大部分烦恼。根据上述哲学家的观点，可以得出以下哪项？

- A. 大多数现代人的心灵或者没有广阔的空间，或者没有美好的宁静
- B. 有些现代人生活很复杂，但却拥有心灵的广阔和宁静
- C. 只有在物质生活或人际关系两方面简单了，现代人的大部分烦恼才不会产生
- D. 如果在物质生活和人际关系两方面都简单了，现代人的大部分烦恼就不会产生

解析：两个复杂→产生烦恼，逆否命题是不产生烦恼→至少一个简单，充分条件变必要条件，即至少有一个简单，才不产生烦恼，选 C。

17、甲、乙、丙三人推销各自的产品。这三样产品中，有一样是仿冒品，其余两样是真品。甲说：“我的产品是真品，乙的产品是仿冒品”；乙说：“我的产品是真品，丙的产品是仿冒品”；丙说：“乙的产品是真品，甲的产品是仿冒品”。已知甲、乙、丙三人中，有一位两句话都是真的，有一位一句是真话、一句是假话，还有一位两句都是假话。那么，推销仿冒品的是（ ）。

- A. 甲
- B. 乙
- C. 丙
- D. 不能确定

解析：本题为真假推理题。甲和丙所说的话两部分分别是互相矛盾的关系，若其中一人说的

话一真一假，则另一人说的也一真一假，与题干要求不符，故甲丙二人必有一全真一全假，而乙所说为一真一假。若甲所说为全真，则乙的产品是仿冒品，此时乙所说前半句为假，后半句为真，此时乙和丙的产品都是仿冒品，与题意不符。故甲所说为全假，此时甲的产品为仿冒品，乙和丙的产品为真品，符合题意。故本题选 A。

18、某机关拟在全民国防教育日举办专项国防教育活动。至于采用何种活动形式，组织者甲、乙、丙三人意见如下：

甲：如果搞读书演讲、知识竞赛，那就不搞文艺演出和专题展览

乙：如果不搞文艺演出和专题展览，那就搞读书演讲、知识竞赛

丙：不搞读书演讲、知识竞赛

上述三人的意见只有一个人的意见与最后结果相符合，最后结果是：

- A. 搞读书演讲、知识竞赛，也搞文艺演出和专题展览
- B. 搞读书演讲、知识竞赛，不搞文艺演出和专题展览
- C. 搞文艺演出和专题展览，不搞读书演讲、知识竞赛
- D. 不搞读书演讲、知识竞赛，也不搞文艺演出和专题展览

解析：假设读书、知识是 A，文艺和专题是 B，则：

甲等价于： $A \rightarrow \neg B$ ，其矛盾命题是 A 且 B，A 且 B 的矛盾命题是 $\neg A$ 或 $\neg B$ ，所以 $A \rightarrow \neg B$ 等价于 $\neg A$ 或 $\neg B$ 。

同理乙等价于：A 或 B

丙等价于 $\neg A$ 。

所以甲、丙必错，则 A 且 B。

所以选 A。

19、老王在 A 市有两套住房，一套自己居住，另一套闲置。老张是老王的朋友，一直居住在 B 市，现由于工作原因，需要在 A 市长期租住。老张希望租老王闲置的那套房子，老王说：“我女儿两个月后大学毕业，如果她毕业后不回 A 市工作生活，我就把房子出租给你。”下列选项中，那些为真，可以证明老王没有说真话？（ ）

- ①老王的女儿毕业后留在 C 市工作生活，老王拒绝把房子租给老张
- ②老王的女儿毕业后回到 A 市工作生活，老王把房子租给老张
- ③老王的女儿毕业后回到 A 市工作生活，老王拒绝把房子租给老张

- A. ①
- B. ①②
- C. ②③
- D. ①②③

解析：提干是不回 \rightarrow 租房，矛盾命题是不回且不租房，只有①符合，所以选 A。注意提干是充分条件，不是必要条件，所以租房的原因可以不是不回，故而③是排除的。如果提干改成“如果她毕业后不回 A 市工作生活，我才把房子出租给你。”，则关系变为出租 \rightarrow 不回，矛盾命题是出租且回，那就选③了。

20、数据显示，全世界收看 2006 年世界杯足球赛电视转播的观众中，女性就占了 39%，在下一届比赛时该比例可望升高。“这是一种新现象，但其价值却被严重低估。”世界第四大关高营销集团阳狮媒体的首席执行长莫里斯。勒维说：“我们显然因此错失了商机。”由此可以推出：

- ①2006 年世界杯期间的大量广告集中在男性消费品上

- ②2010 年世界杯的女性观众人数可能将首次超过男性观众
 ③在转播世界杯比赛的电视广告中，将出现越来越多的女性消费品
 ④2010 年世界杯比赛的电视广告中，可能出现更多的女性消费品

- A. ①②③
 B. ②③④
 C. ①③④
 D. ①②④

解析：砖题库选 C，模块宝典选 D，感觉 D 更好些。

21、（ ）对于海啸 相当于 飓风 对于（ ）

- A.海滨 城市
 B.地震 灾难
 C.鱼类 鸟类
 D.海底 山谷

解析：是可能引起的关系，注意 A、C 次序错误，选 B。

22、电脑：鼠标

- A.汽车：方向盘
 B.拖拉机：履带
 C.北京故宫：珍妃井
 D.长白山：松树

解析：是一一对应关系，所以选 C。

23、下雨：路滑

- A.下雪：冰冻
 B.刮风：发电
 C.游泳：健身
 D.烧水：水增温

解析：是必然关系，所以选 D。

24、鲸：游水：海洋

- A.老虎：食肉：孟加拉国
 B.原子弹：爆炸：天空
 C.学生：学习：学校
 D.科学家：思考：人间

解析：鲸在海洋里游水是必然的，同理只有 D，注意原子弹不一定在天空中爆炸。

25、交通：拥堵：治理

- A.食材：讲究：享用
 B.生活：贫困：救济
 C.音乐：动感：聆听
 D.健康：虚弱：保健

解析：交通拥挤是治理的原因，同理只有 B。

26、竞争：共赢

- A.博弈：和棋
 B.判决：和解

C.买卖：互惠

D.球赛：平局

解析：共赢是竞争的一种结果，是优属性，选 C。

27、臭氧层：气候变暖

A.偷猎：物种灭绝

B.森林：水土流失

C.干旱：土地沙化

D.酸雨：水源污染

解析：考察属性对应关系，臭氧层遭到破坏加速气候变暖，同理只有 B。

28、光盘：刻录：存储

A.灯泡：通电：照明

B.纸张：印刷：阅读

C.卫星：发射：通信

D.布料：剪裁：御寒

解析：光盘和纸张都是数据的载体，所以亲缘关系最近的选 B。

29、植物：授粉：结果

A.米酒：发酵：保鲜

B.绿茶：采摘：加工

C.灯丝：导电：发光

D.石油：加热：沉积

解析：必要条件，且主体一致，只有 C 符合。

30、铅笔：写字

A.氧气：呼吸

B.汽车：比赛

C.积分：购物

D.电脑：上网

解析：考察属性关系，铅笔可以用来写字，电脑可以用来上网。

31、愚公移山：郑人买履

A.弄巧成拙：囫囵吞枣

B.杞人忧天：庖丁解牛

C.邯郸学步：东施效颦

D.凿壁偷光：田忌赛马

解析：主谓宾关系，所以选 B。

32、农药：污染

A.太阳：温度

B.运动：健康

C.噩耗：悲痛

D.电脑：辐射

解析：考察必然关系，选 D。

33、夏天：空调


A.师傅：骑车

B.省长：开会

C.年底：奖金

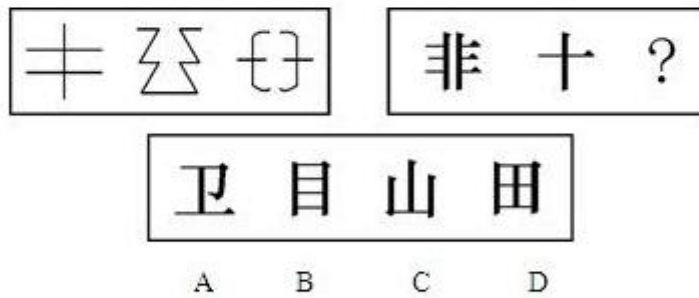
D.军人：打仗

解析：注意词性，锁定 C。交叉关系。



34、

解析：第一行三种图形，第二行一种，第三行两种，所以选 A。



35、

解析：开放图形，且都是轴对称，所以选 C。

36、

例题2 从所给的四个选项中,选择最合适的一个填入问号处,使之呈现一定的规律性:

36!

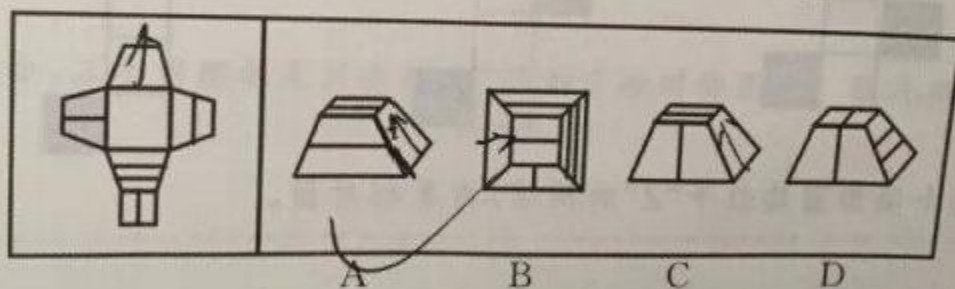


【答案】C

【解析】第1、3、5、7格的图形均为封闭图形,第2、4、6、8格的图形均为开放图形,故问号处应为封闭图形。四个选项中,只有C选项为封闭图形,故本题正确答案为C。

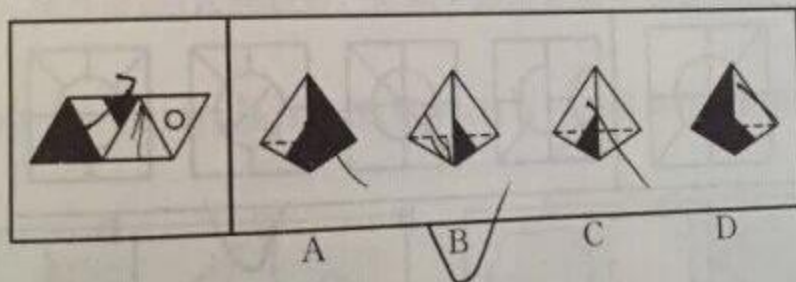
37、

左边给定的是纸盒的外表面,下面哪一项能由它折叠而成?




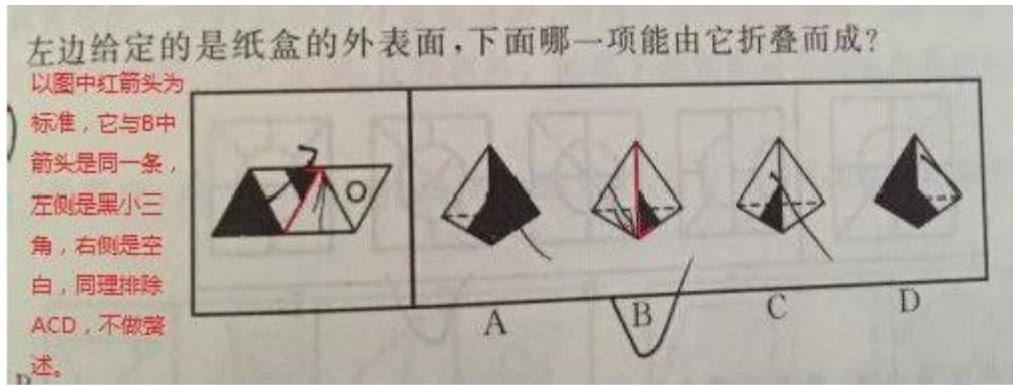
解析:画箭头,找公共边,注意是往里面折的,注意左右,得C。

左边给定的是纸盒的外表面,下面哪一项能由它折叠而成?



38、

解析:同样是箭头法,B对,C不对。

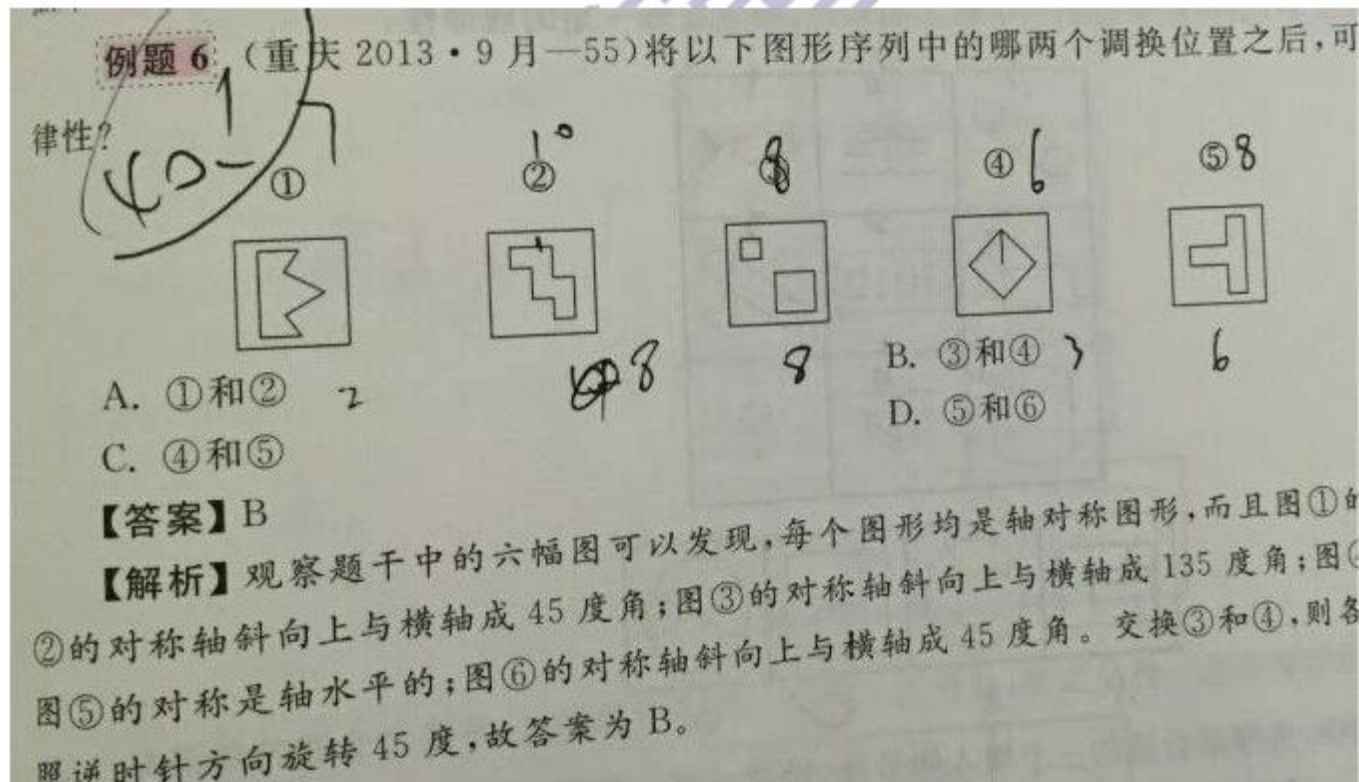


39、

A B C D

解析：下一层两个去同存异，得上一层，所以选 B。

40、



41、企业社会响应是指企业受社会伦理道德标准的引导满足社会某种普遍需要。根据上述定义，下列选项不属于企业社会响应的是（ ）。

- A. 某工厂发生污染事故，周边企业出资垫付事故赔偿金
- B. 工程队在工地周围铺设防尘网，减少粉尘造成的污染
- C. 某企业捐赠 3 亿股企业股票给慈善组织设立专项基金
- D. 某公司按照《残疾人保障法》的规定安排残疾人就业

解析：D 是法律，所以选 D。

42、视网膜效应，是指当一个人拥有一件物品或一项特征时，他就比平常人更会注意到其他人是否跟他一样具备这种物品或特征。以下不属于视网膜效应的一项是（ ）。

- A. 部门主管老宋心胸开阔而乐观，总能发现员工的优点并发挥他们的潜能
- B. 老王藏有一件明代瓷器，他热衷于结识同样收藏明代瓷器的爱好者
- C. 小李常抱怨别人对他说话时比较急躁，而事实上他自己的脾气也很不好
- D. 小刘看见有两个人穿的和她的衣服一样，她感慨怎么会有这么多人买相同的衣服

解析：视网膜效应的关键要件有：（1）一个人拥有一件物品或一项特征时；（2）同时关注他人是否拥有同样的物品或特征。并且这两个要件是与关系，两者缺一不可。在 A 选项中，老宋的乐观和员工的优点不是同一概念，所以排除。因此，本题答案为 A 选项。

43、有奖销售，是指经营者销售商品或者提供服务，附带性地向购买者提供物品、金钱或者其他经济上的利益的行为。包括：某时段内奖励所有购买者的附赠式有奖销售和奖励部分购买者的抽奖式有奖销售。以下不属于抽奖式有奖销售的是（ ）。

- A. 某移动通讯公司发短信告知用户，回复短信即可获得用积分兑奖的机会
- B. 某网上商城称到商城购买商品的前 10000 名顾客将获得每人 200 元代金券
- C. 某大型超市促销时规定，购物满 100 元可获一袋洗衣粉或者一条肥皂
- D. 某家具商场规定，开业一个月到该商场购物的顾客可享受九折优惠

解析：有奖销售的关键要件有：（1）主体：经营者；（2）方式：销售商品或者提供服务，同时附带性地提供物品、金钱或经济上的利益的行为。在 A 项中，移动公司发短信告知用户回复短信可以获得积分兑奖，不符合条件（1）。因此，本题答案为 A 选项。

44、不安抗辩权，是指当事人互负债务，有先后履行顺序的，先履行的一方有确切证据表明另一方丧失履行债务能力时，在对方没有履行或者没有提供担保之前，有权中止合同履行的权利。规定不安抗辩权是为了切实保护当事人的合法权益，防止借合同进行欺诈，促使对方履行义务。以下行使了不安抗辩权的一项是（ ）。

- A. 甲乙公司约定由甲公司在 5 个月内分批向乙公司供货，乙公司在 10 个月内每月付款 10 万元。甲公司货物供应完毕后，乙公司声称甲公司货物不合格，拒绝支付余下货款
- B. 甲乙签订房屋租赁合同，约定某日双方同时交租金并交付房屋。但时间到时，发现乙方房屋还被占用，甲方遂拒绝支付租金
- C. 某公司与演员甲签订演出合同，该公司应在规定日期预付演出劳务费 5 万元。后甲因车祸受伤住院治疗，该公司告知甲暂不支付该笔劳务费
- D. 老汪向某公司定制了一套设备，合同生效还未开始设计生产时就支付了 5 万元全款。后老汪因经营的公司倒闭，不再需要该设备，遂请求解除合同

解析：不安抗辩权的关键要件有：（1）互负债务；（2）先后履行；（3）先履行方确定另一方丧失履行债务能力。在 A 项中，甲公司供货，而乙公司拒绝支付剩余货款，不符合（3）。在 B 项中，双方同时交租金并交付房屋，不符合（2）。在 D 项中，由于公司倒闭导致合同解除，不符合（3）。因此，本题答案为 C 选项。

45、法律制定：是指有立法权的国家机关或经授权的国家机关，在法定的职权或授权范围内，依照程序制定、补充、修改和废止法律和其他规范性法律文件，以及认可法律的一项专门活动。依照上述定义，下列关于法律制定的说法正确的是（ ）。

- A. 法的制定实质上就是法的创立或立法，从根本上讲，就是掌握国家政权的阶级将自己的意志上升为国家意志的活动

B. 中国法律的制定是指中共中央和国家最高权力机关依照法定权限和程序，制定规范性文件的活动

C. 在现代社会，某些不产生国家意志的活动也属于法律制定活动

D. 从本质上讲，法律制定实际上就是特定国家机关运用专门技术的活动，立法技术运用的高低，直接关系到立法效果的好坏

解析：B 项中“中共中央”主体不符，排除 B 项；法律制定的目标主要在于将统治阶级的意志上升为国家意志，所以不产生国家意志的活动不可能属于立法活动，排除 C 项；D 项夸大了立法技术的作用，排除 D。故选 A 项。

46、基层群众性自治组织：是指我国依照宪法和法律有关规定，以城乡居民或村民一定居住地为纽带和范围设立的，并由居民或村民选举产生的成员组成的，实行自我管理、自我教育、自我服务的社会组织。依据上述定义，下列组织属于基层群众性自治组织（ ）。

A. 仙霞东区物业业主委员会和仙霞西区物业业主委员会

B. 仙霞村村民委员会和仙霞路居民委员会

C. 仙霞东区物业管理委员会和仙霞西区物业管理委员会

D. 仙霞东区街道办事处和仙霞西区街道办事处

解析：业主委员会，是指由物业管理区域内的业主根据业主大会议事规则选举产生，代表业主利益的组织机构，不符合自我服务的要件，排除 A；物业管理委员会也不符合“自我管理自我教育”排除 C；D 项中的街道办不是选举产生的，排除。村委会、居委会的本质就是“村民自治管理委员会”、“居民自治管理委员会”，B 为答案。

47、《宪法》第 40 条规定：中华人民共和国公民的通信自由和通信秘密受法律的保护。除因国家安全或者追查刑事犯罪的需要，由公安机关或者检察机关依照法律规定的程序对通信进行检查外，任何组织或者个人不得以任何理由侵犯公民的通信自由和通信秘密。依据上述规定，下列说法中正确的是（ ）。

A. 某市人民法院为了查明案情，根据需要，可以对当事人王某的手机通话记录予以查验

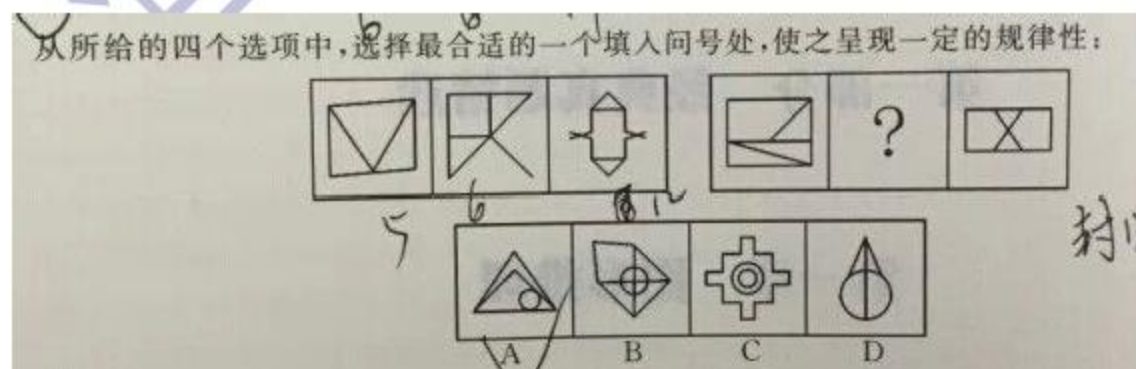
B. 某市人民法院不能对当事人王某所有与案件无关的通话记录予以查验

C. 无论什么理由，某市人民法院都不得对当事人王某的通话记录予以查验

D. 某市人民法院是否有权查验当事人王某通话记录并不重要，重要的是它有助于法院作出公正的判决

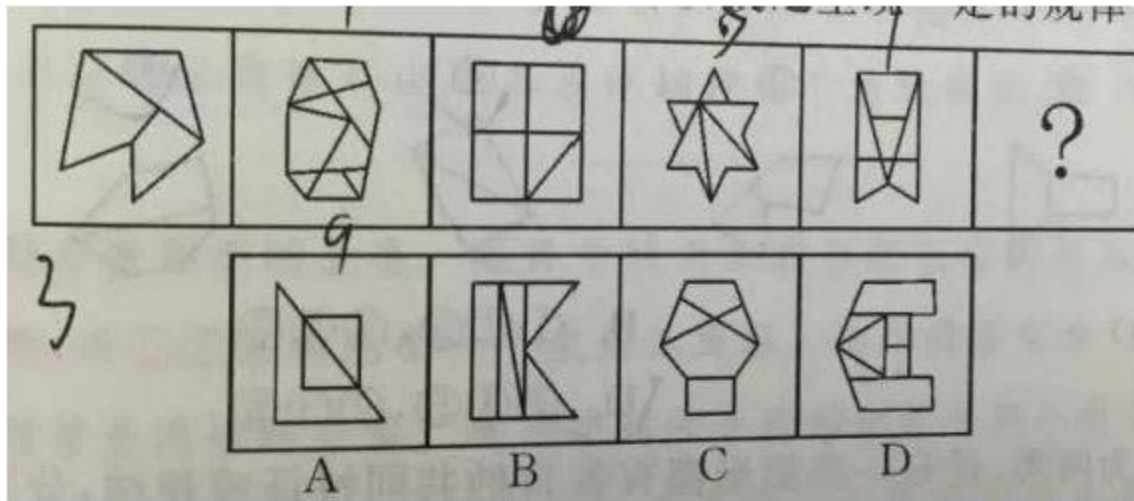
解析：“公安机关或者检察机关”是构成的主体。人民法院不在这个范围之内，无论任何理由都不能“侵犯公民的通信自由和通信秘密”，由此排除 A、B、D 三个选项。故答案 C。

48、



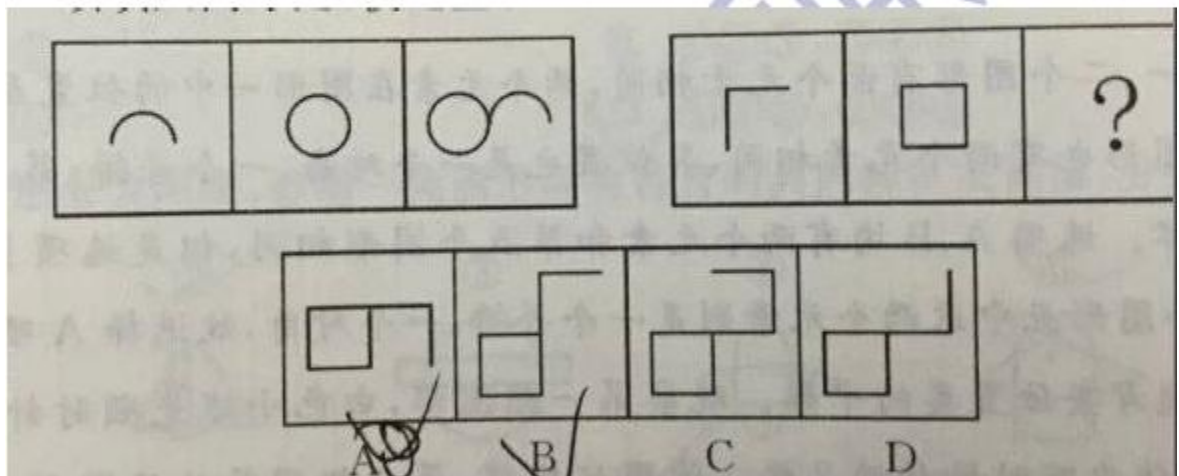
解析：封闭区间 3、3、3,4、4、4，对称轴 0、1、2,0、1、2，所以选 D。

49、



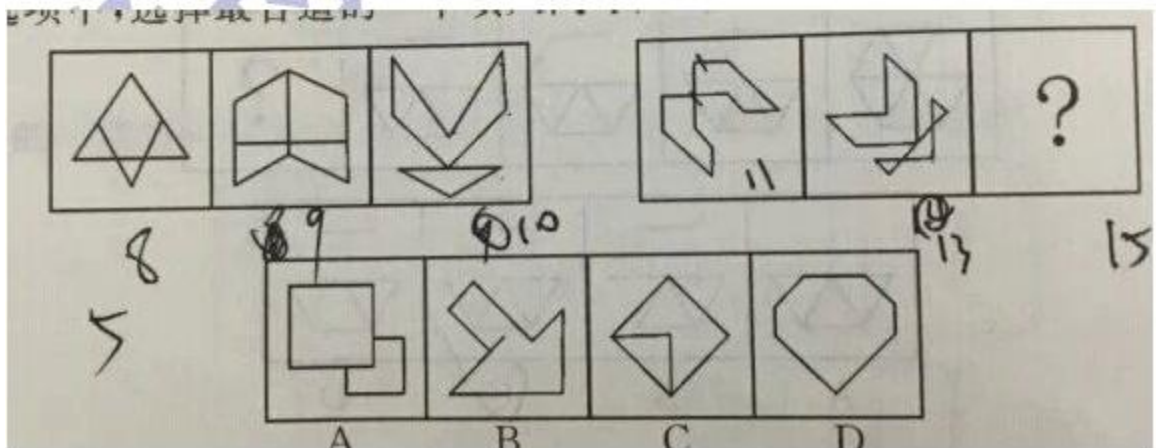
解析：每幅图四边形都比三角形多一个，所以选 D。

50、

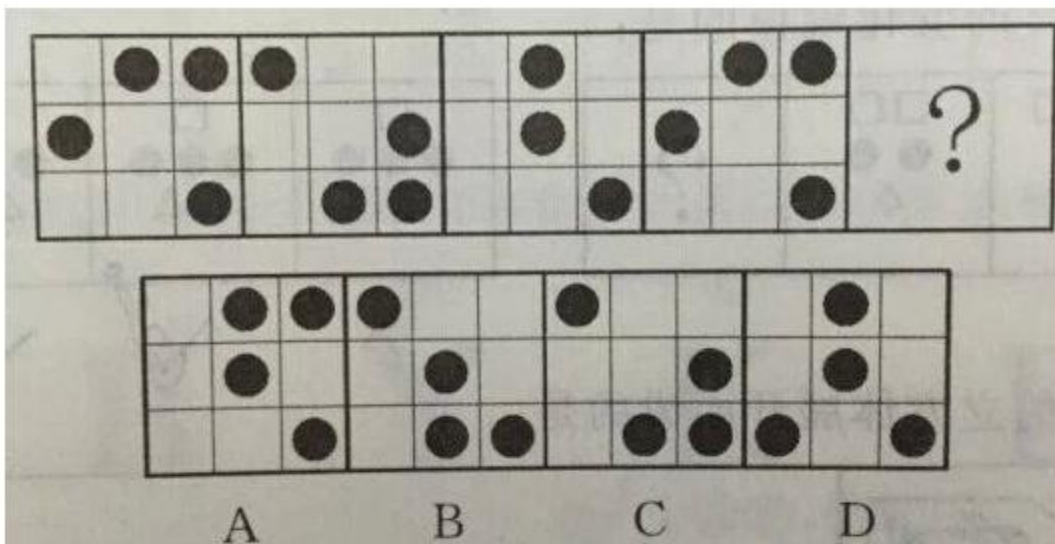


解析：先低叠加，再翻转，所以选 A。

51、



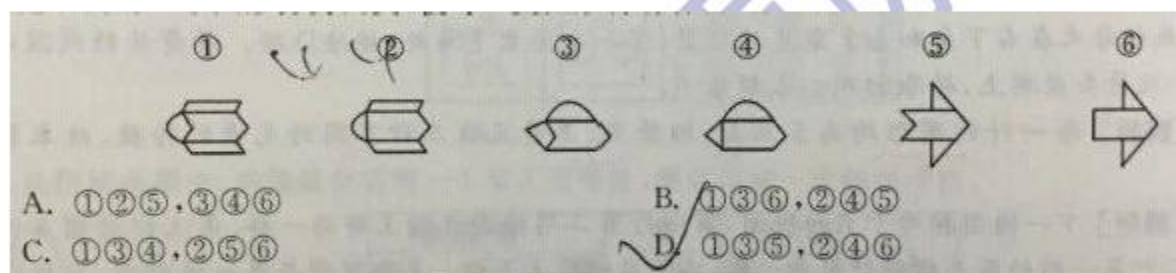
解析：考察对称轴方向，所以选 A。



52、


解析：不管怎么移动，观察到第四幅和第一幅一样，那么第五幅跟第二幅一样，所以选 C。

53、



解析：注意中间图形相同的分组，所以选 D。

54、



解析：分别是 3 个圆圈和 4 个圆圈，选 C。

55、红旗原则是指如果侵犯著作权的事实是显而易见的，网络服务商就不能装作看不见，或以不知道侵权的理由来推脱责任。

根据上述定义，下列适用红旗原则的情形是：（ ）

- A. 未经用户许可，某客户端软件就能够自动扫描、获取用户个人数据；
- B. 甲某利用网络服务商提供的免费存储空间，非法经营盗版影视作品；
- C. 乙某上传正在首播的某热门电视剧，并被网站编辑推荐到下载首页；
- D. 丙某通过第三方在有下载功能的互联网电视上获取未经授权的节目

解析：红旗原则定义的关键点：1.侵犯著作权；2.事实是显而易见的；3.主题是网络运营商。

A 项不涉及著作权，排除；C 可能是经过授权的，排除；D 项，丙某利用第三方软件下载未

授权节目，下载功能就好比使用迅雷，互联网电视就好比可以转载迅雷的电脑，属于个人行为，不是网络运营商的行为，排除。因此，本题选择 B 项。

56、电子反对抗是指防止敌方或己方的电子对抗措施影响己方的设备和人员作战效能所进行的各种活动，以防护己方的战斗力不遭受其损害，主要措施包含电子反侦察、电子反干扰、抗反辐射摧毁、抗定向能致盲和抗计算机病毒传染。根据上述定义，下列选项不涉及电子反对抗的是：

- A. 军事演习前，演习指挥中心提前对使用的电脑进行病毒查杀
- B. 发射车向敌方发射反辐射导弹，关闭己方电子设备以免误击
- C. 军舰在冲突海域降低雷达发射信号功率，并设置反辐射诱饵
- D. 为对抗敌方电子干扰，指挥部决定重要指令用固定电话下达

解析：

3. A 【解析】电子反对抗这一定义的关键词是“防止敌方或己方的电子措施影响己方的设备和人员”。A 项，演习指挥中心查杀病毒的做法，不能体现敌我双方的对抗，不涉及电子反对抗；B 项，关闭己方电子设备以免误击是为了防止导弹影响己方的设备；C 项，在冲突海域设置反辐射诱饵是为了防止敌方的电子对抗；D 项，用固定电话下达重要指令是为了对抗敌方的电子干扰。正确答案为 A。

57、知识溢出是指知识接受者将获得的知识与自有知识相融合后得出新的知识，却没有给予知识的提供者以补偿，因而提供者没有享受原知识的全部收益，或者给予的补偿小于知识创造的成本，接受者自觉或不自觉地未承担知识的全部成本的现象。根据上述定义，下列属于知识溢出的是：

- A. 学生从辅导班学到了某题的解题方法和技巧，并且可熟练地解答这一类型的题目
- B. 某公司代理国外知名电子产品的生产与销售，后引入生产线为这款电子产品生产配套的充电设备，公司效益大增
- C. 某公司通过与海外研究机构联合工作，引入对方的技术开发出一款新产品，双方约定共享产权和效益
- D. 某城市设计机构参与了另外一个大城市的路网规划方案，结合本市原有设计方案和实际情况设计了新区交通网络

解析：知识溢出是指（1）知识接受者将获得的知识与自有知识相融合后得出新的知识，（2）没有给予知识的提供者以补偿，（3）接受者自觉或不自觉地未承担知识的全部成本的现象。

A 选项是在辅导班学到知识，这些知识不是新知识，所以与定义不符，排除。B 选项引入生产线是有补偿的，但是补偿的多少是不知道的，所以无法确定是不是高于原有的价值，所以排除。C 选项是共享产权和效益，显然是提供补偿了，排除；D 项参考了设计没有给予补偿，符合定义。因此，本题答案选择 D 项。注意 B 项只是引入设备，没有创新。

58、动力定型是指一种在固定程序的条件作用下建立的暂时联系系统。在这一种系统内，各个条件刺激被严格的序列和时间呈现。以获得每个刺激确切而不变的效果，最后的效果就是在大脑皮质的活动中建立了一种动力定型。下列不符合此理论的是（ ）。

- A. 乒乓球运动员通过练习确保击球的稳定性
- B. 小学生学习写字过程中老师不断纠正姿势
- C. 篮球明星每天都要练习超过一千次的投篮
- D. 动物园饲养员喂动物之前每次都要吹口哨

解析：动力定型是指一种在固定程序的条件作用下建立的暂时联系系统。是要在多个条件刺激下形成的序列和时间呈现。A 选项乒乓球运动员是通过练习确保稳定性，具体就是挥拍出

手的稳定，击球的稳定。所以符合定义。**B** 选项教师指示初学写字的儿童“坐直”“头不要偏”等，就能制止那些不必要的动作，使有关皮质区域的兴奋过程更快集中，加速技能的形成。**C** 选项篮球的投篮，就像是炮弹的发射。首先发射架要保持相对的稳定，才可能打的准。也就是要求有稳定的动力定型。简单划分的话，就是下盘功夫和上肢的动力定型。**D** 选项知识存在单一的口哨声，因此，本题答案为 **D** 选项。

59、根据我国《合同法》的规定，要约是希望和他人订立合同的意思表示，要约必须表明经手要约人的承诺，要约人即受该意思表示约束。根据上述定义，下列选项中属于要约的是（ ）

- A. 甲对乙说：“我打算卖掉我的手机，价格 1 千元左右吧”
- B. 西安火车站的始发列车时刻表
- C. 某报纸征稿启事：“凡我报选用者按 200 元/千字从优支付稿酬”。
- D. 某培训机构打出广告：“高级辅导班 2000 元/人，随到随学”。

解析：在 **A**、**B**、**D** 选项中，没有体现希望与他人订立合同，所以排除。**C** 选项是征稿启事，体现了与他人订立合同的希望，同时支付稿费是要约人的承诺，符合定义，因此本题答案为 **C** 选项。

60、所谓联觉就是指一种感觉引起另一种感觉或一种感觉因另一种感觉的同时作用而得到加强的心理现象。根据上述定义，下列选项中不属于联觉的是（ ）

- A. 有人在看到红色时会兴奋
- B. 在炙热的阳光下，小刘戴上墨镜会感到舒服些
- C. 小张想起昨天晚上的噩梦，依然心存恐惧
- D. 深色的服装比浅色的服装看上去有收敛的效果

解析：定义中联觉的要求得有两种感觉，一种感觉引起另一种感觉，**A** 项中看到红色是一种感觉，引起了另一种兴奋的感觉，因此属于联觉；**B** 项阳光给人带来炙热的感觉，而通过墨镜阳光被遮挡后可以引起舒服的感觉，所以也属于联觉；**D** 项是由对颜色的直观感觉引起了收敛的视觉效果这一感受，所以也属于联觉；而 **C** 项由噩梦本身就是恐惧再想起来还是只有恐惧感，所以只有一种感觉，不属于联觉。因此，本题答案为 **C** 选项。

61、共同共有：是指两个或两个以上的共有人对共有财产享有同等权利并承担同等的责任和义务。根据上述定义，下列哪一种情况属于共同共有？

- A. 某百万富翁立下遗嘱，言明他所有的存款及房产折价后，平等地分给他的两个儿子，两个各享一半财产的继承权
- B. 某大学的学生宿舍按规定应该每个宿舍住六个人，由于人数原因，最后一个安排的宿舍里只有三个人。后学校给每个宿舍配了一台饮水机，住三个人的宿舍也装了一个
- C. 某风险投资商投资于某一正在发展的小型型企业，并言明该企业以后实行股份制，企业董事长拥有 30% 的股份，风险投资商占有 70% 的股份
- D. 两个伙伴合开办了一家公司，一个负责经营，一个负责开发，但他们在合伙前就以书面公正的形式言明，两人共同拥有这家公司，但是一旦破产欠债，管开发的人不负责还债

解析：共同共有满足以下三个条件：1. 客体：共有财产；2. 同等权利；3. 同等的责任。**A** 各享一半财产的继承权，即是把财产一份为二，各占一半，不再是共有财产了，不符合 1；**C** 拥有股份不同，即没有享有同等权利，不符合 2；**D** 一旦破产欠债，管开发的人不负责还债，这个不符合 3，只有 **B** 选项完全满足三个条件，因此正确答案为 **B**。

62、公务员的辞退：是指国家机关用人单位或单位根据法律规定，在一定条件下解除其与工作人员职务关系的行为或事实。下列何种行政行为一定属于辞退：

- A. 公务员王某在任职不到一年的时间里就无故旷工累计达三十天，按公务员有关条例不得离开该单位
- B. 张某在某机关工作至今整整三十年。今年年满六十，回家安度晚年
- C. 周某去年九月通过考试被录取到省政府办公厅从事秘书工作，虽勤勤恳恳仍难称职，有关部门依据“国家公务员暂行条例”，不得不请其另谋高就
- D. 某公务员离职申请得到主管部门批准，离开原单位到某公司任职

解析：公务员的辞退的定义满足三个条件：1.国家机关用人单位或单位；2.根据法律规定；3.解除其与工作人员职务关系。B 不符合 3；C 项“另谋高就”不意味着解除工作关系；D 项，某公务员主动申请离职，不属于辞退，因此正确答案为 A。

63、权利：义务

- A.职权：责任
- B.分散：集中
- C.顺利：挫折
- D.骄傲：谦虚

解析：对应关系，只有 A 符合。

64、茶杯：咖啡：植物

- A.书包：文件：组织
- B.农具：禾苗：田野
- C.机关：职员：员工
- D.医院：病人：公民

解析：种属关系和对应关系，符合的只有 C，咖啡属于植物的一种。

65、读书：治学

- A.收获：耕种
- B.继承：传播
- C.归纳：总结
- D.战争：战役

解析：读书是治学的一种方式，符合的只有 C。

66、狗、猪、鸡：窝、圈、舍

- A.父母子：爸妈儿
- B.色声味：眼耳鼻
- C.鱼虾蟹：湖海河
- D.楼房屋：顶梁帐

解析：对应关系，只有 B。

67、兼济天下：独善其身

- A.扶危济困：落井下石
- B.前车之鉴：后顾之忧
- C.出双入对：形单影只
- D.好高骛远：好大喜功

解析：反义关系，落井下石是贬义词排除，选 C。

68、刻薄不赚钱，忠厚不折本

- A. 骏马不等鞭，响鼓不重锤
- B. 慷慨杀身易，从容就死难
- C. 枯木难复活，惯贼难悔悟
- D. 谦虚使人进步，骄傲使人落后

解析：每句两对反义词，符合的只有 D。

69、中国社会的未来发展，离不开包括儒学在内的传统文化的滋养和作用，这一点已被越来越多的人所认同和接受。因此，大力弘扬中国传统文化的优良传统应当成为当前我国文化建设的一项重要内容。以下最能够支持上述主张的一项是()。

- A. 中国传统文化中的许多优良传统面临将要失传的危机
- B. 许多地方政府加大了对本地各类文化遗产的保护和宣传力度
- C. 经过历史沉淀的传统文化对一个民族具有无可替代的积极作用
- D. 传统文化对经济社会发展的积极作用在越来越多的地方呈现出来

解析：这是一道加强论证题目。题目中的主张是：中国社会的发展离不开传统文化的滋养和作用，所以大力弘扬中国传统文化的优良传统应成为当前我国文化建设的一项重要内容。D 项，说明传统文化对社会的发展有积极作用，支持了论证。正确答案为 D。A 项和 B 项均与论证无关；C 项，传统文化对民族的积极作用不一定能体现在我国社会的未来发展上，故不能支持；

70、因为规定“黄灯亮时，已超过停止线的车辆可以继续通行”，所以，黄灯亮时，未越过停止线的车辆不能继续通行。下列哪项的论证逻辑为此最为不同？

- A. 因为规定“间歇性的精神病人在精神正常的时候犯罪，应当负刑事责任”，所以，间歇性的精神病人在精神不正常的时候犯罪，不应负刑事责任。
- B. 因为规定“尚未制定法律的，行政法规可以设定行政许可”，所以，已经制定法律的，行政法规不可以设定行政许可。
- C. 因为规定“申请小型汽车驾驶证的年龄条件为 18 周岁以上，70 周岁以下”，所以，不满 18 周岁以及超过 70 周岁的公民不能申请小型汽车驾驶证。
- D. 因为规定“18 周岁以上的公民，可以独立进行民事活动”，所以，不满 18 周岁的公民，不能独立进行民事活动。

解析：题干中前半句为“超过停止线→继续通行”，否前否后等价“不超过停止线→不继续通行”，ABD 都是相似的推理，C 选项为否后推否前，故选 C。

71、一旦消费者认识到通货膨胀已经开始，他们普遍都会增加消费。这种增加很容易通过消费者希望不再推迟购买那些肯定会涨价的商品这一现象得到解释。尽管消费者预料到价格持续上涨，工资也会随之上涨，但是在长期通货膨胀期间，消费者最终还是会推迟那些甚至是日常生活品的购买。下列()项如果正确，最能有助于解释上述描述的消费者行为的明显不一致。

- A. 消费者在通货膨胀期间存的钱比非通货膨胀期间存的钱多
- B. 通常经济指标发出通货膨胀已经开始的信号和消费者意识到通货膨胀已经开始之间有一个滞后
- C. 如果很大数量的消费者不能购买商品，那么价格最终会降下来，但是工资不会受到影响
- D. 因为工资的增长跟不上物价的上涨，所以消费者的购买力在长期通货膨胀阶段有所下降

解析：本题为原因解释类题目。题干的矛盾之处在于：一旦消费者认识到通货膨胀已经开始，

他们都会普遍增加消费。但是在长期通货膨胀期间，消费者最终会减少消费（推迟购买）。

D 项能够说明为什么在长期通胀期间，尽管工资也有所增长，但消费者依然会减少消费。故本题答案为 D。A 项由于通胀期间工资也会随之上涨，因此 A 项即使存款增多，也不能证明消费者会减少消费。B 项只了解释在通胀开始后，消费者没有马上增加消费的原因，不能解释题干的矛盾。C 项解释的是工资不会受到影响，为无关选项。

72、在《创新管理》课堂上，张教授对学生讲：“企业创新成功与否是以创新绩效来衡量的，一个企业要么创新绩效高，要么创新绩效低，在我看来，一个企业要么创新成功，要么创新失败，由于创新绩效高的企业在我看来都是创新成功的企业，所以创新绩效低的企业在我看来都是创新失败的企业”为了使张教授的论证成立，下列假设中必须成立的一项是（ ）

- A. 因企业所从事的业务领域不同、某创新绩效有不同的表现形式，因而很难对企业的创新绩效进行评判
- B. 在张教授看来，创新绩效高的企业未必是创新成功的企业，创新绩效低的企业也就是创新失败的企业
- C. 在张教授看来，创新绩效高的企业就是创新成功的企业，创新绩效低的企业也就是创新失败的企业
- D. 创新绩效高低具有客观评价标准，使张教授具有区分创新绩效高低的能力

解析：本题属于加强论证题型，题干中张教授的意思是说企业的成功与失败与企业的绩效有关系，变为同集关系只有 C。

73、制度化逃避：是指当某些社会行为规范不相协调以致相互冲突时，人们利用一种社会制度所允许的行为规范来对抗另一种规范以逃避可能遭到的制裁的现象。即当某种行为在用一套行为规范衡量可能会被制裁时，行为者利用另一套行为规范作为挡箭牌，保护自己的行为。由于后一种行为规范也是社会制度所认可的，所以这种现象称为制度化逃避。

以下属于的是：

- A. 赵某借改革假公济私，所谓“你有政策，我有对策”。
- B. 张某实施抢劫后担心被抓，于是跑到外地躲风声。
- C. 王某用言语激怒李某动手，然后再用“正当防卫”的理由打残李某。
- D. 薛某销售盗版书籍，却辩称自己也是在传播文化。


解析：选 A，其他的都不能免除惩罚。

74、（ ）对于 贵州 相当于 珠江 对于 （ ）

- A. 塔里木河 广东
- B. 乌江 云南
- C. 海河 西藏
- D. 黄河 新疆

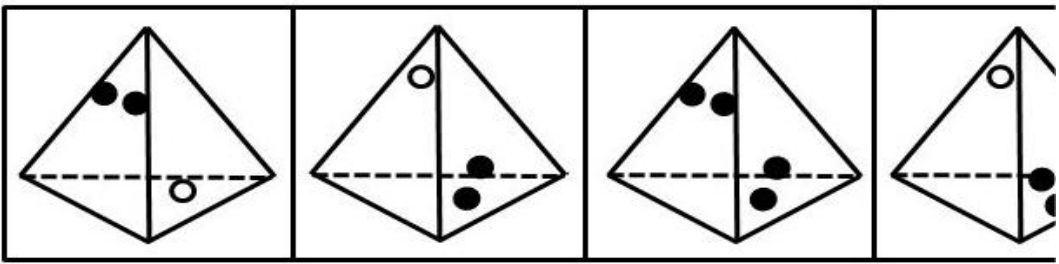
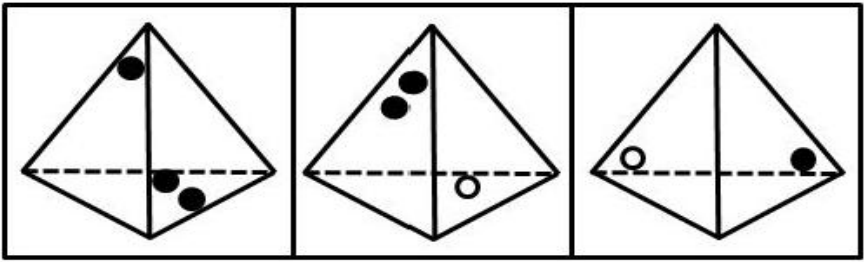
解析：发源地，选 B。

75、



解析：外面图形的直线式里面图形的两倍，选 B。

76、



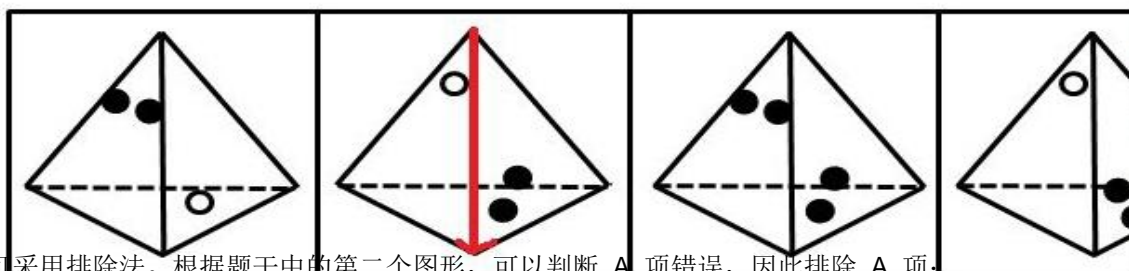
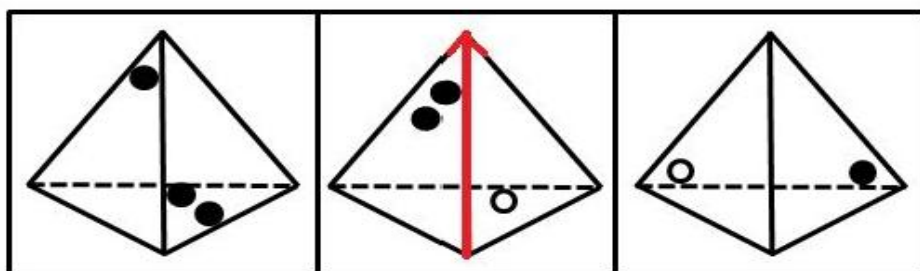
A

B

C

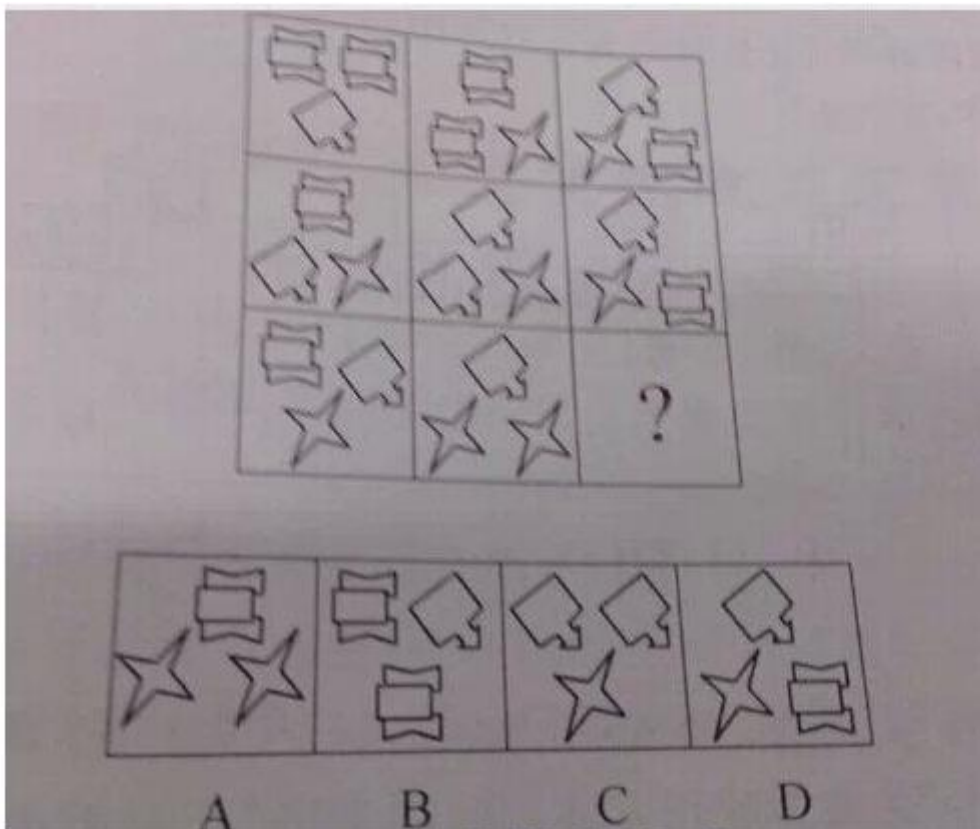
D

渔舟唱晚



解析：题可采用排除法。根据题干中的第二个图形，可以判断 A 项错误，因此排除 A 项；根据题干中的第一个图形，可以判断 D 项错误，因此排除 D 项；根据题干中的第一个图形，可以判断 C 项右侧面中应为一个黑点，因此排除 C 项。

渔舟唱晚



77、

解析：所有的图形遍历，三种各 9 个，选 D。

78、79(单选题)张飞和李柏今年都报考了 MBA，关于他们的考试有如下四个断言：(1)他们两人至少有一个考上；(2)张飞并不必然考上；(3)李柏确实考上了；(4)并非张飞可能没考上。最后录取结果表明：这四个断言中有两个是真的，两个是假的。下面哪一个结果可以从上述条件推出？

- A. 张飞考上了，李柏没考上
- B. 张飞和李柏都考上了
- C. 张飞和李柏都没考上
- D. 李柏考上了，张飞没考上

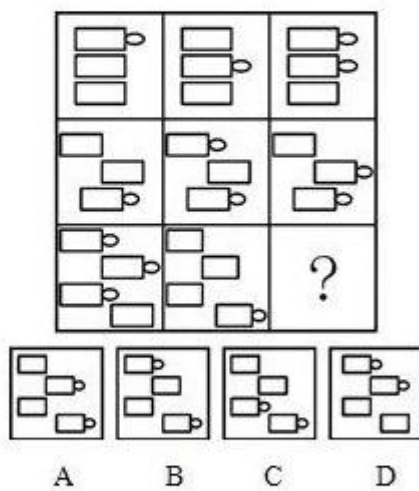
解析：题干可以简化为：(1) 张飞或者李柏；(2) 非必然；(3) 李柏；(4) 非可能不。根据模态知识，“必然”跟“可能不”是矛盾关系，即(2)、(4)必有一真、必有一假。题干告诉我们的两个是真的，两个是假的，这意味着(1)、(3)也必有一真、必有一假。我们假设(3)为真，则(1)一定也为真，跟题干相冲突了，这意味(3)为假，(1)为真，根据(3)为假，(1)为真，我们可以推出张飞考上了、李柏没考上。

79、甲(男)、乙(男)、丙(女)、丁(女)、戊(女)五个人有亲戚关系，其中凡有一个以上兄弟姐妹并且有一个以上儿女的人总说真话；凡只有一个以上兄弟姐妹或只有一个以上儿女的人，所说的话真假交替；凡没有兄弟姐妹，也没有儿女的人总说假话。他们各说了以下的话：甲：丙是我的妻子，乙是我的儿子，戊是我的姑姑。乙：丁是我的姐妹，戊是我的母亲，戊是甲的姐妹。丙：我没有兄弟姐妹，甲是我的儿子，甲有一个儿子。丁：我没有儿女，丙是我的姐妹，甲是我的兄弟。戊：甲是我的侄子，丁是我的侄女，丙是我的女儿。根据题干给定的条件，能够推出下面为真的一项是()。

- A. 甲说的都是真话，丙是他的妻子

- B. 乙说的真假交替，他的母亲是戊
- C. 丁说的都是假话，她是甲的姐妹
- D. 戊说的都是真话，丙是她的姐妹
- E. 丙说的真假交替，她是甲的母亲

解析：我们注意到每人都说了三句话，而且只有丙和丁说的第一句话含否定的，因此，尝试从丙和丁说的第一句话入手。对任何一句话来说只有两种情况，即要么真，要么假。第一种情况：假设丙说的第一句话“我没有兄弟姐妹”为真，即丙确实没有兄弟姐妹，她不可能都说真话（因为总说真话的人必须有一个以上兄弟姐妹并且有一个以上儿女），因此，丙说的三句话只能是真假交替，既第二句话必为假，第三句话必为真。第二种情况：假设丙说的第一句话为假，则说明她有兄弟姐妹，既然丙说的话里面有了一句假话并且她有兄弟姐妹，因此她说的话只能是真假交替，则第二句话为真，也就是说她有儿子，这样，丙就有一个以上兄弟姐妹并且有一个以上儿女的人，因此她说的话应该都为真，因此与“假设丙说的第一句话为假”矛盾，所以第二种情况不可能。从中得出，丙说的话只能是第一种情况，即“真假真”，有丙说的第三句话为真，可知甲必有一个儿子。用同样的方法，可知丁说的三句话和丙一样，也只能是“真假真”，由此得出“甲是丁的兄弟”，也就是说甲有了这个姐妹，加上甲有一个儿子。所以，甲肯定是总说真话。因此得出 A 为正确答案。



80、

解析：本题考察的是元素的位置。九宫图中，以行为单位，每一行第三个图形最上面的部分跟第一个图形最上面的部分相同，最下面的部分跟第二个图形最下面的部分相同，中间部分不看。依此规律，第三行第三个图形最上面的部分跟该行第一个图形最上面的部分相同，为长方形加圆点，最下面的部分跟第二个图形最下面的部分相同，也是长方形加圆点。四个选项中，只有 B 项的图形符合这一规律。故正确答案为 B。

81、科学家们运用有关原理，在其他情况保持不变的条件下，根据心肌梗塞病情发展越厉害，头发中的含钙量就相应的越加减少的事实，即头发含钙量的减少状况与心肌梗塞病情的发展之间有定量的共变关系，得出了结论：通过对头发中含钙量的分析，是可以预断心肌梗塞病情的发展状况的。这一结论的得出运用了

- A. 演绎推理
- B. 归纳推理
- C. 类比推理

D. 求因果联系的逻辑方法

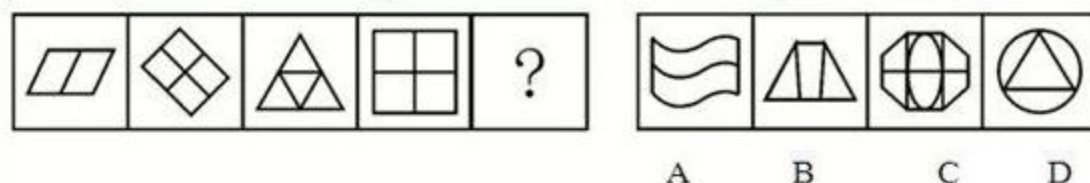
解析： 题干先说“头发中钙含量变化，心肌梗塞发展也变化”，即“头发中钙含量”和“心肌梗塞发展”共变，而后推出“钙含量与心肌梗塞病情间有因果关系”。由共变关系推出二者具有因果关系，这符合共变法的逻辑推断形式。共变法是判明现象因果的一种方法，故正确答案为 D。

注：演绎推理：从一般性的前提出发，通过推导即“演绎”，得出具体陈述或个别结论的过程。

归纳推理：从个别性知识推出一一般性结论的推理。类比推理：根据两个或两类对象有部分属性相同，从而推出它们的其他属性也相同的推理。共变法：探求现象因果联系的方法之一。

在被研究的现象发生变化的若干场合中，如果只有一种发生变化的先行情况，那么这种情况就是该现象的原因。

82、



解析： 本题属于数量类，数元素种类，题干中每幅图各有特点，但是其共性是每幅图都是由相同的元素构成，元素种类数都为 1，因此，本题答案为 A 选项。

规律类图形推理，从整体上观察，图形组成凌乱归于数量类，元素呈现数字规律，包括两种，一种是元素的种类数，一种是元素的数量数，一般种类数的规律要易于数量数的规律，从简单处着手。

83、生理学家发现，人类掌管记忆和思维等高级认知功能的大脑皮质在正常情况下有 6 层，如果胎儿缺乏一种名为“Cdk5”的酶，大脑皮质的发育就会变得极为缓慢，无法最终形成正常大脑皮质的 6 层结构，从而严重影响儿童认知发展。一些医药界人士推测，利用这一发现，将有望研发出药物，普遍提高学生的学习能力。如果以下各项为真，哪项不能质疑上述推测？()

- A. 人体不能吸收外部补充的“Cdk5”酶
- B. 学生的学习能力主要是通过后天学习获得的
- C. 一些脑部“Cdk5”酶含量高的人学习能力并不突出
- D. 青少年过了脑发育关键期后，补充“Cdk5”酶不起作用

解析： 本题属于多种削弱方式综合考查的题型。

论据：（1）胎儿缺乏“cdk5”酶，大脑皮质发育变缓，无法形成 6 层结构，影响儿童认知发育；

（2）人类掌管记忆和思维等高级认知功能的大脑皮质在正常情况下有 6 层；

论点：服用“Cdk5”药物→提高学生的学习能力。

C 项说脑部 cdk5 酶含量高的人学习能力不突出， 题目中说，缺乏 cdk5 酶，学习能力会下降，并没有说，含量高的人怎么样，属于无关项，不能对题目提出质疑，因此，本题答案为 C 选项。

84、替代效应是指当某种税的征收或税率变化影响相对价格或相对效益时，人们就选择另一种消费或活动来代替原先的消费或活动。根据上述定义，下列不涉及替代效应的是（ ）。

- A. 我国加入 WTO 后，不少进口商品的税率降低，人们更多地选购这些商品

B. 工资累进税率提高后，不少白领阶层选择用休息的方式来代替部分工作时间

C. 1747 年英国曾征收窗户税，为了避免纳税，多数人纷纷将自家的窗户堵上

D. 国家开始对工业锅炉烧用的原油征税以后，不少企业纷纷更新设备或改用其他原料

解析：在 C 选项中，“将自家的窗户堵上”不涉及另一种消费或活动，A 项中的“这些商品”、B 项中的“休息的方式”和 D 项中的“更新设备或改用其他原料”都符合“另一种消费或活动来代替原先的消费或活动”，所以选择 C 项。

85、英国剑桥大学专家称，早期人类的大脑比现代人类更大，而且现代人类比早期人类身材矮小 10%。这项研究颠覆了此前的理论——现代人类伴随着进化变得更高、更强壮。科学家称，这种人类进化衰减性出现在过去一万年左右，很可能是由于农业的出现导致的。农业耕作出现之后，人类受限于食物种类的减少以及疾病的蔓延，所以出现了进化衰减现象。

以下哪项如果为真，最不能质疑研究人员的假设？（ ）

A. 据研究，人类大规模农业耕作出现在 5000 年前

B. 一万年前，居住在非洲的人身材和现代人类差不多

C. 随着农业水平的提高，人类的食物种类远多于一万年前

D. 早期人类患病没有办法医治，身残体弱者在进化中均遭到淘汰

解析：考查不能削弱类。题干研究人员的假设是“现代人类进化出现衰减现象，原因是农业耕作的出现使人类受限于食物种类减少以及疾病蔓延”。D 项，早期人类疾病无法医治，身残体弱者被淘汰，与题干中的衰减现象和农业耕作无关。因此，选择 D。

A 项说大规模农耕出现在 5000 年前，而题中指出人类进化的衰减出现在过去一万年左右，质疑二者的因果关系；B 项说明人类进化没有衰减，直接削弱结论；C 项说人类的食物种类更多，质疑前提中的“因为食物种类的减少”。

86、在某次调查中，有高达 2/3 的受访者认为目前影响安全感的最重要的因素是收入高低。分析不同收入人群的安全感，发现月收入在 3000—6000 元的人群，安全感要明显低于月收入 6000—8000 元的人群。因此，收入越低，安全感越低。以下哪项如果为真，不能削弱上述观点？（ ）

A. 收入在 3000—6000 元的人群生活成本比其他群体更高

B. 很多人认为收入稳定比收入多更易给人安全感

C. 收入在 1500—3000 元的人群更有安全感

D. 收入不是影响安全感的唯一因素，食品、婚姻等都对安全感有同等重要的作用

解析：该题的论点是：收入越低，安全感越低。即收入高低会影响安全感。论据是对比试验。

选项 A 中的“生活成本”与题干的论题无关。因此，不能削弱的是 A 选项。选择 A。

B 选项用的是另有它因；C 选项说收入低的安全感更强，直接削弱论点；D 选项说有其他原因也会影响安全感。

87、游说是指个人或组织有目的地利用语言、文字或其他传播媒介对特定信息进行解释、说明，以鼓励自己的受众按照自己的意图行事的一种劝服性传播。

根据上述定义，下列属于游说的是：

A. 宣传栏中展示了定期少量献血并不会给身体带来危害，反而有利健康的资料

B. 张教授以图文并茂的方式介绍了自己的研究，学生们都觉得受益匪浅

C. 社区开展了一系列“防害灾害”活动，给每家每户都发放了蟑螂药

D. 妈妈答应了小明，如果他今天中午能多吃一碗饭，周末就带他去公园

解析：此定义的关键词是：“利用语言、文字或其他传播媒介”、“鼓励自己的受众按照自己的意图行事”、“一种劝服性传播”。

选项 A 符合定义的要件。

B 选项不符合“鼓励自己的受众按照自己的意图行事”；

C 选项不符合“利用语言、文字或其他传播媒介”；

D 选项不涉及传播。

88、相邻效应指的是个体或者组织的付出和其应该获得的利益之间存在不一致，但由此形成的费用差别和收益差别在社会上却没有相应的弥补来源。

根据上述定义，下列不涉及相邻效应的是：

A. 某厂训练的熟练工跳槽到其他厂家工作

B. 工厂的生产活动中产生的允许范围内的噪音对周边居民的生活有影响

C. 甲厂生产的品牌电脑非常畅销，乙厂也盗用该品牌进行销售

D. 邻居甲家养护良好的草坪花木常常使得习惯早起的乙神清气爽

解析：此定义的要件是“付出和其应该获得的利益之间存在不一致”、“费用差别和收益差别在社会上没有相应的弥补来源”。C 选项中乙厂的行为是违法行为，甲厂可通过法律途径追回损失，即有相应的弥补来源，故不涉及相邻效应。A 选项中“熟练工跳槽”、B 选项中“居民忍受允许范围内的噪音而得不到补偿”、D 选项中“甲养的花，而获利的是乙”都符合相邻效应。此题要求选择不涉及该定义的，因而选择 C 选项。

89、计算机的普及和网络的出现正改变着社会信息的传播方式，也改变着人们的娱乐方式，同时也使传统媒体受到巨大的冲击。许多人在计算机前花费不少时间，甚至变成了“网络孤独症”患者。由此可以推出（ ）。

A. 电影的不景气是由计算机的出现造成的

B. “网络孤独症”的病因是因为有了计算机

C. 不与人接触是产生“网络孤独症”的一个原因

D. 长期与计算机打交道对人的身体有害

解析：时间对每个人都是公平的，花费“不少时间”在计算机，与人接触的时间就会变少，或者仅通过计算机为媒介与人相处，成为产生“网络孤独症”的“一个原因”，另外“一个”表述也比较严谨。

A“电影”无中生有，无法推出。B 由上文，更确切的说法，或者说与 C 可以抗衡的表述为，例如：“网络孤独症”的病因之一是网络的发展。D 对身体有害不同于对心理有害，属于偷换概念。

90、奥林匹克运动会的赞助商要想通过奥运会取得商业上的成功，仅仅在名片上增加“五环”或支起帐篷招揽游客是远远不够的。近 15 年来，作为奥林匹克运动会的全球性赞助商，VISA 国际组织认为要想有效地利用这一全球最大的体育和文化盛事，并非只是简单的往奥运圣火里扔钱的活动。据此我们知道（ ）。

A. 通过对奥运会的赞助以达到商业上的成功，还需要有效的市场营销

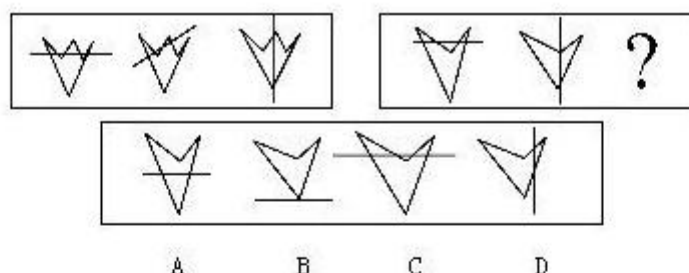
B. 赞助奥林匹克运动会是一种往奥运圣火里扔钱的活动

C. VISA 国际组织是全球最大的奥林匹克运动会赞助商

D. VISA 国际组织没有支起帐篷招揽游客

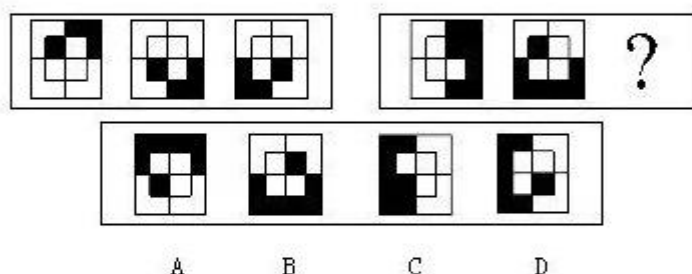
解析：由题意可知，对奥运会的赞助是商业成功的必要条件之一，而不是商业成功的充分条

件，要达到商业上的成功还要考虑到市场营销方面是否有效。故答案为 A。选项 B、C、D 都不能从题干中推出来。结论类题目要以题干为主，论题要保持一致，不能无由猜测。



91、(单选题)

解析：观察第一套图可发现：后一个图中直线与多边形的交点要少于前一个图中直线与多边形的交点。将第一套图形的规律运用到第二套图形中，因此本题答案为 B 选项。



92、

解析：本题属于两段式图形旋转题。第一段图形最里面的小方块绕中心在做逆时针旋转，外面的大黑框绕中心在做顺时针旋转。然后再看第二段图形，由前两个图形可得，小黑方块绕中心在做逆时针旋转，大黑框绕中心做顺时针旋转，所以按照这个规律，应该选择 C。

93、行政处罚：是指行政相对人违反行政管理，依法应当给予处罚的行政行为。根据以上定义，下列行为属于行政处罚的是：

- A. 某县土地管理局对下属某一土地管理所所长给予警告的处分
- B. 某市人民政府对甲、乙两村委会就争议的土地所有权作出的裁决
- C. 某市税务局对涉嫌违法的某公司帐户的查封
- D. 某县建委对县人民政府涉嫌违法的建筑作出限期拆除的决定

解析：A 项对象是是属于行政处分，是行政主体内部对公务员的纪律处分。B 项属于行政裁决，是对特定民事纠纷的裁决，不是处罚。C 项属于行政强制措施，对某公司帐户的查封行政机关做出限制人身自由，对财产进行查封、扣押、冻结等决定，属于行政强制措施，D 项应该是行政处罚。如果行政机关做出警告、罚款、没收违法所得财物，责令停产停业等决定，就属于行政处罚。所以故正确答案为 D。

94、犯罪预备：是指为了犯罪准备工具、制造条件的行为。根据以上定义，下列行为中，甲的行为属于犯罪预备的是：

- A. 甲、乙、丙、丁四人预谋某晚去某超市盗窃，由甲提供一辆三轮车。届时甲因害未去，由乙、丙、丁三人用甲提供的三轮车盗走超市的大批名贵手表。
- B. 甲乙有仇，遂寻机报复。一天甲得知乙一人在家，便携带匕首向乙家走去，途中突然腹痛，只得返回家中

C. 甲于某日携带匕首前往乙家，准备杀乙泄愤，途中遇联防人员巡逻，甲深感害怕，折返家中

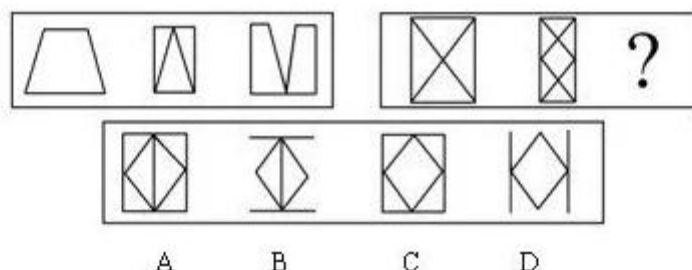
D. 甲在树丛中向仇人乙射击，连开了两枪未击中乙，乙因害怕而求饶，甲在能继续开枪的情况下不再开枪

解析：犯罪预备要件（1）准备工具（2）制造条件。A 项甲虽然没实施具体作案，但是提供了作案工具，并且也达到结果，属于犯罪既遂。C 项和 D 项属于犯罪中止，可以继续而未继续。只有 B 项，属于犯罪预备，在犯罪实施之前，由于意志以外的因素导致犯罪没有实施。

95、行政复议参加人：是指行政争议的当事人和与行政争议的具体行政行为有利害关系而参加行政复议的人。根据以上定义，下列不是行政复议参加人的是：

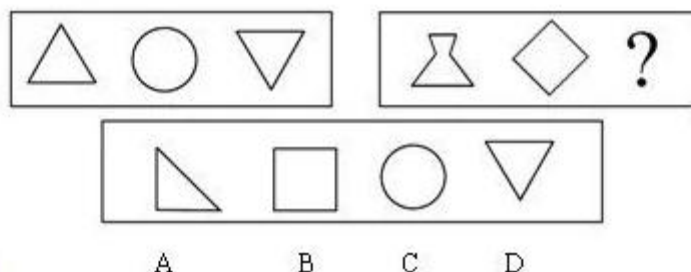
- A. 行政复议的被申请人
- B. 行政复议的第三人
- C. 行政复议的鉴定人
- D. 行政复议第三人委托的律师

解析：本题的考点在“利害关系”。A 项是行政争议的当事人。B、D 两项是与行政争议的具体行政行为有利害关系而参加行政复议的人。C 项与行政争议无利害关系，故不属于行政复议参加人。故正确答案为 C。



96、**!选题)**

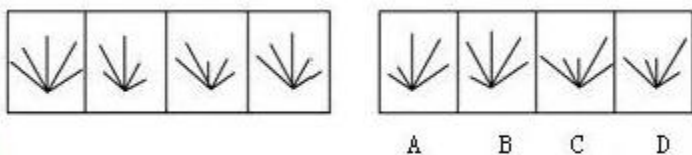
解析：第一套图的规律是把第一个图分成两个相同直角梯形并相互靠拢然后渐离可得到第二个图和第三个图。依此规律可推知答案是 B。



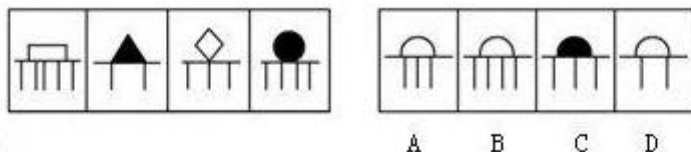
97、**选题)**

解析：第一套图中图一的重心位置分别是下中上，第二套图中前两个图的位置是下中，则第三幅图重心位置是上，选择 D。

98、



解析：本题考察的是数量类的线段，观察题干中给出的一组图形会发现每幅图形都是由 5 条线段组成，并且第 2 条均为长线段，结合选项我们会发现只有 B 项符合这一规律。因此本题答案为 B 选项。



99、

解析：本题考查样式类的遍历问题。观察题干中的图形会发现横线上面的图形呈“白”“黑”“白”“黑”周期排列的规律，依此规律我们可知第五幅图的填充颜色为白色，可以把 C 项排除。接下来，我们来看横线下面的竖线段，最两边的两条竖线段之间的距离都不小于横线上的图形所占的长度，结合选项看，只有 B 项符合此规律，因此本题答案为 B 选项。

100、 顾客并不像通常所描述的那么容易被操纵。他们知道自己需要什么。他们需要的东西，和别人认为他们需要的东西，可能有很大的差别。据此可知：（ ）

- A. 广告投资与商品销售不成正比
- B. 大多数人购物认准一种品牌多年不变
- C. 在进入商店前顾客大都知道要买哪种牌子的商品
- D. 顾客在商店购物时一般不喜欢他人的介绍或建议

解析：题干中指出“顾客不易被操纵”和“他们知道自己需要什么”可以推出 C，因此本题答案为 C 选项。选项 A 所陈述的在题干没有提及，故排除。B 项题干中只提到他们知道自己要什么，不能说明他们只卖一种牌子，所以无法由陈述中直接推出，故排除。D 项“顾客不喜欢他人的介绍和建议”在陈述中找不到依据，故排除。

101、令人奇怪的是，洛可可风格竟然首先出现在法兰西。路易十四的统治持续时间太长，对老王朝过分虔诚的时代终于结束，雄伟高贵的凡尔赛不再迫使人们参加令人生厌的庆典，从此人们聚集于巴黎各公馆的精美沙龙之中。起初，洛可可是一种新型装饰，是为热爱冒险、异国情调、奇思遐想和大自然的高雅、智慧的社会服务的。这种轻盈、精美的风格最适合于现代公寓，房间不大，但均有珍贵的用途。洛可可进入巴洛克风格出尽风头的国家时，是十分谨慎小心的。从这段话可以得到的正确推论是：（ ）

- A. 路易十四时期法国流行轻盈、精美的巴洛克式室内装潢风格
- B. 洛可可风格首先在法国出现是因为法国人热爱冒险和奇思遐想
- C. 现代公寓都是洛可可式的，因而它们房间不大，但均有珍贵的用途
- D. 与巴洛克风格相比，洛可可风格并不追求雄伟和高贵

解析：题干信息中指出“洛可可风格竟然首先出现在法兰西，洛可可是一种新型装饰，是为热爱冒险、异国情调、奇思遐想和大自然的高雅、智慧的社会服务的”由此可以推知 B 项是

正确的。题干中指出“轻盈、精美的风格”是指洛可可，所以 A 项说“轻盈、精美的巴洛克式”是不正确。“洛可可风格适合于现代公寓”，但并没有说现代公寓都是洛可可式的，所以 C 项不正确。“雄伟高贵”指的是凡尔赛，既不是指洛可可，也不是指巴洛克，所以 D 项不正确。

102、反诉：是指在已经提起的诉讼中，被告针对原告有联系的行为，提起独立诉讼请求的行为。根据以上定义，下列行为属于反诉的是：（ ）

- A. 老师起诉学生借钱不还，学生起诉老师剽窃
- B. 原告起诉离婚，被告请求法院确认婚姻关系本来就是无效
- C. 原告起诉，要求被告按买卖合同交货，被告起诉供货商未能按时交货
- D. 原告起诉被告居住的房屋所有权是他的，被告请求法院让原告偿还欠款

解析：反诉的关键要件是（1）与原告有联系的行为。结合选项来看，在 A 项中，“学生借钱不还”与“老师剽窃”之间没有联系，不符合（1），故排除 A 项。在 B 项中，“离婚”与“请求法院确认婚姻关系本来就是无效”符合（1），在 C 项中，“要求被告按买卖合同交货”与“起诉供货商未能按时交货”之间没有联系，不符合（1），故排除 C 项。在 D 项中，“房屋所有权”与“偿还欠款”之间没有联系，不符合（1），故排除 D 项。因此，本题答案为 B 选项。

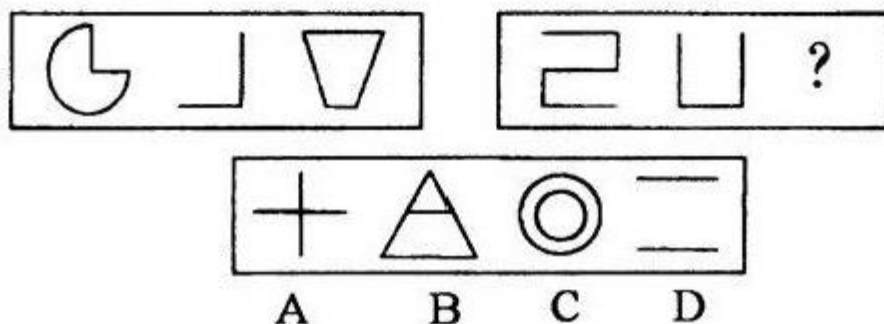
103、诉讼标的：是指当事人争议的要求人民法院通过审判予以解决的某一民事法律关系或权利。根据以上定义、下列属于诉讼标的是：（ ）

- A. 原、被告之间发生纠纷的 1000 元的借款
- B. 原、被告之间发生的名誉受到诽谤的伤害
- C. 原、被告之间发生的起诉与被起诉的关系
- D. 原、被告之间发生的抢劫与被抢劫的施、受害关系

解析：诉讼标的的关键要件（1）民事法律关系或权利。结合选项来看，在 A 项中“1000 元的借款”是诉讼标的物，不符合（1），故排除。C 项中“起诉与被起诉的关系”并非某一确指的民事法律关系，不符合（1），故排除。D 项则属于刑事法律关系。只有 B 项符合（1），因此本题答案为 B 选项。

104、

84



(单选题)

解析：本题考查数量类的笔画问题。这道题目是两段式的命题形式，我们先观察第一段图形来找规律，把这一规律用到第二段图形中。第一段中每幅图形都可以一笔画成。观察第二段图形中的前两幅图形都可以一笔画成，那应该选一个可以一笔画成的图形，只有 B 项符合这

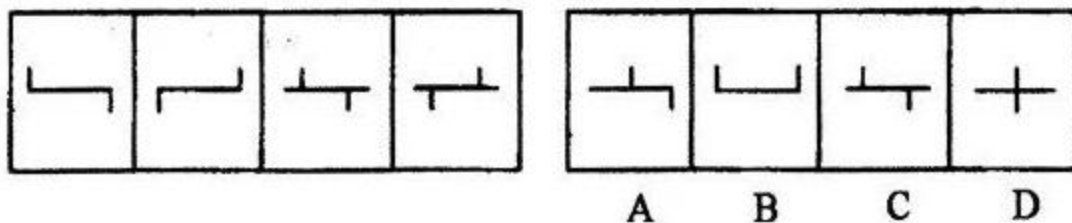
一规律，因此本题答案是 B 项。

105、某国去年从第三世界国际基金会得到 25 亿美元的贷款，它的国民生产总值增长了 5%；今年，该国向第三世界国际基金会提出两倍于去年贷款要求，它的领导人并因此期待今年的国民生产总值将增加 10%。但专家认为，即使上述贷款要求得到满足，该国领导人的期待也很可能落空。据此可知：（ ）

- A. 贷款对该国国民生产总值的增长发挥着作用
- B. 贷款的多少与该国民生产总值的增长没关系
- C. 该国今年国民生产总值增长幅度将在 5%~10%之间
- D. 该国今年从第三世界国际基金会那里贷不到两倍于去年的贷款

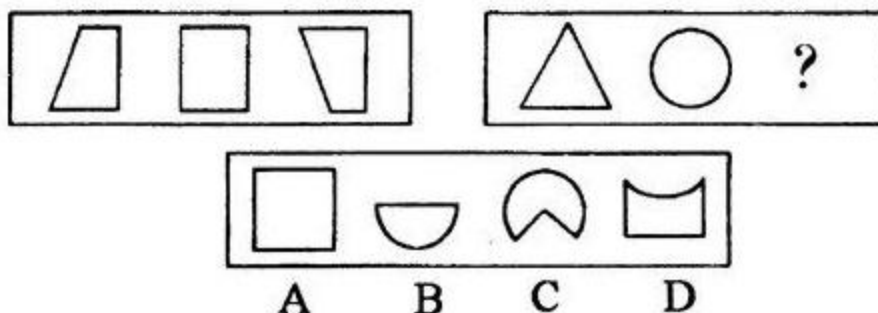
解析：由题干中的第一句话可知 A 项是正确的。由题干中的第一句话可知 B 项是不正确的。“即使上述贷款要求得到满足，该国领导人的期待也很可能落空。”说明国民生产总值不会增加 10%，但没有具体到 5%~10%之间，所以 C 项不正确，排除。D 项题干中也没有体现。

106、



解析：本题考查位置类的平移问题。观察题干给出的一组图形会发现，中间横线上面和下面的两条短线同时向相反方向移动相同的距离，且移动的长度在变短。只有 D 项符合此规律。因此本题答案是 D 项。

107、



解析：本题考查样式类的内部属性问题。观察第一组图形会发现，图形的重心从左到右依次逐渐上升。第二组图形的前两幅图形的重心也从左到右依次逐渐上升，问号处也应该遵循此规律。只有 C 项符合这一规律，因此本题答案是 C 项。

108、(单选题)今年 M 市开展了一次前所未有的化妆品广告大战。但是调查表明，只有 25% 的 M 市居民实际使用化妆品。这说明化妆品公司的广告投入有很大的盲目性。以下哪项陈述最有力地加强了上述结论？（ ）

- A. 化妆品公司做广告是因为产品供过于求

- B. 去年实际使用化妆品的 M 市居民有 30%
- C. 大多数不使用化妆品的居民不关心其广告宣传
- D. 正是因为有 25%的居民使用化妆品, 才要针对他们做广告

解析: 论点是广告投入有很大的盲目性, 论据是只有 25%的 M 市居民实际使用化妆品。B 项去年实际使用化妆品的 M 市居民有 30%, 说明实际使用的人数的百分比反而下降了, 就是广告宣传没有取得效果, 可以加强。所以 B 选项是正确答案。

A 项化妆品公司做广告是因为产品供过于求, 说明做广告的原因, 而我们讨论的是广告的效果, 论题不一致, 属于无关选项, 排除。C 项大多数不使用化妆品的居民不关心其广告宣传, 但是还有使用的人群可能关注广告, 说明广告可能还是有效果的, 属于无关选项, 排除。D 项中正是因为有 25%的居民使用化妆品, 才要针对他们做广告, 那说明宣传不盲目, 属于削弱, 所以排除 D。

109、(单选题)消费者监督权是指消费者享有对商品和服务以及保护消费者权益的工作进行监督的权利。根据上述定义, 下列行为属于行使消费者监督权范围的是 ()。

- A. 小赵到商店中专门购买假冒伪劣商品以获取赔偿
- B. 一家烤鸡店为战胜对手, 向消费者称对手的货源不合格
- C. 小张发现某商场的电梯存在安全隐患, 立即报告给有关部门
- D. 老王在一家商店买回了变质的食品, 马上回去要求退换

解析: 消费者监督权的关键词是消费者享有对商品、服务、工作进行监督的权利。C 项中小张发现某商场的电梯存在安全隐患, 立即报告给有关部门, 属于对商场提供的服务的监督, 符合定义, 所以是答案。A 项中小赵到商店中专门购买假冒伪劣商品以获取赔偿, 是为了获得赔偿而不是监督, 所以不符合定义, 排除。B 项中一家烤鸡店为战胜对手, 向消费者称对手的货源不合格, 属于恶性竞争, 不符合定义, 排除。D 项中老王在一家商店买回了变质的食品, 马上回去要求退换, 要求换货不是监督作用, 所以不符合定义, 排除。因此, 本题答案为 C 选项。

110、(单选题)允诺是一种民事法律行为。民事法律行为可以附条件或期限。条件是不确定的偶然性事实, 期限是确定的必然性事实。根据上述定义, 下列允诺中不属于附期限允诺的是 ()。

- A. 乙允诺甲: 待甲 60 大寿送甲电视一台
- B. 乙允诺甲: 临终时将房产送给甲
- C. 乙允诺甲: 三年后送甲古画一张
- D. 乙允诺甲: 2004 年送甲轿车一辆

解析: 允诺期限的关键词是期限是确定的必然性事实。B 项中临终时将房产送给甲, 死亡时间是不确定的, 所以不属于确定的必然性事实, 不符合定义, 所以是答案。A 项中待甲 60 大寿送甲电视一台, 时间确定, 属于确定的必然性事实, 符合定义, 排除。C 项中三年后送甲古画一张, 时间确定, 属于确定的必然性事实, 符合定义, 排除。D 项中 2004 年送甲轿车一辆, 时间确定, 属于确定的必然性事实, 符合定义, 排除。因此, 本题答案为 B 选项。

111、(单选题)意外事件是指因当事人故意或过失以外的偶然因素而发生的事故。根据上述定义, 下列属于意外事件的是 ()。

- A. 医院未给聂某进行过敏皮试就为其注射了青霉素, 结果造成其死亡
- B. 两个学生在课间打闹玩耍时, 一学生用铅笔把另一学生的眼睛戳伤
- C. 某仓库保管员酒后昏睡, 结果仓库失窃, 造成经济损失达数十万元

D. 黄某私自驾驶一报废车辆进行长途运输，途中发生车祸，车毁人亡

解析：意外事件的关键词是故意或过失以外的偶然因素而发生的事故。B 项中两个学生在课间打闹玩耍时，一学生用铅笔把另一学生的眼睛戳伤，属于偶然因素发生的事故，符合定义，所以是答案。A 项医院未给聂某进行过敏皮试就为其注射了青霉素，结果造成其死亡，属于过失造成的事故，不符合定义，排除。C 项的某仓库保管员酒后昏睡，结果仓库失窃，造成经济损失达数十万元，属于过失造成的事故，不符合定义，排除。D 项中黄某私自驾驶一报废车辆进行长途运输，途中发生车祸，车毁人亡，属于过失造成的事故，不符合定义，排除。因此，本题答案为 B 选项。

112、某单位在林和张两位候选人中民主选举经理。在选举的前十天进行的民意测验显示，受调查者中 36% 打算选林，42% 打算选张。而在最后的正式选举中，林的得票率是 52%，张的得票率仅是 46%。这说明选举前的民意测验在操作上出现了失误。以下哪项如果是真的，最能削弱上述论证的结论？（ ）

- A. 选举前二十天进行的民意测验显示，林的得票率是 32%，张的得票率是 40%
- B. 在进行民意测验的时候，许多选举者还没拿定主意选谁
- C. 在选举的前七天，林为厂里要回了 30 万元借款
- D. 林在竞选中的演说能力要比张强

解析：论点是这说明选举前的民意测验在操作上出现了失误，论据是民意测验和最后选举的数据的对比。A 项选举前二十天进行的民意测验显示，林的得票率是 32%，张的得票率是 40%，增加了一组数据，对比一下 2 次民意测试，我们可以发现林的得票率越临近选举越高，所以说明不是测验失误，A 可以削弱。所以 A 选项是正确答案。

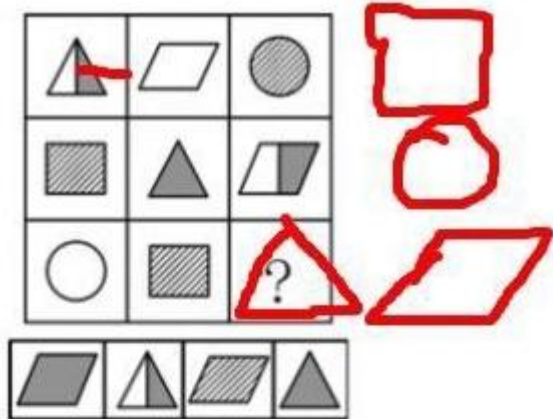
B 项在进行民意测验的时候，许多选举者还没拿定主意选谁，不能说明民意测试有没有失误，属于无关选项，排除。C 在选举的前七天，林为厂里要回了 30 万元借款，可能对选举有影响也可能没影响，所以不确定，属于无关选项，排除。D 项中林在竞选中的演说能力要比张强，演说能力对选举可能有影响也可能没有影响，所以不确定，属于无关选项，排除。

113、在世界范围内禁止生产各种破坏臭氧层的化学物质可能仅仅是一种幻想，大量这样的化学物质已经生产出来，并且以成千上万台冰箱的冷却剂的形式而存在。当这些化学物质到达大气层中的臭氧层时，其作用不可能停止。因此，没有任何方式可以阻止这类化学物质进一步破坏臭氧层。以下哪项如果为真，则能最严重地削弱以上论证？（ ）

- A. 不可能精确地测量冰箱里冷却剂这种破坏臭氧层的化学物质的量
- B. 不会破坏臭氧层的替代品还未开发出来，并且替代品可能比冰箱目前使用的冷却剂昂贵
- C. 即使人们放弃使用冷藏设备，已经存在的冰箱里的冷却剂也是对大气臭氧层的一个威胁
- D. 当冰箱的使用寿命结束时，冰箱里的冷却剂可完全回收并且重新利用

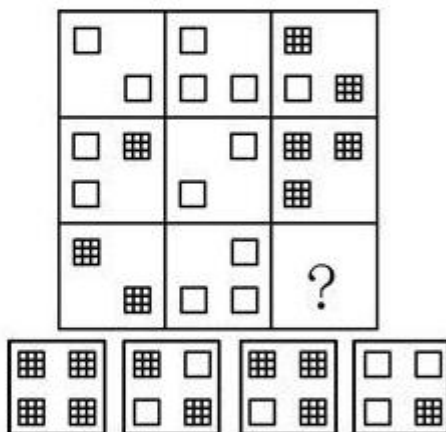
解析：论点是没有任何方式可以阻止这类化学物质进一步破坏臭氧层，论据是大量这样的化学物质已经生产出来，并且以成千上万台冰箱的冷却剂的形式而存在。当这些化学物质到达大气层中的臭氧层时，其作用不可能停止。D 项指出当冰箱的使用寿命结束时，冰箱里的冷却剂可完全回收并且重新利用，说明可以阻止这类化学物质破坏臭氧层，可以削弱论点。所以 D 选项是正确答案。

A 项不可能精确地测量冰箱里冷却剂这种破坏臭氧层的化学物质的量，量的多少与能不能阻止它对臭氧层的破坏无关，属于无关选项，排除。B 项指出替代品没研制出来，与能不能阻止已经存在的化学物质对臭氧层的破坏无关，属于无关选项，排除。C 项指出这种破坏没法阻止，属于加强，排除。



114、

解析：外部图形相对位置不变。所以选 D。



115、

解析：横着看，相加，规则是两个白框=1 个黑框。选 C。

116、目前，我国汽车每百公里平均油耗比发达国家多 20%以上。研究表明，柴油车与汽油车相比，燃油消耗低 20%到 30%。在汽车排放污染物较严重的情况下，发展先进柴油汽车可以做到汽车污染物不增排甚至减排。我国柴油车在汽车保有量中的比重为 23.7%，在轿车保有量中的比重仅为 0.2%。假设 2020 年我国柴油车在乘用车保有量的比重为 30%，相应的在汽车总保有量中的比重为 39.7%，那么在 2020 年当年可节约原油 2837 万吨。下面最能支持上述论断的选项是()。

- A. 可考虑对汽油、柴油采取差别税率的方式，以使柴油价格低于汽油
- B. 鼓励更多的人使用柴油汽车等节能产品
- C. 应提高柴油质量标准，利用价格监管手段，鼓励生产高品质柴油
- D. 增强先进柴油技术的自主创新能力，发展先进的柴油汽车

解析：本题为形式论证类。文中通过柴油车与汽油车的比较，强调柴油车在节能、防污上的优势，假设 2020 年我国柴油车在乘用车保有量提高到一定比例，将大大有利于节约原油。所以要支持上述诊断就需要采取措施鼓励人们使用柴油车，证明此观点可行，B 项正符合这一要求。所以正确答案为 B。

纠错

A、C 项和题干关系不大，D 项不是针对柴油车与汽油车的差别提出的。

117、今年 4 月，我国遭遇了近年来最为强劲的一次特大沙尘暴灾害，损失达 65 亿美元。沙尘暴天气的发生一般需要三个条件：有丰富的沙尘源；有强风作用；大气层结构不稳定，即在沙地及无植被的裸露地表，空气容易受热，把刮起的沙尘吹起。这说明，气候干旱引起草地退化、沙化，也就必然会出现沙尘暴这种“天灾”。下面哪一项如果为真，最能反驳上面的论述？（ ）

- A. 在呼伦贝尔退化地区对面，蒙古草原的草高度在 1 米左右，那里有上万只黄羊在活动
- B. 在中蒙 10 公里宽的边境线上，草依然保留年前的高度，但那是无人活动区
- C. 过度放牧所形成的沙漠化土地占到 29.4%
- D. 采取大规模的休养生息方式来缓解人类生产对生态环境的压力

解析：本题为形式论证类。题干的论点是“气候干旱引起草地退化、沙化，也就必然会出现沙尘暴这种天灾。”而 C 项说沙漠化是由过度放牧，即人类引起的，不是气候干旱引起，否定论点，起到了削弱作用。故而答案为 C。

纠错

A 提到的退化区对面、B 无人活动区、D 的休养生息来缓解环境压力，均是与题干论题不一致，属于无关选项，故而无法反驳题干。

拓展

形式论证主要分为削弱论证类和加强论证类。一般情况下，削弱论证的技巧包括四个，即否定论点、增加反向论据、拆桥和否定前提。其中否定论点是最常考的技巧，即是对题干论点的直接否定。

118、15(单选题)定义：（1）全概率命题是其真实性的概率为 100%的命题。（2）大概率命题是其真实性概率较高，通常在 50%以上的命题。（3）辩证命题是若联言命题的两个支命题都是条件命题，而这两个联言支的后设彼此之间具有矛盾或反对关系。典型例证： 10 人要吃东西才能长期生存。（2）如果被害者的财物完整无缺，则凶手作案的动机就不是图财害命。（3）他既是一个高个子，又是一个矮个子。上述典型例证与定义存在对应关系的数目有（ ）。

- A. 0 个
- B. 1 个
- C. 2 个
- D. 3 个

解析：由题干可知：全概率命题为“真实性的概率为 100%”；大概率命题“真实性的概率在 50%以上”；辩证命题为“联言命题”、“两个支命题都是条件命题”。例证（1）长期生存→要吃东西，符合客观事实，真实性的概率为 100%，符合“全概率命题”；例证（2）财务完整→凶手不是图财害命，符合大多数事实，符合“大概率命题”；例证（3）“他既是一个高个子，又是一个矮个子”是个联言命题，且两个支命题具有反对关系，但这两个支命题是直言命题，不是假言命题，不符合“辩证命题”的定义；故而有二个符合上述定义买答案为 C。

119、人民币票面上所标示的货币单位无一例外是“圆”字，但从法理角度看，《中国人民银行法》规定：人民币的单位为元，人民币辅币单位为角、分。这明白清楚地从法律角度对人民币单位作了规定，即元为人民币合法的货币单位。圆有表达货币单位的意思，那是指在历史上。《中国人民银行法》颁行后，元便是合法的人民币货币单位，而圆则不再作为人民币货币单位的规范汉字。从这段文字可以推出（ ）。

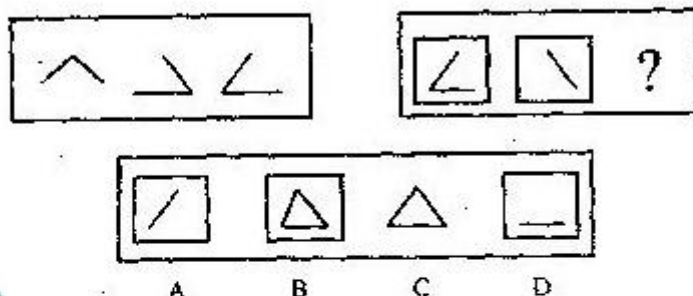
- A. “圆”与“元”可以通用
- B. 以我们日常生活经验及思维习惯，此“圆”即“元”之意
- C. “圆”并不是人民币的货币单位，人民币纸币上所印之“圆”很可能是一个原则性的错误
- D. 在法制社会里不能想像同时存在着两种不同的货币单位

解析：由题干可知：人民币票面上标示的货币单位是“圆”字；人民币合法的单位为“元”；“圆”在历史上也曾作为货币单位；《银行法》颁行后，“元”取代“圆”作为合法的人民币货币单位。

《银行法》颁行后，“元”取代“圆”作为合法的人民币货币单位，即“元”和“圆”不能都成为合法的货币单位，无法通用，A 项错误，D 项正确。

纠错

B 项以我们日常生活经验及思维习惯得出“圆”即“元”之意，题干并没有涉及，属于话题不一致，无法推出。C 项，“圆”在历史上曾作为货币单位，人民币上印“圆”只是延续传统，故 C 项错误。



120、()

解析：本题考查样式类的运算问题。观察题干给出的第一组图形，前两幅图形去掉相同的，留下不同的，得到第三幅图形，依此规律，第二组图形也去同求异，得到 C 项。

121、行政处罚：是指行政相对人违反行政管理，依法应当给予处罚的行政行为。根据以上定义，下列行为属于行政处罚的是：

- A. 某县土地管理局对下属某一土地管理所所长给予警告的处分
- B. 某市人民政府对甲、乙两村委会就争议的土地所有权作出的裁决
- C. 某市税务局对涉嫌违法的某公司帐户的查封
- D. 某县建委对县人民政府涉嫌违法的建筑作出限期拆除的决定

解析：A 项对象是是属于行政处分，是行政主体内部对公务员的纪律处分。B 项属于行政裁决，是对特定民事纠纷的裁决，不是处罚。C 项属于行政强制措施，对某公司帐户的查封行政机关做出限制人身自由，对财产进行查封、扣押、冻结等决定，属于行政强制措施，D 项应该是行政处罚。人民政府在 D 选项中作为行政相对人身份存在。所以正确答案为 D。

122、犯罪预备：是指为了犯罪准备工具、制造条件的行为。根据以上定义，下列行为中，甲的行为属于犯罪预备的是：

- A. 甲、乙、丙、丁四人预谋某晚去某超市盗窃，由甲提供一辆三轮车。届时甲因害未去，由乙、丙、丁三人用甲提供的三轮车盗走超市的大批名贵手表。
- B. 甲乙有仇，遂寻机报复。一天甲得知乙一人在家，便携带匕首向乙家走去，途中突然腹痛，只得返回家中
- C. 甲于某日携带匕首前往乙家，准备杀乙泄愤，途中遇联防人员巡逻，甲深感害怕，折返家中

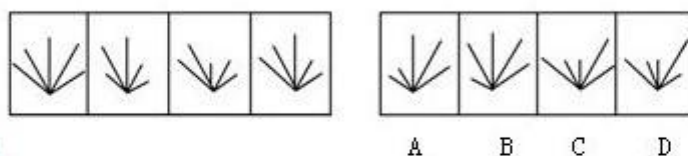
D. 甲在树丛中向仇人乙射击，连开了两枪未击中乙，乙因害怕而求饶，甲在能继续开枪的情况下不再开枪

解析：犯罪预备要件（1）准备工具（2）制造条件。A 项甲虽然没实施具体作案，但是提供了作案工具，并且也达到结果，属于犯罪既遂。C 项和 D 项属于犯罪中止，可以继续而未继续。只有 B 项，属于犯罪预备，在犯罪实施之前，由于意志以外的因素导致犯罪没有实施。

123、行政复议参加人：是指行政争议的当事人和与行政争议的具体行政行为有利害关系而参加行政复议的人。根据以上定义，下列不是行政复议参加人的是：

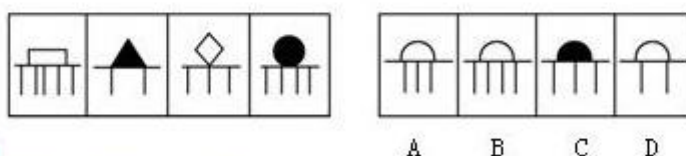
- A. 行政复议的被申请人
- B. 行政复议的第三人
- C. 行政复议的鉴定人
- D. 行政复议第三人委托的律师

解析：本题的考点在“利害关系”。A 项是行政争议的当事人。B、D 两项是与行政争议的具体行政行为有利害关系而参加行政复议的人。C 项与行政争议无利害关系，故不属于行政复议参加人。故正确答案为 C。



124、

解析：本题考察的是数量类的线段，观察题干中给出的一组图形会发现每幅图形都是由 5 条线段组成，并且第 2 条均为长线段，结合选项我们会发现只有 B 项符合这一规律。因此本题答案为 B 选项。



125、

解析：本题考查样式类的遍历问题。观察题干中的图形会发现横线上面的图形呈“白”“黑”“白”“黑”周期排列的规律，依此规律我们可知第五幅图的填充颜色为白色，可以把 C 项排除。接下来，我们来看横线下方的竖线段，空白图形下面的竖线都是奇数条，而实心黑色图形下面的竖线都是偶数条。故本题答案为 A 选项。

126、真皮：标志

- A. 模拟：通信
- B. 噪声：范围
- C. 火车：车厢
- D. 中国：邮票

解析：真皮要有个标志来表明，噪音要有个范围来约束，是两组对应关系，故选 B。

纠错

模拟通信是通信的一种方式，排除 A；C 项中火车车厢是包含关系，排除；D 项中国的邮票偏正关系排除。

127、军队：军人

- A. 灯具：台灯
- B. 车辆：轿车
- C. 饰品：挂件
- D. 文具：笔墨

解析：军人是军队的一个组成部分，包含与被包含的关系；台灯是灯具的一种类型，同属于包含与被包含的关系，所以 A 选项符合题意。

纠错

轿车应该包含于汽车，而不是车辆，排除 B；挂件不一定是饰品，排除 C；文具包含笔墨，但笔墨是两样东西，不是一一对应，排除 D。

128、自今年起的每年 8 月 8 日为“全民健身日”。甲、乙、丙、丁四人议论“全民健身日”的性质。甲说：“我们办公室所有人都知道这不是法定的健身活动日。”乙说：“如果小张说这不是法定的健身活动日，那么他就认为是法定的‘国家体育日’。”丙说：“小张说这不是法定的健身活动日，也不是法定的北京奥运会纪念日。”丁说：“我们办公室有人就不知道这是法定的健身活动日，而认为是体育节。”已知上述四人中只有一人说的不符合事实。由此推出（ ）。

- A. 甲说假话
- B. 乙说假话
- C. 丙说假话
- D. 丁说假话

解析：题干当中没有直接的矛盾或反对关系，解题的关键在于对丁的话如何理解。“我们办公室有人就不知道这是法定的健身活动日，而认为是体育节。”这句话的前提是：这是法定的健身活动日。与甲的话构成矛盾。只有一个人说的不符合事实，所以乙、丙为真，丙说：“小张说这不是法定的健身活动日”，也就是“有人说这不是法定的健身活动日”，与丁的陈述的前提相反。因此只能是丁说的与事实不符，故 D 为答案。

纠错

此题的关键在于每个人“认为”的与每个人“陈述”的并非对等，不能将二者混淆。

129、飞鸟的集体自杀，是大自然的一个难解之谜。当今一个通行的说法是：鸟类集体自杀，主要是地球磁极的移动使它们看不准定向标。以下哪项如果为真，最能削弱上述专家的观点？（ ）

- A. 空气漂浮的大量毒气云团是飞鸟致死的元凶
- B. 飞鸟的集体死亡一般是大自然的偶然事件
- C. 飞鸟吃了河海里以有毒藻类为食的虾蟹致死
- D. 火山爆发产生大量硫化物造成飞鸟的集体死亡

解析：文段的观点是“鸟类集体自杀，主要是地球磁极的移动使它们看不准定向标”，地球磁极的移动是有规律的（地球北磁极正以每年 40 英里的速度向俄罗斯方向移动），所以鸟类集体自杀也应呈现出规律性特征。B 选项“飞鸟的集体死亡一般是大自然的偶然事件”否定了论点成立的前提条件，故 B 项为答案。

纠错

A、C、D 三个选项是造成飞鸟死亡的三种可能的原因，对论点确实有削弱的作用，但并没有直接否定论点，故排除。

130、生理学家发现，人类掌管记忆和思维等高级认知功能的大脑皮质在正常情况下有 6 层，如果胎儿缺乏一种名为“Cdk5”的酶，大脑皮质的发育就会变得极为缓慢，无法最终形成正常大脑皮质的 6 层结构，从而严重影响儿童认知发展。一些医药界人士推测，利用这一发现，将有望研发出药物，普遍提高学生的学习能力。如果以下各项为真，哪项不能质疑上述推测？()

- A. 人体不能吸收外部补充的“Cdk5”酶
- B. 学生的学习能力主要是通过后天学习获得的
- C. 一些脑部“Cdk5”酶含量高的人学习能力并不突出
- D. 青少年过了脑发育关键期后，补充“Cdk5”酶不起作用

解析：本题属于多种削弱方式综合考查的题型。

论据：（1）胎儿缺乏“cdk5”酶，大脑皮质发育变缓，无法形成 6 层结构，影响儿童认知发育；

（2）人类掌管记忆和思维等高级认知功能的大脑皮质在正常情况下有 6 层；

论点：服用“Cdk5”药物→提高学生的学习能力。

C 项说脑部 cdk5 酶含量高的人学习能力不突出，题目中说，缺乏 cdk5 酶，学习能力会下降，并没有说，含量高的人怎么样，属于无关项，不能对题目提出质疑，因此，本题答案为 C 选项。

纠错

A 项人体不能吸收人体外的酶，是对前提的否定，能够削弱论点，排除；

B 项说学习能力的提高依靠后天学习，而不是 cdk5 酶，是另有他因的否定；D 项说青少年补充 cdk5 酶没有用，是对论点的直接否定，排除。

131、英国剑桥大学专家称，早期人类的大脑比现代人类更大，而且现代人类比早期人类身材矮小 10%。这项研究颠覆了此前的理论——现代人类伴随着进化变得更高、更强壮。科学家称，这种人类进化衰减性出现在过去一万年左右，很可能是由于农业的出现导致的。农业耕作出现之后，人类受限于食物种类的减少以及疾病的蔓延，所以出现了进化衰减现象。

以下哪项如果为真，最不能质疑研究人员的假设？()

- A. 据研究，人类大规模农业耕作出现在 5000 年前
- B. 一万年前，居住在非洲的人身材和现代人类差不多
- C. 随着农业水平的提高，人类的食物种类远多于一万年前
- D. 早期人类患病没有办法医治，身残体弱者在进化中均遭到淘汰

解析：考查不能削弱类。题干研究人员的假设是“现代人类进化出现衰减现象，原因是农业耕作的出现使人类受限于食物种类减少以及疾病蔓延”。D 项，早期人类疾病无法医治，身残体弱者被淘汰，与题干中的衰减现象和农业耕作无关。因此，选择 D。

纠错

A 项说大规模农耕出现在 5000 年前，而题中指出人类进化的衰减出现在过去一万年左右，质疑二者的因果关系；B 项说明人类进化没有衰减，直接削弱结论；C 项说人类的食物种类更多，质疑前提中的“因为食物种类的减少”。

132、公共意识是独立自由的个体所具有的一种整体意识或整体观念。公共意识一方面是个

人主体自由的体现，另一方面是对于一个超越于个体自身以外的共同整体的体现。根据上述定义，下列属于公共意识的是（ ）。

- A. 期望公民必须变得无私并在行为上完全利他
- B. 公民顾及私利的同时，追求公共目标和利益
- C. 现代社会所张扬的一种精神气质和公共精神
- D. 把自己认定为一个与他人联系在一起的集合体

解析：该定义的主体为“独立自由的个体”，客体为“整体意识或整体观念”。A 选项没有体现出“整体意识或整体观念”；B 选项“顾及私利”不代表“独立自由的个体”，“追求公共目标和利益”不代表“整体意识或整体观念”；C 选项描述了一种社会风气，主体不符合；D 选项描述了一种“整体意识或整体观念”。因此，本题答案为 D 选项。

133、团队精神是指团队的成员为了团队的利益和目标，而相互协作、竭尽全力的意愿和作风。高绩效团队强大竞争力的根源，不在于其成员个人能力的卓越，而在于其成员整体“合力”的强大，其中起关键作用的就是团队精神。根据上述定义，下列属于团队精神的是（ ）。

- A. 忠诚、投入、志趣相投、相互吸引
- B. 有凝聚力和为团队利益牺牲的意愿
- C. 高绩效团队的灵魂和难以模仿的特质
- D. 将每个成员“粘”在一起的“胶”

解析：该定义的主体为“独立自由的个体”，客体为“整体意识或整体观念”。A 选项没有体现出“整体意识或整体观念”；B 选项“顾及私利”不代表“独立自由的个体”，“追求公共目标和利益”不代表“整体意识或整体观念”；C 选项描述了一种社会风气，主体不符合；D 选项描述了一种“整体意识或整体观念”。因此，本题答案为 D 选项。

134、团队精神是指团队的成员为了团队的利益和目标，而相互协作、竭尽全力的意愿和作风。高绩效团队强大竞争力的根源，不在于其成员个人能力的卓越，而在于其成员整体“合力”的强大，其中起关键作用的就是团队精神。根据上述定义，下列属于团队精神的是（ ）。

- A. 忠诚、投入、志趣相投、相互吸引
- B. 有凝聚力和为团队利益牺牲的意愿
- C. 高绩效团队的灵魂和难以模仿的特质
- D. 将每个成员“粘”在一起的“胶”

解析：题干的关键在于“团队的成员”，“为了团队的利益和目标而相互协作、竭尽全力”，“意愿和作风”。

A 中“忠诚、投入、志趣相投、相互吸引”不是“为了团队的利益和目标”，A 错误；

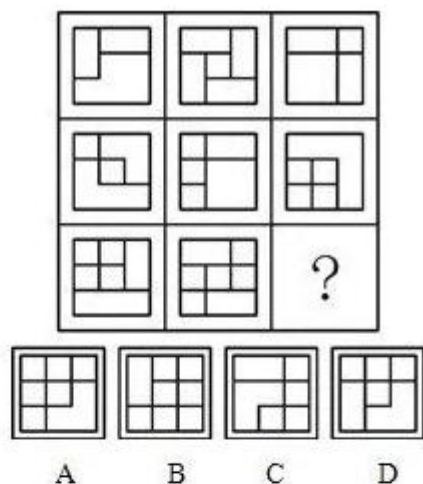
B 中“有凝聚力和为团队利益牺牲的意愿”符合“相互协作、竭尽全力”，“意愿和作风”，B 正确；

C 中“难以模仿的特质”并未在题干中体现，C 错误；

题干中“团队精神”对成员整体“合力”的强大起作用，但这种作用并非和“胶”的概念完全对应，


D 错误。

故正确答案为 B。



135、

解析：由题目可知，九宫图中所有图形都含有正方形，数正方形的个数。以行为单位，第一行三个图形从左到右包含的正方形个数分别为 1、2、3，第二行分别为 4、5、6，第三行两个已知图形包含的个数分别为 7、8，可知未知图形应包含 9 个正方形。四个选项中，A 项包含 9 个，B 项包含 11 个，C 项包含 3 个，D 项包含 6 个。故正确答案为 A。



136、

解析：此题考查的是图形的对称性。观察题干，在这个九宫格图形中，从横向上看，第一、二行图形的对称轴的总数量均为 5 条，第三行前两个图形对称轴数量为 4、0 条，故下一个图的对称轴数量应为 1 条，这样相加也是 5 条。因此，本题答案为 B 选项。

拓展

考试时不止要考虑到对称性，更要考虑到对称轴的个数，特别是在九宫格图形中，我们在寻找规律时，可以将每一行或者列的同一属性相加，也可得到一个规律。

137、

解析：本题考查数量类的笔画问题。这道题目是两段式的命题形式，我们先观察第一段图形来找规律，把这一规律用到第二段图形中。第一段中每幅图形都可以一笔画。观察第二段图形中的前两幅图形都可以一笔画成，那应该选一个可以一笔画成的图形，只有 B 项符合这一规律，因此本题答案是 B 项。

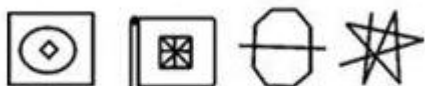

138、今年 M 市开展了一次前所未有的化妆品广告大战。但是调查表明，只有 25% 的 M 市居民实际使用化妆品。这说明化妆品公司的广告投入有很大的盲目性。以下哪项陈述最有力地加强了上述结论？（ ）

- A. 化妆品公司做广告是因为产品供过于求
- B. 去年实际使用化妆品的 M 市居民有 30%
- C. 大多数不使用化妆品的居民不关心其广告宣传
- D. 正是因为有 25% 的居民使用化妆品，才要针对他们做广告

解析：论点是广告投入有很大的盲目性，论据是只有 25% 的 M 市居民实际使用化妆品。B 项去年实际使用化妆品的 M 市居民有 30%，说明实际使用的人数的百分比反而下降了，就是广告宣传没有取得效果，可以加强。所以 B 选项是正确答案。

纠错

A 项化妆品公司做广告是因为产品供过于求，说明做广告的原因，而我们讨论的是广告的效果，论题不一致，属于无关选项，排除。C 项大多数不使用化妆品的居民不关心其广告宣传，但是还有使用的人群可能关注广告，说明广告可能还是有效果的，属于无关选项，排除。D 项中正是因为有 25% 的居民使用化妆品，才要针对他们做广告，那说明宣传不盲目，属于削弱，所以排除 D。



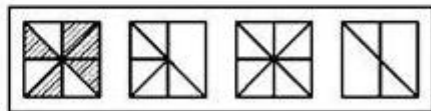
A B C D

139、

解析：此题考查的是图形中线段的数目。观察题干，在这个九宫格图形中，从横向上看，直线条的数目为 1、2、3、4、5、6、7、8、（9）。因此，本题答案为 C 选项。

拓展

当题干中元素组成凌乱时，数数量，但是一定要注意题干中的一些特征图形，例如这道题中的第 8 个，看到时，只会数一种，就是线段。因此，很容易得到答案。



A B C D

140、

解析：本题考查样式类中的运算题目。通过观察，图形外形相同，仅内部填充颜色、填充颜色的数量不同，这是一道黑白叠加题目。第一段图形中阴影+阴影=空白，空白+空白=空白，空白+阴影=阴影；可见相同图案叠加后都是空白，且第三个图中三个挨着的空白部分的直线被隐去了。根据这个规律黑白叠加得到 C 选项，因为第二段并没有挨着空白部分，所以直线保留。因此，本题答案为 C 选项。

拓展

若图形外形相同，仅仅内部填充的数量不同，这道题目考查的有可能是黑白叠加的题目。黑白叠加题目相同部分的两幅图相加，得到第三幅图。

141、激情是一种强烈的、短暂的、爆发式的情绪状态，它与心境、应激构成情绪的三种状态。下列属于激情状态的是（ ）。

- A. 惊慌失措，目瞪口呆
- B. 手忙脚乱，陷入困境
- C. 血压升高，怒发冲冠

D. 摆脱困境，化险为夷

解析：情绪是强烈的、短暂的、爆发式的情感。B、D 项均不是一种“短暂的、爆发的”情绪，C 项则不是情绪状态，而是一种机体反应，A 项才符合定义要求。

142、概念的内涵是概念所反映的客体集合所有元素的共同属性。它是以高度紧缩形式出现的，揭示一个概念的内涵，如同抽出卷尺，这个抽出卷尺的过程在特殊的情况下不是不可以采用否定形式的。根据以上定义，下面采用否定形式揭示不同概念内涵的是()。

- A. 生荒地就是未被开垦的荒地
- B. 紧急避险就是不负刑事责任的行为
- C. 非集合概念就是不反映对象集合体的概念
- D. 非婚生子女就是不具有合理婚姻关系的男女所生的子女

解析：从否定面解释嘛，生荒地、非集合、非婚生只是自身是否定的，并没有从否定面解释，所以选 B。

143、定义：（1）“同语反复”是指定义项直接包含了被定义项所出现的定义错误。（2）“循环定义”是指定义项间接包含了被定义项所出现的定义错误。（3）“含混定义”指用模糊概念充当定义项所出现的定义错误。典型例证：（1）潜规则就是暗规则，暗规则就是潜规则。

（2）时间就是金钱。（3）麻醉是麻醉剂所起的作用。上述典型例证与定义存在对应关系的数目有（ ）。

- A. 0 个
- B. 1 个
- C. 2 个
- D. 3 个

解析：例证（1），“潜规则”是被定义项，定义项是“暗规则，暗规则就是潜规则”，定义项直接包含了被定义项，符合“同语反复”的定义；例证（2），“金钱”是个具体概念，不符合“含混定义”的定义；例证（3），“麻醉”是被定义项，“麻醉剂所起的作用”是定义项，其中间接包含了“麻醉”，符合“循环定义”的定义。故正确答案为 C，有两个例证与定义相符。

144、政府执行力是政府执行的能力和效能，是政府贯彻执行党和国家的路线方针政策以实现既定目标的实践能力。根据以上定义，下列不属于政府执行力的是

- A. 政府执行过程中的量化成分
- B. 政府执行过程中的效果体现
- C. 实现组织经营战略目标的能力
- D. 把行政决策所规定的具体任务化为工作实际

解析：划关键词，题干中的关键词为“执行”的“能力和效能”。对比选项 A 中的“量化成分”符合执行的“能力”；B 中的“效果体现”是符合执行的“效能”；D 中的具体任务实际化符合题干后半句的定义；题干中政府执行力只是“贯彻执行”，并非参与经营，C 不符。故正确答案为 C。

145、三段论是由两个包含着共同项的直言命题，得出一个新的直言命题的推理。根据以上定义，下列推理属于有效三段论的是

- A. 他不是被告人，被告人有权获得辩护，所以他无权获得辩护
- B. 菊花是花，所以野菊花是野花
- C. 人都受制于自然法则，所以他受制于自然法则
- D. 如果要马儿跑得好，就要叫马儿吃足草。你不叫马儿吃足草，就不能叫马儿跑得好

解析：关键词是原有的两个直言命题含有一个“公共项”。

根据“三段论”的定义，C 可整理为“人都受制于自然法则，他是人，所以他受制于自然法则”，“共同项”是“人”，所以 C 属于有效三段论；

A 中的“不是被告人”与“被告人”不是公共项；

B 中直言命题不全且无公共项；

D 前半部分是充分条件，后半部分是利用逆否规则而得到的推论，所以不是三段论。

故正确答案为 C。

146、概念的内涵是概念所反映的对象本质属性，它是概念质的规定性，说明概念所反映的对象是什么样的。下列不是从内涵方面说明概念的是

A. 单身汉是未婚、成年的男性

B. 社会关系包括经济、思想、政治、文化以及家庭等各方面的关系

C. 鱼是用鳃呼吸、鳍游水，有脊椎的水生动物

D. 商品是用来交换的劳动产品

解析：划关键词，题干中的关键词为：“概念的内涵”的定义强调了“本质属性”，“说明反映的对象是什么样的”。对比选项，A、C、D 三项都是说明事物是什么，是怎么样的；B 列举了“社会关系”包括哪些关系，提出了“社会”包含了哪些层面的内容，而没有说明“社会关系”是什么，B 属于概念的外延。故正确答案为 B。

147、重大突发事件是在紧急状态下发生的严重危机事件。它包括重大突发性自然灾害、重大突发性工业事故及灾难性事故、重大突发性社会骚乱事故和重大突发性政治危机。根据以上定义，下列情况不属于重大突发性社会骚乱事故的是

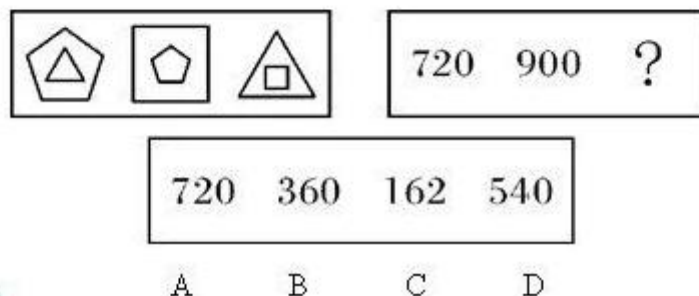
A. 传染病和恶性中毒

B. 恐怖活动、民族冲突、公共场合突发型骚乱

C. 社会动乱、选举危机、政变

D. 球场暴力、春运火车站人员滞留、节假日旅游景区人员拥挤事故

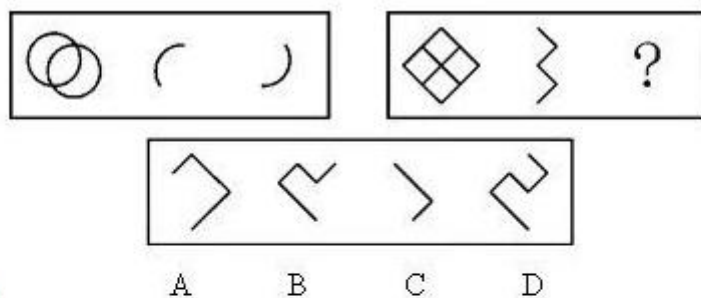
解析：根据题干可知：“重大突发性社会扰乱事故”强调“社会扰乱性”，并且与“重大突发性自然灾害”、“重大突发性政治危机”等是全异关系。对比选项，此题注意问的不是“重大突发事件”，而是“重大突发性社会扰乱事故”，因此不能用题干的第一句话来验证。突发性公共卫生事件（传染和恶性中毒等）、恐怖活动、民族冲突、公共场合突发型扰乱（如球场暴力、春运火车站人员滞留、节假日旅游景区人员拥挤事故等）具有扰乱社会秩序的特征，因此 A、B、D 属于“重大突发性社会扰乱事故”；C 中“社会动乱、选举危机、政变”等具有鲜明政治性，因此 C 属于“重大突发性政治危机”。故正确答案为 C。



148、**题**)

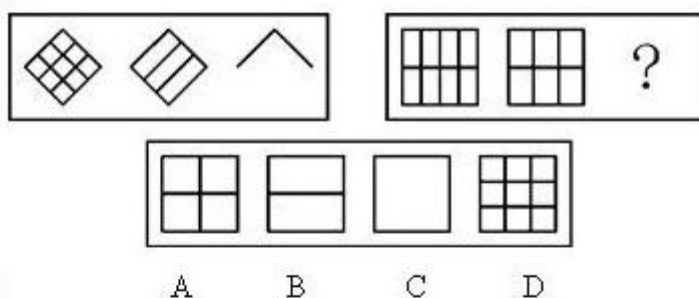
解析：计算可得，第一组图中，第一个图两个图形的内角和为 720° ，第二个图两个图形的内角和为 900° ，第三个图两个图形的内角和为 540° 。与第二组图形的数字一一对应，所以

选 D。



149、单选题)

解析：第一组图形中，第一个图形中两个多条曲线共有的点为图形的两个端点，后两个图是在第一个图中从一个端点到另一个端点的两种可行途径。第二组图形中，后两个图形是在第一个图中从底部端点到顶部端点的两种途径，D 选项正确。



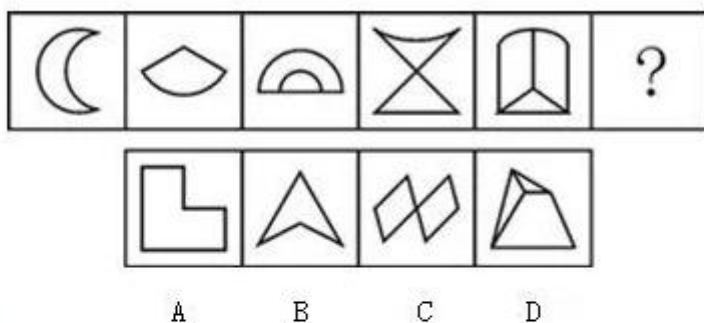
150、

解析：第一组中，第一个图形减去二条线段得到第二个图形，第二个图形减去四条线段得到第三个图形。减去的线段数是成倍递增的。第二组中，第一个图形减去一条线段得到第二个图形，第三个图形应由第二个图形减去两条线段得到，B 项正确。

151、不想当将军的士兵：不是好士兵

- A. 常在河边走：哪能不湿鞋
- B. 巧妇：难为无米之炊
- C. 万事俱备：只欠东风
- D. 吃得苦中苦：方为人上人

解析：注意 $A \rightarrow B$ 的矛盾命题是 $\neg A \wedge B$ ，即 $B \wedge \neg A$ ，其矛盾命题是 $B \rightarrow A$ ，所以 A 是 B 的必要条件，即只有相当将军的士兵才是好士兵。故而此题选 D。



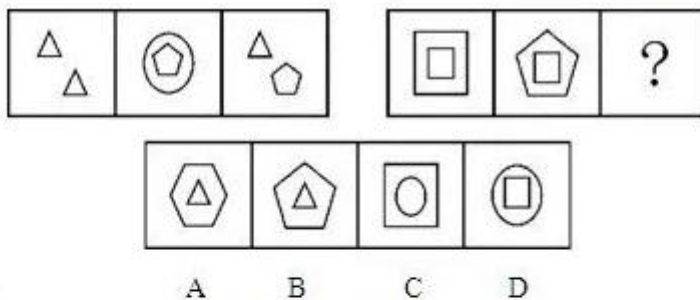
152、

解析：数交点个数，题干为 2、3、4、5、6，那么接下来交点应该为 7，选项中交点个数分别是 6、4、7、5。因此，本题选 C。

纠错

这道题数封闭面的话，呈现 1，1，2，2，3，（）。那答案选 D，呈现 1，1，2，2，3，3 的规律，

但是相对交点的规律是 1、2、3、4、5、6、7 与 1、1、2、2、3、3 的两个规律比较的话。交点的更有规律性，优先考虑。答案选择 C

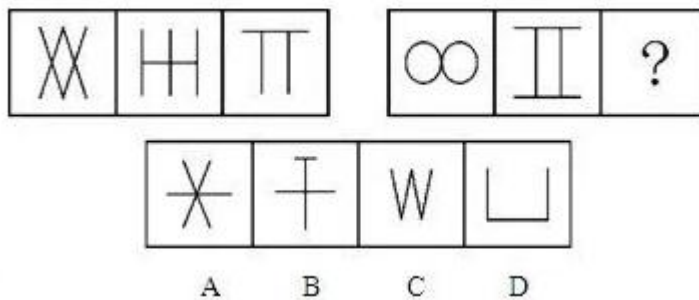


153、

解析：本题考查数量类元素的数字规律。第一组图形，从整体看上，存在 3 个三角形、2 个五边形、1 个圆；第二组图形，从整体看上，存在 3 个四边形、2 个五边形、1 个三角形；因此，答案为 B 项。

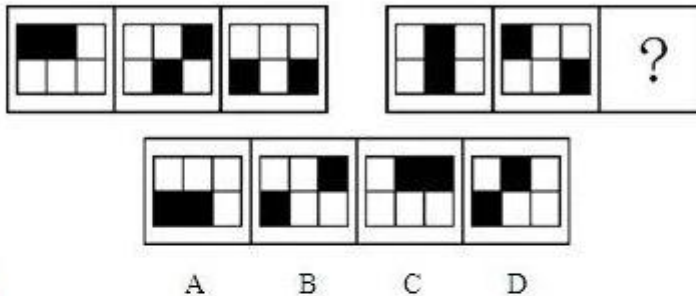
拓展

本题不是一道常规的元素类题目，按常规的元素题来说，当左边是 3 个三角形、2 个五边形、1 个圆的规律时，右边也应该是 3 个三角形、2 个五边形、1 个圆。但这道题右边的元素却变为四边形、五边形和三角形。左、右边图形的元素并不对应。这类题在深圳市考中是比较常见的，需要我们把图形抽象为一个数字，而不关注图形本身。因此这道题可看作左右两边存在相同的数字规律，即都是等差数列。



154、

解析：第一组图，从图形轴对称方向，把图形分割开来，图形会分为 2 个 X、2 个 H、2 个 T；依次规律，第二图形可分为 2 个 O、2 个 I、2 个 V，因此答案为 C 项。这道题大家疑问的是 D 项为什么不可以？因为 D 项也可分割为 2 个 L。D 项之所以不可以，是因为 2 个 L 是相对的，其它的字母是并列的。



155、

解析：第一组图形中所有的小黑块组合一起就是整个图形；第二组图形也是所有小黑块组合一起是整个图形。

156、硬件：软件

- A. 上弦：下弦
- B. 淡入：淡出
- C. 胜诉：败诉
- D. 实概念：空概念

解析：题干中两词“硬件”与“软件”是并列关系中的矛盾关系。D 中“实概念”与“空概念”的和等于“概念”，因此二者是矛盾关系。故正确答案为 D

纠错

A、B、C 项均为反对关系。

157、数字控制具有精准性，也具有高效性；不仅适用于简单的批量工作，而且适用于复杂的单件工作；不仅讲标准、讲程序，而且讲规范、讲信用，一旦操作违反了设计的路线，数控就会自动作出反应，“命令”正处于工作状态的各环节戛然而止。制度则是规范行为、统一方向、提高效率的。管理靠制度，制度如数控。由此得出

- A. 管者，拘束之意也，具有刚性，是一种硬约束
- B. 制度是管的要义所在
- C. 没有制度，就导致各行其是，远离甚至背离预先设定的目标
- D. 没有制度，就失去了成员需要共同遵守的办事规程或行动准则

解析：题干前半部分指出数控的特点及重要性，后半部分把制度与数控作类比。

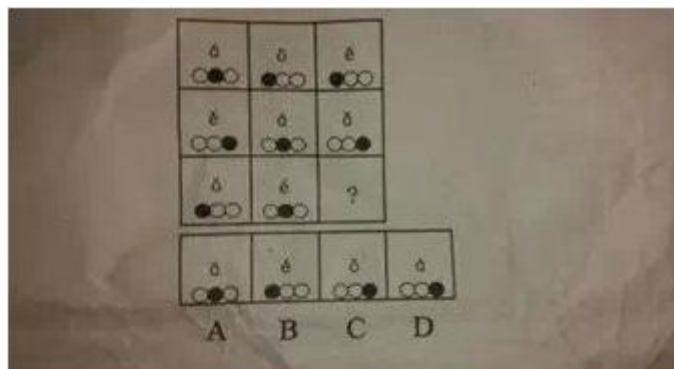
根据类比，题干总体阐述的是制度对于管理的重要性，可以推出 C。

A 错误，“数控不仅讲标准和程序，而且将规范和信用”说明数控有柔性，是软约束，类比制度也应如此；

B 错误，“制度可以提高效率，是管理的倚靠”，但是这不表明制度就是要义；

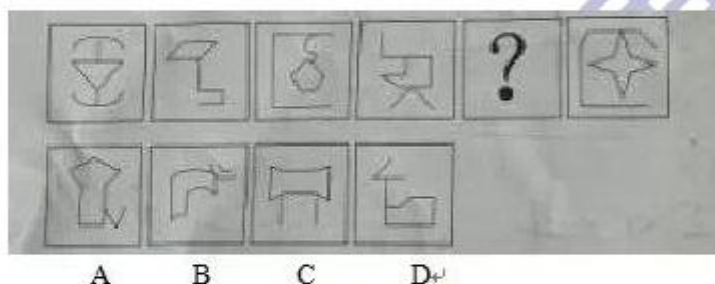
D 错误，题干中并没有相关内容来说明“没有制度会怎么样”。

故正确答案为 C。



158、

解析：样式遍历。纵行观察规律，每一纵行都应包含 a、e、o 三个字母，所以选 C。



159、

解析：本题整体观察图形没有规律，整体观察没规律可以观察局部。可以看到一组图形中，局部看，图形边数上呈现：3,4,5,6,?,8 的规律，故应补入直线数为 7 个的图形，答案为 A。

160、文饰作用是一种自我防御机制或适应行为，指一个人为掩饰不符合社会价值标准、明显不合理的行为，或不能达到个人追求目标时，往往在自己身上或赎罪环境中找一些理由来为自己辩护，把自己的行为说成是正当合理的，以隐瞒自己的真实动机或愿望。

根据上述定义，下列选项属于文饰作用的是：

- A. 小明因为没有复习功课，不惜把自己的手弄伤以逃避考试
- B. 某犯罪嫌疑人为了逃避法律制裁，串通证人作伪证，编造不在场证明为自己开脱
- C. 某电子公司新产品投放市场失败，经过研究，管理层认定失败的原因是前期宣传没有做好
- D. 小王想成为公司经理，但他认为自己能力不够，没有报名竞聘，事后却对人说自己不屑参加

解析：定义中的关键信息：①一个人②为掩饰不符合社会价值标准、明显不合理的行为，或不能达到个人追求目标时，往往在自己身上或赎罪环境中找一些理由来为自己辩护，③把自己的行为说成是正当合理的，以隐瞒自己的真实动机或愿望。

AB 均没有把自己的行为说成是合理的，C 是电子公司的管理层行为，不是个人行为，排除。

D 涉及到小王想成为公司经理，但他认为自己能力不够，没有报名竞聘，事后却对人说自己

不屑参加，符合定义，故答案为 D。

161、负荆请罪：廉颇

- A. 围魏救赵：孙武
- B. 纸上谈兵：赵奢
- C. 风声鹤唳：房玄龄
- D. 退避三舍：重耳

解析：围魏救赵是孙臆；纸上谈兵是赵括；风声鹤唳是苻坚。

162、海水：盐分：细胞脱水

- A. 树木砍伐：沙尘暴：植树造林
- B. 碳酸饮料：二氧化碳：骨质疏松
- C. 汽车运输：二氧化氮：气温升高
- D. 温室效应：臭氧层破坏：皮肤癌

解析：海水内富含盐分，盐分浓度高可以使细胞脱水，选择 B，碳酸饮料富含二氧化碳，二氧化碳浓度高使人骨质疏松。ACD 明显不符合。

163、有研究表明，植物叶片边缘部位导水功能和气体交换功能不及叶片中间部位。以某种露天生长的热带植物海芋为例，其叶片直径可达 1 米，晴天下午其叶片边缘附近比叶片中部温度高 8.8 摄氏度，导致一些叶片边缘出现高温灼伤而“干枯”。因此，科学家认为，这种现象限制了叶片面积的继续扩大，自然界中巨叶植物当然就比较少。

由此可以推出：

- A. 寒带植物叶片不如热带植物叶片大
- B. 在温室长大的海芋叶片比热带露天生长的大
- C. 植物叶片导水和气体交换功能减低会抑制散热
- D. 热带地区冬季常常下雨时植物的叶片会比不下雨时小一些

解析：这是一道归纳推理题。题干中并没有提到寒带植物，所以 A 项无法推出，这种比较没有根据；同理，B 项也是无从比较，题干并没有提到温室中的海芋；D 项所说的冬季下雨也无法从题干得出，故不能进行比较；而 C 项是可以推出的，题干说叶片边缘能力没有中心高，故叶片边缘温度高，所以可以推出“植物叶片导水和气体交换功能减低会抑制散热”。

164、前苏联研制生产的米格-25 喷气式战斗机所使用的许多零部件与其他战斗机相比要落后得多，但其整体作战性能却达到甚至超过了其他国家同期生产的战斗机。其原因是，米格公司在设计时从整体考虑，对各零部件进行了更为协调的组合设计，使该机在升降、速度、应激反映等方面成为当时世界一流战斗机。这一因组合协调而产生的意想不到的效果，被后人称之为“米格-25 效应”

根据上述定义，下列符合“米格-25 效应”的是：

- A. 科研人员的研究水平决定了科研机构的攻坚能力
- B. 某青年球队在富有经验的教练的带领下，打败了全明星联队
- C. 一只木桶盛多少水，取决于桶壁上最短的那块木板
- D. 巨鹿之战中，项羽凭借与秦军决一死战的决心，率领 2 万士兵全歼秦军 30 万

解析：本题的关键词是“从整体考虑，各零部件进行了更为协调的组合设计，成为世界一流战斗机”，“组合协调产生的意想不到的效果”。AC 个选项都不符合该关键词。D 项中 2 万士兵全歼秦军 30 万，这个是通过必死的决心，战胜利对方。没体现组合。

B 选项，青年队单就个体来说不是明星队员的对手，但是青年队整体却战胜了明星队，体现的就是组合的力量。

165、配乐：电影：烘托

- A. 序言：著作：致谢
- B. 电视：屏幕：显示
- C. 道具：戏剧：提示
- D. 桅杆：帆船：支撑

解析：在电影中配乐起到烘托的作用，在帆船中桅杆起到支撑的作用。A 中序言不是表示致谢，C 中道具不是起提示的作用。B 中电视和屏幕的位置颠倒了。因此本题答案是 D。

166、劳动产品：商品：物美价廉

- A. 兰花：植物：香气宜人
- B. 金属：铜：导电
- C. 天然气：甲烷：燃烧
- D. 动物：哺乳动物：穴居

解析：商品是劳动产品的一种，有的商品可能会是物美价廉，哺乳动物是动物的一种，有的哺乳动物可能是穴居的。

167、(单选题)

美国南加州大学的科学报告说，他们在实验鼠脑部的海马区植入电极，训练他们进行一系列杠杆操作并给予相应奖励，并通过电极记录这一过程中实验鼠的脑部活动。才签的研究表明，海马区能把短期记忆转换成长期记忆。科学家随后在实验鼠的海马区注入某种物质，阻断与长期记忆有关的神经信号。观察表明，这使实验鼠忘记了所受的训练。然而，当研究人员用电极向实验鼠脑部输入信号、模拟训练过程中的脑部活动时，实验鼠又暂时记起了正确的操作顺序。但是如果输入的是打乱过的信号，就没有这种效果。

以下推论正确的是：

- A. 实验鼠大脑的海马区如果收到损害，将无法记起刚刚学过的内容
- B. 向大脑输入特定的序列的电信号，可以为实验鼠重建失去的记忆
- C. 将某项工作编辑成特定的信号输入大脑，可以让人自动学会该项工作
- D. 实验鼠学习杠杆操作的过程，就是海马区处理和传输神经信号的过程

解析：本题考查的是日常推理题，全文都在围绕阻隔实验鼠大脑的海马区会影响它的记忆，

A 选项说海马区如果收到损害将会无法记忆起刚刚学过的内容，是题干中可以一步推知的，所以选 A。题中说的是需要向实验鼠脑部输入信号、模拟训练的过程可以让实验鼠暂时记起正确顺序，而非 B 中的特定序列的电信号，故排除。C 中出现了人，而题干围绕实验鼠，无中生有，排除。D 选项讨论的是实验鼠如何利用大脑区域学习操作，话题不一致，排除。

168、某市税务局最近一项调查显示，去年该市纳税最多的个体经营户中，本地人占到 80% 以上，这充分说明外地人在本市做生意规模普遍不如本地人。以下哪项如果为真，最能支持上述结论？

- A. 本市个体经营户中，外地人占到 35%
- B. 本市个体经营户中，本地人占到 90%
- C. 本市低收入人群中，外地人占到 25%
- D. 外地人占本市总人口的比例高达 30%

解析：本题论点是最后一句“外地人在本地做生意规模普遍不如本地人”，A 选项说的是外地

人占 35%，而纳税时只占不到 20%，因此支持了题干论点；B 选项说在本市个体经营户中本地人占 90%，外地人占 10%。而 10%的外地人在纳税时占将近 20%。说明外地人的纳税额高，生意规模大，对原论点是削弱。C 选项中说的低收入人群和我们研究的论题不一致，排除，D 选项中说的本市人口比例而非做生意的人的比例，论题不一致排除。正确答案选 A。

169、近年来，为避免交通事故的发生，某市交通主管部门加强了交通安全宣传力度。统计数据表明，2008 年以前，全市交通每年死亡千人以上，从 2008 年开始，每年交通事故死亡人数控制在 1000 人以下，2008 年事故死亡人数为 921 人；2009 年死亡 738；2010 年死亡 569。由此我们得出结论，只要加强交通安全的宣传力度，就能有效减少交通事故的发生。

以下哪项如果为真，最能削弱上述结论？

- A. 近年来，交通主管部门在全是中小学进行了为期一周的交通安全教育，通过图片展示、宣传手册发放等方式向中小学生学习交通安全知识
- B. 近年来，交通安全隐患的存在引起相关部门的重视，国家投入大量资金，对危险地段的道路交通设施进行整修或者重新规划建设
- C. 近年来，由于上班高峰期交通拥堵现象严重，该市提高了市民购买轿车的门槛，限制了车辆的增加，从而降低了交通事故的发生
- D. 由于酒驾是交通事故发生及死亡的主要原因，该是字 2008 年起。出台了《酒后驾车处罚条例》，加大了对酒后驾车的惩罚力度

解析：本题属于论证题目。论点：只要加强对交通安全的宣传力度，就能有效减少交通事故的发生。A 话题不一致，对中小学宣传与题干无关，属于无关选项。B 提到国家在危险地段的道路进行整修等，但没有提到最终的效果，不能确定是否可以成为减少交通事故发生的原因，所以无法削弱论点。C 另有他因，指出并非是加强交通安全宣传力度，而是因为提高了购买轿车的门槛，限制了车辆的增加，从而降低了交通事故的发生。D 提到酒后驾车是交通事故发生及死亡的主要原因，但是加强酒驾惩罚力度并非提到最终的效果，无法确定是否可以成为减少交通事故发生的原因。因此 C 项是正确答案。

170、研究表明，适当休息可以提高工作效率。当完成一项复杂艰巨的任务时，人们可以适当休息一下，做点简单的其他事情，之后继续工作，这可以让工作业绩提高 40%，一家公司老总将这一理论应用于公司，增加了员工休息时间，但生产业绩却没有上升，反而明显下降。

以下哪项如果为真，最能解释上述矛盾现象？

- A 公司的有些部门并没有严格执行老总的休息计划
- B 一些员工在休息的时候想工作，工作的时候想休息
- C 近段时间公司的销售业绩不佳，没有出现明显的增长
- D 公司生产都是流水线作业，员工做的都是单一机械动作

解析：题干中的矛盾为增加了休息的时间，生产业绩却没有提升，反而下降。D 项：因为公司生产是流水线作业，那么休息时间增加了意味着流水线的工作一定会滞后，效率不可能提高，且员工做的都是单一机械动作，休息并能提升自己的工作效率，所以有效地解释了为什么生产业绩没有上升反而下降了。

纠错：

A 项：该项仅能说明有的部门没有执行休息计划，只能解释业绩没有上升，并不能解释其为什么下降了，所以 A 项不能解释；B 项：工作时想休息、休息时想工作与实行不实行这种休息计划没有关系，无法解释；C 项：销售业绩和题目中的生产业绩不等同，所以无法解释。

171、有研究结果显示，看电视对儿童尤其是婴幼儿的智力发展存在着负面影响。研究人员就此警告家长，避免让 2 岁以下的孩子看电视，因为过早看电视可能有碍幼儿智力发展。

以下哪项如果为真，能够支持上述观点？

A 电视上五彩斑斓的颜色会影响幼儿的视力

B 1~2 岁是儿童认知形成的重要时期

C 幼儿过多看电视会减少他们对真实环境的观察和触摸

D 过早地接触电视会减少幼儿与家长间表情、动作、言语的互动

解析：论点：过早看电视可能有碍幼儿智力发展。B 项是论点成立的一个前提条件。

纠错：

A 项：视力和智力并不一样，它们之间存在什么样的关系我们无法从题干获得，所以无法支持观点；C 项：看太多电视与过早看电视概念不同，题目中强调的是过早看电视，看太多电视并不意味着就过早看电视，所以 C 项无法支持论点。D 项跟智力发育没关系。

172、二难推理是由两个假言判断和一个选言判断作前提构成的推理。假言判断是断定一个事物情况的存在（称为前件）是另一个事物情况存在（称为后件）的条件的判断。选言推理是断定在几种可能情况下，至少有一种情况存在的判断。二难推理是通过运用选言判断来肯定或否定假言判断，从而来肯定或否定假言判断的后件或前件存在或不存在的一种推理形式。

根据上述定义，下列不属于二难推理的是：

A 如果刺激老虎，它是要吃人的；如果不刺激它，它也要吃人的；或是刺激它，或是不刺激它；所以老虎总是要吃人的

B 如果今天下午下大雨，那么操场就要积水。如果操场积水，那么球赛就要延期，所以，如果今天球赛不延期，那么今天下午没有下大雨

C 如果打人的行为触发了法律，那么要收到法律处罚；如果打人的行为没有触犯法律，那么要受到社会舆论的谴责。打人的行为或者触犯了法律，或者没有触犯法律，所以或者要受到法律处罚，或者要受到社会舆论的谴责。

D 如果张三是杀人犯，那么他有作案时间；如果张三是杀人犯，那么他有作案动机。张三或者没有作案时间，或者没有作案动机，所以他不是杀人犯。

解析：关键词：（1）两个假言命题；（2）一个选言命题。B 选项中出现的是三个假言命题，却未出现选言命题，故选择 B。

纠错：

A、C、D 选项中，均出现了两个假言命题和一个选言命题，符合关键词。

173、近 50 年来，某市户籍人口的平均寿命提高了 38 岁，达到了 82 岁，居全国最高水平。与此同时，该市恶性肿瘤的总体发病率和死亡率也逐年上升，目前已相当于欧美等发达国家和地区 2/3~3/4，在世界范围内处于中等水平，在全国则处于较高的水平。由此可以推出：

A 目前该市对于恶性肿瘤的治疗水平是全国最高的

B 该市恶性肿瘤的总体发病率和死亡率其实比欧美等发达国家和地区低

C 该市恶性肿瘤的总体发病率和死亡率虽逐年上升，但此类疾病并不是造成目前该市人口死亡的主要原因

D 如果 50 年前导致该市人口死亡的主要疾病发病率目前没有降低，那么对这些疾病的治疗水平在 50 年间一定有提高

解析：题干可知目前已相当于欧美等发达国家和地区的 $\frac{2}{3}$ -- $\frac{3}{4}$ ，这充分说明了比欧美等发达国家和地区低，所以选择 B。

纠错：

A 项：从题干中无法得出该市恶性肿瘤治疗水平如何；C 项：从题干中得不出恶性肿瘤是不是该市人口死亡的原因，不选；D 项：并不一定意味着这些疾病治疗水平提高了，很有可能是其他原因导致平均寿命升高。

174、涵化是指不同文化的群体间发生持续的接触，从而导致原有文化发生变迁的现象。

根据上述定义，下列不属于涵化的是：

A 历史上英国曾将其法治文化和政治体系推行到自己的殖民地

B 在 20 世纪，牛仔裤成为了风靡世界的时尚穿着

C 近年来，越来越多的外国人对中国文化感兴趣，纷纷来中国学习汉语

D 由于英国曾长期受罗马帝国的统治及罗马天主教的影响，英语词汇中出现大量拉丁语词

解析：关键词：（1）不同文化的群体间发生持续的接触；（2）文化发生变迁的现象。C

选项中学习汉语并不属于文化的变迁，因此不符合关键词。故选择 B

纠错：

A 选项中属于英国文化与殖民当地文化的接触与变迁，符合关键词；B 选项中，牛仔裤属于 20 世纪的新产品，在全球风靡，符合要件；D 选项中属于英国语言文化与罗马帝国语言文化的接触与变迁，符合关键词。

175、暑假时期，学校的绿化环保处为所有暑假不回家的学生提供勤工俭学的机会，这有两个好处，一、是缓解了暑假期间绿化环保处人员不足的压力；二、是为贫困大学生减轻了经济压力。

以下不能质疑绿化环保处的计划的是（ ）

A 暑假不回家的学生不一定是贫困生

B 绿化工作专业性较强，学生难以掌握

C 绿化环保处的资金相对有限，而暑期不回家的学生较多

D 很多暑期不回家的学生报了考研辅导班

解析：

本题是一道削弱质疑题。本题的论点是一、是缓解了暑假期间绿化环保处人员不足的压力；二、是为贫困大学生减轻了经济压力。A 项强调学生不一定是贫困生，削弱了论点二；B 项强调学生难以胜任绿化环保工作，削弱了论点一；D 项则同时削弱了论点一和二；C 项则不能削弱，因为虽然资金少，但也可以达到论点一和二的效果，只是效果没那么好而已。因此答案为 C 项。

176、（1）九·一八事变

（2）日本无条件投降

（3）卢沟桥事变

（4）太平洋战争爆发

（5）百团大战

A 1-3-5-4-2

B 1-3-4-5-2

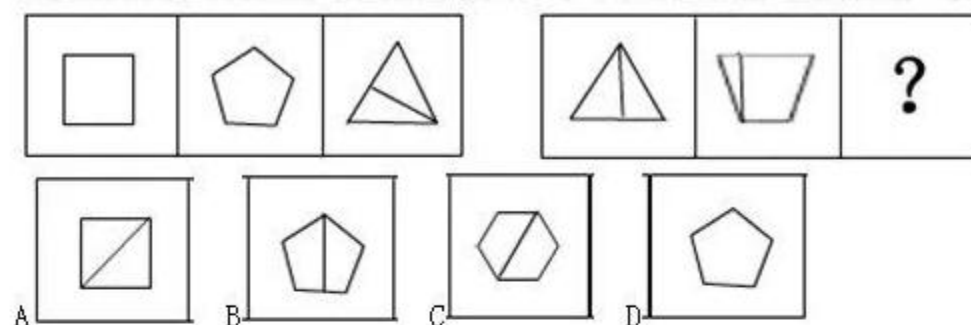
C 3-1-5-4-2

D 3-5-1-4-2

解析：本题事件的时间顺序为九·一八事变发生在 1931 年；日本无条件投降发生在 1945 年；卢沟桥事变发生在 1937 年；太平洋战争爆发在 1941 年；百团大战发生在 1940 年；因此答案为 A 项。

177、

从所给的四个选项中，选择最合适的一个填入问号处，使之呈现一定的规律性（ ）



解析：本题考察的是数量类规律。图形的规律是左边三图角的数量是 4、5、6；右图角的数量是 6、7、8，因此排除 AD。BC 的区别为外边图形的变数不同，观察发现，第一组中为 4,5,3；第二组图中为 3,4，缺少个 5，排除 C，答案为 B。

178、近来，月嫂收入成为人们讨论的热门话题。有人要求政府加强监管，并质疑月嫂的收入为何能高过一个医学博士的月薪。也有人反驳说，月嫂的收入为什么不能高过医学博士呢？月嫂收入的提高，一方面是市场调节的结果，另一方面反映了我国越来越重视体力劳动，尊重体力劳动者是社会的进步。

下列哪项陈述不能支持反驳者的观点？

- A 收入高低不完全取决于学历高低
- B 有些月嫂非常优秀，具有博士学位
- C 随着新生儿的增多，出现“一嫂难求”的现象
- D 谁能放下身段去赚辛苦钱，谁就值得尊重

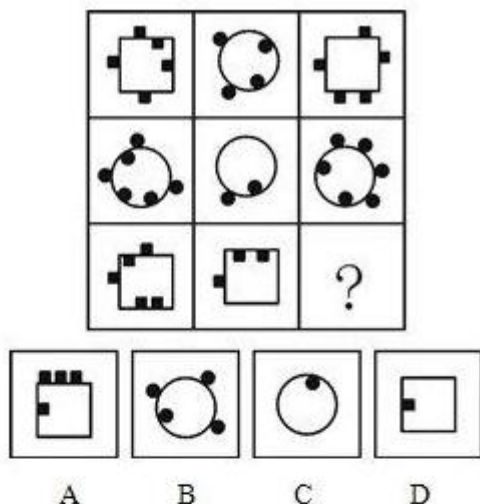
解析：题目中反驳者的观点是：月嫂的收入可以高过医学博士。A 收入高低不完全取决于学历的高低，说明收入与学历并无直接关系，故月嫂的收入有可能高于医学博士。B 选项通过举了一些高学历的月嫂，说明有些月嫂收入确实可以高于医学博士。C 选项指出“一嫂难求”的现象，说明需求量大于供应量，才导致月嫂的工资可能会高于医学博士。A、B、C 三项都在不同方面对结论进行了支持。只有 D 选项中“放下身段去赚辛苦钱”与月嫂没有必然关联，所以为无关选项，因此不能支持，选择 D 项。

179、霸王条款是指一些经营者单方面制定的逃避法定义务、减免自身责任的不平等格式合同、通知、声明和店堂告示或者行业惯例等，限制消费者权利，严重侵害消费者利益

根据上述定义，下列选项中不属于霸王条款的是

- A 某美容院告示：因已投保，如需要索赔须向保险公司要求赔偿
- B 某餐厅告示：请保管好自己的物品，丢失本店概不负责
- C 某些商场在促销广告中规定：本商场对促销活动内容拥有最终解释权
- D 某房东提出，每个月增加 500 元房租，否则就不与租房者签订房屋续租合同

解析：主体为经营者。D 选项房东不属于经营者。

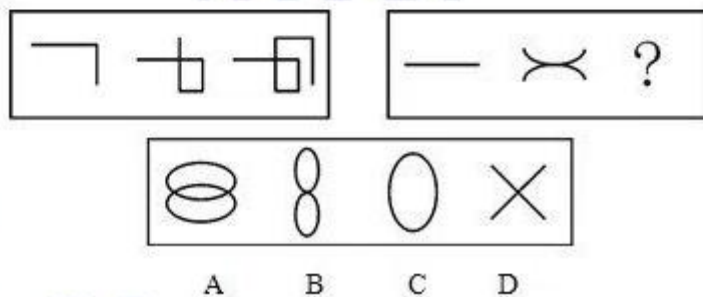


180、

解析：首先横向观察，发现每一行的黑方块和黑圆块数量变化明显。进一步观察，每一幅图形中的黑方块和黑圆块又被矩形或圆分离成内外两部分。因此我们内外分开运算。第一行：第一幅外 3 加第二幅外 2，等于第三幅外 5；第一幅内 2 减第二幅内 2，等于第三幅内 0。第二行，发现同样遵循外加内减规律。所以第三行应当也遵循，然而我们发现 A 和 B 选项都符合此规律。我们需要第三行尽可能与前两行的规律相似。A 与 B 的区别在于形状。观察第一行，矩形与圆形运算得到矩形；观察第二行，圆形与圆形运算得到圆形；那么第三行，矩形与矩形运算应当得到什么呢？按照第二行的规律，相同的两个形状运算，得到的形状应保持不变，因此矩形与矩形运算应得到矩形。因此，本题答案为 A 选项。

拓展：

九宫格的观察，有横看、竖看、S 看等观察方式。考生做题时，一般先横看。在做题时，还要注意，寻找规律应遵循“先整体，后部分；部分问题部分看”，本题明显已经用矩形和圆形将黑色图形分为内外两部分，因此我们直接内外分开运算即可。



181、

解析：本题是运算规律当中比较新颖的一种考察方式，隶属于新运算——拉伸。先观察第一组图形，发现这三幅图形的各个组成形状，既有相同之处，又有不同之处，可以确定考察样式类规律。进一步顺次观察，发现从第一幅到第二幅图形，多延伸了一笔；从第二幅到第三幅继续延伸一笔。第二组图形应当在变化规律上与第一组图形保持尽可能的相似，第一幅可以看作两条直线叠加在一起，第二幅是两条直线分别拉伸为一条曲线，则第三幅应当继续拉伸即成为两个椭圆，又从具体的形状和位置来看，A 项最符合应当拉伸成的形态。因此，本题答案为 A 选项。

纠错：

第一段图形中拉伸的线的形状都是相似的，所以第二段拉伸的线也应尽可能相似，B 项的椭圆是竖的，线的形状没有 A 更贴近前两幅图形，故排除 B。

182、前后：上下与（ ）在内在逻辑关系上最为相似。

- A 有无：好坏
- B 彼此：矛盾
- C 花草：树木
- D 冬夏：寒热

解析：本题考察的是并列关系中的相对关系。前与后都是表示方向，两个概念在外延上完全不同，从逻辑关系来说，属于反对关系；上与下表示位置，两个概念从外延上看同样是反对关系。四个选项中，只有 B 选项，彼此的本意，即你我，两个概念从外延上说属于反对关系；矛盾的本意，是两种不同的兵器，两个概念的外延同样是反对关系。与题干完全符合。因此，本题答案为 B 选项。

纠错：

A 选项中，有和无是矛盾关系，即非此即彼，并不是反对关系，排除。C 选项中，花是被子植物的繁殖器官，草则是只草本植物，两者不能构成反对关系，排除。树木这个词，如果分开来看，树的本意是乔木，显然不能与“木”的本意构成反对关系，排除。D 选项中，冬和夏可以构成反对关系，然而在汉语的表达习惯中，“寒”一般与“暑”相对；“热”则与“冷”相对，极冷方可称为寒，所以寒与热并不能构成反对关系，排除。

183、制定：实施与（ ）在内在逻辑关系上最为相似。

- A 治疗：痊愈
- B 盗窃：逮捕
- C 追踪：猎杀
- D 战争：屠杀

解析：制定和实施都是动词；且制定和实施是一先一后的两个阶段，针对的是同一个客体，即具体的内容，例如计划、政策等。选项中，只有 C，同为动词，且这两个动词针对同一个客体，追踪和猎杀都针对的是具体目标，例如猎物。因此，本题答案为 C 选项。

纠错：

A 选项，治疗的宾语是疾病，而痊愈的主语是疾病，与题干两词关系不同，排除。B 选项，盗窃的宾语是物品，逮捕的宾语却是人，也排除。D 选项，战争是名词，不是动词，从外在词性就可以排除。

184、今年以来，某导游被游客投诉的次数比其他导游多出一倍。针对旅游公司认为自己服务不到位的质疑，该导游反驳说，每次针对投诉的调查都说明，这些针对他的投诉只是游客太过挑剔。要使该导游的反驳成立，以下（ ）是必须的假设。①如果游客不是太过挑剔，他们就不会进行投诉②游客是否挑剔与导游的服务质量没有关系③每次针对投诉的调查都能够真实反映当时的状况

- A 只有①
- B 只有③
- C 只有②③
- D ①②③均是

解析：题目需要加强的是该导游的反驳，我们到题干中去找该导游的反驳。从题干可知，旅游公司基于该导游被投诉次数比其他导游多一倍，所以认为该导游服务不到位；而该导游的

看法是：这些针对他的投诉只是游客太过挑剔，他的论据是每次针对投诉的调查。显然，要想支持导游的观点，至少要有个前提，即这些调查是真实可信的，所以③是该导游看法成立所必须的前提。因此，本题答案为 B 选项。

纠错：

①说，如果游客不是太过挑剔，他们就不会进行投诉，即游客投诉就一定是因为太过挑剔。如果是这样的话，那么所有导游受到的投诉都应该是由于游客挑剔，显然不能解释为什么该导游被投诉的次数比其他导游要多，无法支持导游的反驳，排除。②说，游客是否挑剔与导游的服务质量没有关系，可是这与投诉并无关联，实际上是个无关项，排除。

185、用水超标家庭指的是日均用水量超过所在地区 70%家庭的水平的家庭。近五年来，甲地区的用水超标家庭数量明显逐年增加。由此可以推知以下哪项陈述也必定属实？（ ）

- ①今年甲地区任何一个用水超标家庭的日均用水量都高于该地区的日均耗水量。
- ②近五年来，甲地区的日用水总量逐年明显增加。
- ③近五年来，甲地区用水不超标的家庭数量明显逐年增加。

- A 只有①
- B 只有②
- C 只有③
- D 只有①和②

解析：本题考查日常推理，由题干不能得出该地区的日均用水量,也不能得知甲地区的日用水量总量,故①和②无法推出；由题干可知用水超标的家庭占所在地区家庭数量的 30%,而不超标的家庭占 70%,因此,由“甲地区的用水超标家庭数量明显逐年增加”可以推出该地区家庭数量增加,则可以推出③。

186、镰刀：农夫：水稻 与 （ ） 在内在逻辑关系上最为相似。

- A. 机器：工人：印刷
- B. 奶牛：奶农：牛奶
- C. 兵法：将军：战役
- D. 银行卡：客户：存钱

解析：本题考查的是类比中的逻辑关系，农夫利用镰刀割水稻，奶农利用奶牛挤牛奶。

187、三心：两意与 （ ） 在内在逻辑关系最为相似。

- A 五脏：六腑
- B 朝令：夕改
- C 惊世：骇俗
- D 信誓：旦旦

解析：三心二意这个词可以分开，都是形容做事不认真，三和两都是形容心意多，都是虚词，惊世骇俗也可以分开，都是形容很震惊。因此，本题答案为 C 选项。

纠错：

A 项五脏六腑有一一对应关系所以不选，排除，B 项意思不相同，排除，D 项旦旦修饰誓言，排除。

188、拉杆箱：手提袋 与 （ ） 在内在逻辑关系最为相似。

- A 茶杯：茶叶
- B 球鞋：凉鞋
- C 电脑：书桌

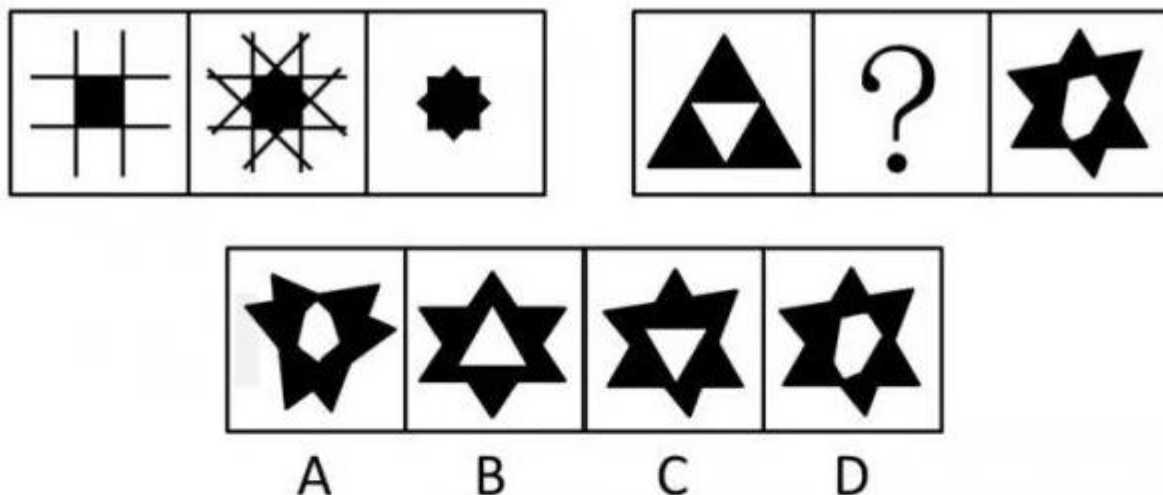
D 桌子：衣柜

解析：拉杆箱和手提袋是并列关系，都可以把东西放里边。A 项：茶叶和茶杯是对应关系，用茶杯泡茶叶；B 项：球鞋和凉鞋是并列关系，都是用来穿的，且脚在写字里边，逻辑关系与题干更加接近；C 项：电脑和书桌是对应关系，电脑可以放在书桌上；D 项：桌子和衣柜是并列关系。桌子可以放东西，衣柜可以挂衣服，但是前者是放在桌子表面上，后者是挂在衣柜内部。故正确答案为 B。

纠错：

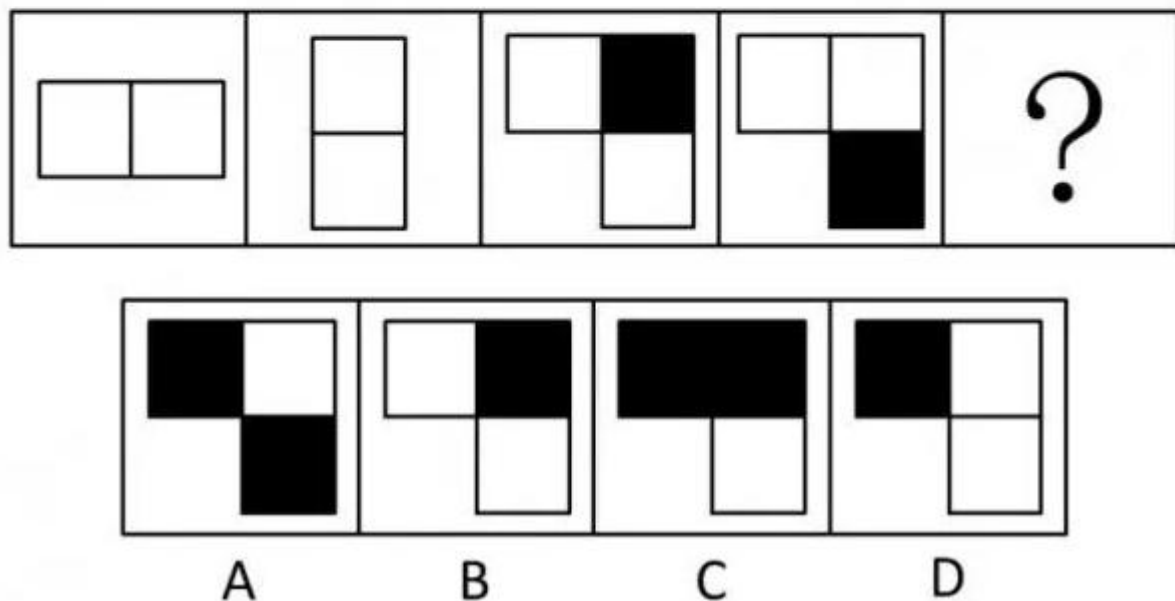
A 项不同类，所以排除，B 项功能不一样，排除，C 项不同类，功能也不一样，排除。

189、



解析：第一幅图旋转之后叠加在原图之上，得到第二幅图；第二幅图中，叠加未重合的白色部分去掉，得到第三幅图。因此，本题选 C。

190、



解析：本题考点是元素叠加，由题干可以看出同色叠加为黑，异色叠加为白，1、2 图叠加得 3 图，2、3 图叠加得 4 图，3、4 图叠加得 D 选项图形。因此，本题选 D。

191、有小利、小美、小景、小真、小珑五个孩子在一起玩耍，有的孩子额头上沾了泥巴。显然，每个孩子只能看见别人头上有没有泥巴，而看不见自己头上有没有泥巴。头上沾有泥巴的孩子只说假话，只说假话的孩子头上一定沾有泥巴。同样，头上没泥巴的孩子只说真话，只说真话的孩子头上一定没有泥巴。已知：

小利说：我看见三个人头上没泥巴，一个人头上有泥巴

小美说：我看见四个人头上都有泥巴

小景说：我看见四个人头上都没泥巴。

小珑说：我看见一个人头上没泥巴，三个人头上有泥巴。

由此，以下陈述一定为真的是（ ）

A 小景头上没有泥巴

B 小利和小真头上没有泥巴

C 小美头上有泥巴

D 小真和小珑头上有泥巴

解析：先看小景，如果小景是真的，那么其他人都是真话，显然小美的与小景的矛盾，故而小景说假话。再看小美，如果小美是真的，则其他人都是假的，那么此时小珑看到的情况正好是一个人头上没有泥巴（小美），其他人头上有泥巴，也就得出了小珑说的是真话，此时与假设不符，故而小美是假的。再看小利，此时小景与小美都是假的了，他不可能看到三个人头上没泥巴，所以小利也是假的。这时候看小珑，我们不能判断他说的是否是真话呢，因为不知道小真的情况。 所以选 C。

192、今年来，农民的收入水平不断上升，而支出占收入的比重持续上涨，这表示他们挣得越多反而花得越多；相反，今年来城镇居民支出占收入的比重持续下降。所以，我们可以得出“农村居民比城市居民更敢花钱”的结论。

一下选项如果为真，能够反驳上述结论的是（ ）

A 城市居民的收入远高于农村居民

B 城市生活成本高，城市居民在消费时会比农村居民更加谨慎

C 由于家庭人口的差异，农村家庭支出比城市家庭高得多

D 基本生存成本的上升速度高于农民收入的增长速度

解析：论点是“农村居民比城市居民更敢花钱”，论据是“农民的收入水平不断上升，而支出占收入的比重持续上涨，这表示他们钱挣得越多花得越多；相反，近年来城镇居民支出占收入的比重持续下降”。C 选项提出是因为“农村家庭支出比城市家庭高得多”导致支出更多，他因削弱了论点。故本题选 C。

纠错:A 项收入与花钱无关，排除；B 项加强，排除；D 项说的是速度，与题干无关。

193、选择：抉择

A 爱好：嗜好

B 决定：决策

C 按时：准时

D 参加：参与

解析：题干是类比推理中常见的二词型推理模式，这类考题比较常用的解题思路是研究词与词之间的关系，通过对题干两个词语进行分析可知，二者之间的集合关系不能瞬间把握，那么我们可以从语义关系入手。题干给出的一组词语从词性看都是动词，符合条件的只有 B、D，同时从题干给出的词组看，选择更具有普遍意义，中性；而抉择更严肃、更重大，B 选

项决定和决策符合以上规律。所以本题答案 B 选项。

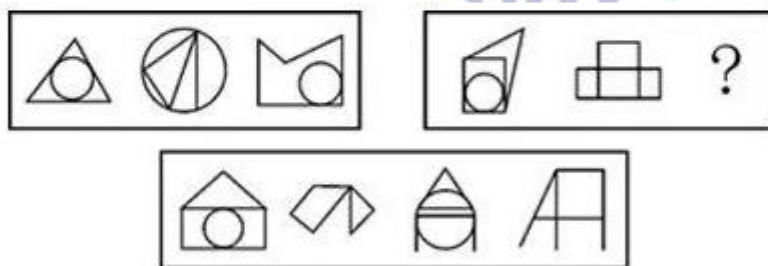
194、合理、精简的机构设置使得甲县卫生局的工作效率非常高，甲县卫生局的部门结构与乙县卫生局十分相似。因此乙县的卫生局工作效率也会很高。下列最能反驳上述结论的是（ ）。

- A 乙县卫生局的部门结构未必与甲县的相同
- B 两县卫生局的工作人员数量有较大的差异
- C 工作流程的设置对工作效率有重要影响
- D 甲县卫生局的不同部门的工作效率有高有低

解析：第一步，找论点，列论据：此题的论点是“乙县的卫生局工作效率也会很高”；论据是“合理、精简的机构设置使得甲县卫生局的工作效率非常高，甲县卫生局的部门结构与乙县卫生局十分相似”。第二步，运用削弱技巧选择答案：C 项，工作效率高不仅是因为机构设置合理、精简，还有工作流程设置方面的因素，属于他因削弱，是否定论点。因此，本题答案为 C 项。

纠错：

A 项，乙县卫生局的部门结构未必与甲县的相同，原题中论据中已经说明两者“相似”，相似具有不同的意思，所以 A 不是削弱。B 项，两县卫生局的工作人员数量有较大的差异，原题中论据说的是两者的机构设置、部门结构，而非工作人员数量，所以是主题不一致，所以 B 项排除。D 项，甲县卫生局的不同部门的工作效率有高有低，与本题讨论的主题不一致，所以 D 项排除。



195、

- A
- B
- C
- D

解析：“三三”类题型，要求我们从第一组三幅图中总结规律，延续至第二组图形。观察第一组的三个图形，元素组成相对凌乱，因此此题一定是数量类的题型。数量类题型的解题基本思路“什么明显先数什么”，此题面与线的特征都比较明显，但数过之后可以发现，无论是面还是数直线、曲线，都没有形成数字规律，那么此时我们就要想到我们在数元素过程中遇到的特殊数法，比如一笔画。我们将一笔画的规律带入验证可以发现第一组图形中，所有图形均能一笔画成，故问号处图形应选一个能够一笔画成，答案应该在 A、B 中选择。在进行二次分析可知第一组图形有一个共同的元素：圆；那么第二组中也应该有一个含有一个共同的元素：矩形，故排除 B 选项。所以本题答案 A 选项。

196、欢天喜地：兴高采烈

- A 天造地设：鬼斧神工
- B 和颜悦色：百依百顺
- C 七零八落：七上八下
- D 生龙活虎：虎背熊腰

解析：本题是一道关于成语的考查题型，成语题型的解题思路多是考虑近义成语和反义成语，

我们先要了解题干中两个成语的含义。“欢天喜地”形容非常高兴。“兴高采烈”兴致高；精神饱满。采：神采，精神；烈：热烈。原指文章旨趣很高，文辞犀利。现指兴致高，情绪激烈。通过对其含义的理解可以发现题干中是一组近义词，符合题干题意的只有 A 选项，“天造地设”和“鬼斧神工”也是一组近义词。所以本题答案 A 选项。

纠错：

B 选项“和颜悦色”的近义词是：和蔼可亲；C 选项“七零八落”的近义词：支离破碎；D 选项“生龙活虎”形容活泼矫健，富有生气，它的近义词是“朝气蓬勃”。

197、接触：触摸

A 飘摇：摇动

B 推进：进展

C 科学：学习

D 起飞：飞翔

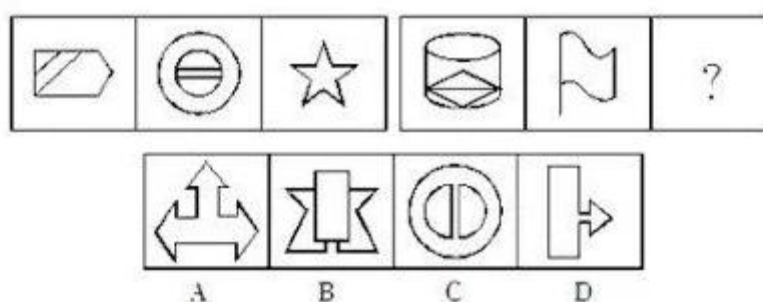
解析：本题属于条件关系的考查。触摸之前必须接触，即触摸与接触之间是必要条件。分析选项可知：D 选项，飞翔之前必须起飞，即飞翔与起飞之间也是必要条件，因此答案 D 选项。



198、

解析：本题考察的数量中的线段数量。题干中的图形所包含的横线的数目分别是 1，2，3 和 4，因此“？”处的图形应包含 5 条横线。因此本题选 A 选项。

拓展：文字类是最近几年常考考点，文字出现经常考察笔画数、样式运算、对称性，等等。文字题目作为图形考察，特别注意几笔画的题型。



199、

解析：本题考查数量类线的条数问题。观察图形，第一段找规律，每个图形中有两条横线；第二段延续规律，每个图形有两条竖线，因此，本题答案为 C 选项。

拓展：

在行测考试中，数量类考点是经常出现。题目中一旦出现曲线，优先选择数曲线的数目。有的时候也将直线与曲线放在一起考察。

200、光盘：刻录：存储

A 灯泡：通电：照明

- B 纸张：印刷：阅读
C 卫星：发射：通信
D 布料：裁剪：御寒

解析：第一步：判断题干词语间的第一重逻辑关系，并在选项中选择 题干三词为对应关系，“光盘”只有“刻录”才能发挥“存储”功能。与之逻辑关系相同的为 AC。第二步：答案不唯一时，再判断题干词语间第二重逻辑关系，并在选项中进行选择 题干中“存储”是“光盘”的主要功能，与之逻辑关系相同的只有 A，“照明”是“灯泡”的主要功能。C 中“通信”只是“卫星”的功能之一，没有体现题干逻辑关系。故正确答案为 A。B 项不能选，因为，纸张的功能不是阅读。

201、眼镜：眼睛

- A 拐杖：腿脚
B 口罩：口鼻
C 帽子：脑袋
D 手表：手腕

解析：眼镜对眼睛有辅助人体功能的作用，拐杖对腿脚有辅助人体功能作用，因此本题选 A 选项。

纠错：

手表和口罩不是人体功能的辅助。

202、创意：革新

- A 心动：行动
B 认识：能力
C 理念：实践
D 感受：反应

解析：有了“创意”再指导“革新”，有了“理念”再指导“实践”，C 与题干深层逻辑关系相似。

纠错：

A 中两词是包容关系，心动是一种抽象的心理行为，不符合题干对应关系；B 是包容关系，认识是一种认知能力，不符合题干对应关系；D 中两词也是包容关系，“感受”是一种“反应”。

203、中国社会的未来发展，离不开包括儒学在内的传统文化的滋养和作用，这一点已被越来越多的人所认同和接受。因此，大力弘扬中国传统文化的优良传统应当成为当前我国文化建设的一项重要内容。以下最能够支持上述主张的一项是()。

- A 中国传统文化中的许多优良传统面临将要失传的危机
B 许多地方政府加大了对本地各类文化遗产的保护和宣传力度
C 经过历史沉淀的传统文化对一个民族具有无可替代的积极作用
D 传统文化对经济社会发展的积极作用在越来越多的地方呈现出来

解析：这是一道加强论证题目。题目中的主张是：中国社会的发展离不开传统文化的滋养和作用，所以大力弘扬中国传统文化的优良传统应成为当前我国文化建设的一项重要内容。D 项，说明传统文化对社会的发展有积极作用，支持了论证。正确答案为 D。

纠错：

A 项和 B 项均与论证无关；C 项，传统文化对民族的积极作用不一定能体现在我国社会的未来发展上，故不能支持；

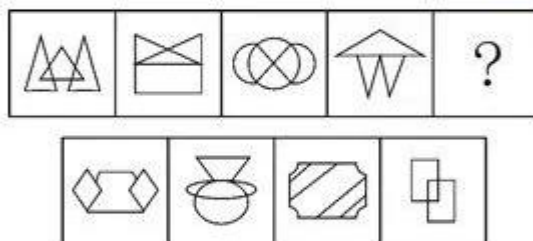
204、“没有经济的快速发展，就不会有社会事业的进步。现在经济发展速度很快，所以社会事业的建设也会取得显著的成绩。”与上述文字推理形式相同的是()。

- A 社会主义民主和法制相辅相成，缺一不可，民主是法制的前提，法制是民主的体现。现在法制体系不断健全，因此民主得以保障
- B 效益与公平是矛盾统一体，没有公平很难取得更大的效益。某企业的效益提高了，因此，该企业也实现了分配公平
- C 社会化程度越高，社会分工越细。现在社会化程度提高了，因此现在的社会分工也更细了
- D 清正廉洁是对领导干部的基本要求。一名作风正派、严于律己的领导干部就是合格的领导干部

解析：文段中表述的结构是：有社会事业的进步→经济的快速发展，结论是经济快速发展，所以社会事业进步，和前面的推理形式正好相反。四个选项中只有 D 项与此推理形式相同。正确答案为 D。

纠错：

A 选项翻译结果法制→民主，结论是法制健全，民主得以保证，是肯前必肯后的结构，所以排除。B 选项翻译结果效益→公平，结论是效益提高，该企业实现分配公平，是肯前必肯后的结构，所以排除。C 选项翻译结果社会化程度越高→社会分工越细。结论是现在社会化程度提高了，因此现在的社会分工也更细了。是肯前必肯后的结构，所以排除。



205 A B C D

解析：通过观察每一幅图都是以竖轴对称的轴对称图形，结合选项答案应该在 A、B 之中，题干中的图形分别是左右结构、上下结构、左右结构、上下结构，所以下一幅图应该是左右结构，所以根据找到的规律，本题答案为 A 选项。

技巧：

静态位置考查位位置、关系，位置的知识点有：上下、左右、内外，关系的知识点有：相邻、相隔、相离、相切、相交、内含等。

206、刻薄不赚钱，忠厚不折本

- A 骏马不等鞭，响鼓不重锤
- B 慷慨杀身易，从容就死难
- C 枯木难复活，惯贼难悔悟
- D 谦虚使人进步，骄傲使人落后

解析：题干中“刻薄”与“忠厚”是反义词，“不赚钱”与“不折本”构成反义关系；只有 D 项符合，谦虚和骄傲是反义词，“进步”和“落后”也是反义词。故答案为 D。

纠错：

A 选项“骏马不等鞭，响鼓不重锤”意思都是如果人主观努力的话,就不需要外界强迫督促，他自己凭勤奋就能完成任务，是同义，B 选项“慷慨杀身易，从容就死难”用来形容英雄赴死

的状态，同义，所以排除。C 选项“枯木难复活，惯贼难悔悟”也是同义，所以排除。

207、山色：水声

A 春花：秋月

B 珠圆：玉润

C 钟鼓：琴瑟

D 天寒：地冻

解析：解析：

山色和水声是偏正结构，选项中只有 A 项为偏正结构，故本题选 A。

纠错：

B、D 两项为主谓结构，C 项为并列结构。

208、十堰：武当山

A 宜昌：神农架

B 咸宁：九宫山

C 襄阳：古隆中

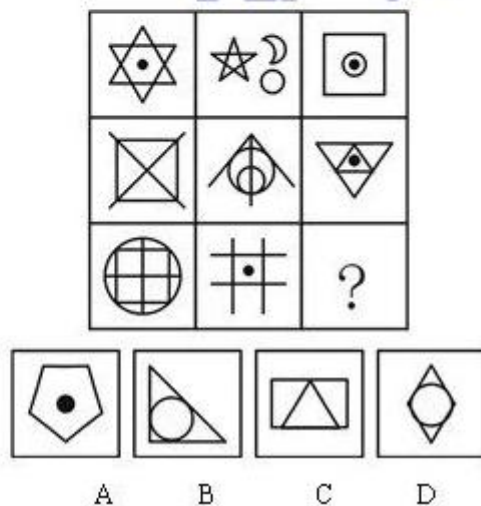
D 黄陂：木兰山

解析：解析：

本题考查的是逻辑关系中的对应关系。在题干中，武当山位于十堰市。B 项中九宫山位于咸宁市，与题干逻辑关系对应。因此，本题答案为 B 选项。

纠错：

A 项地点不正确，排除。C 项古隆中不属于山，与题干纵向不对应，排除。D 项木兰山位于武汉市黄陂区，黄陂区不是市级行政区域，与题干逻辑关系不对应，排除。

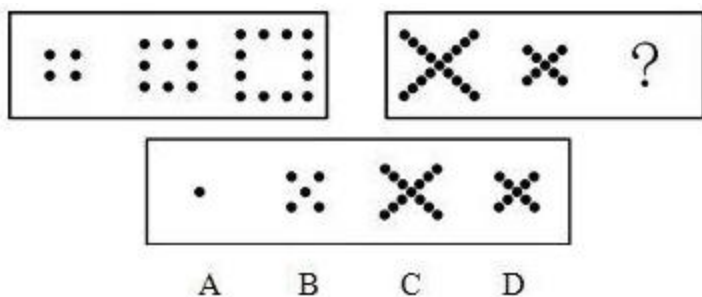


209、

解析：本题考查直线数量规律。从每一行来看，第一行三个图形包含的直线数分别为：6，5，4，共 15 条；第二行三个图形包含的直线数分别为：6，3，6，共 15 条；第三行前两个图形包含的直线数分别为 6，4，所以问号处图形应包含 5 条直线。选项中只有 A 项符合。因此，本题答案为 A 选项。

拓展：

数量类规律，除了等差、等比、恒常、遍历、对称等变化外，在九宫格图形中，特有的规律就是每行或每列中的三个图形某种对象的数量之和相等。



210

解析：本题考查数量类。第 1 组图中 3 个图形点的数量依次为 4，8，12，为等差数列；第 2 组图中前 2 个图形点的数量分别为 17，9，所以第 3 个图点的数量为 1。因此，本题答案为 A 选项。

纠错：

第一组边长是 2、3、4 等差数列，第二组叉叉的边长为 4、2、0，是等差数列。因此只剩下一个中心的点，没有发散出来的边。故本题选 A。

211、蝌蚪：蚂蚁

- A 枸杞：牡丹
- B 蘑菇：葡萄
- C 圆桌：玫瑰
- D 动物：咖啡

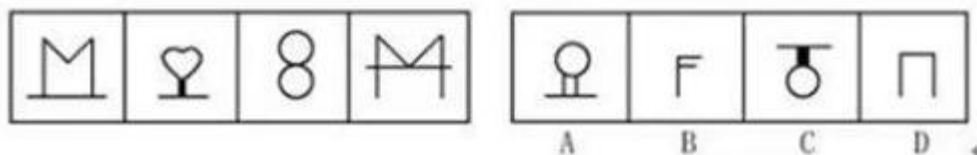
解析：连绵字，选 B。

212、如果买房子，我就嫁给你。选项中与题干不符合的是（ ）

- A 只有嫁给我，我才买房子。
- B 只要买房子，我就嫁给你。
- C 只有买房子，我才嫁给你。
- D 如果不嫁给你，那么你没有买房子。

解析：翻译题干：买房子→嫁给我。A、B、D 选项翻译后都是：买房子→嫁给我。只有选项是嫁给你→买房子。与题干翻译形式不一致，故选 C。

213



解析：数字 1、2、3、4 的左右对称图形，所以答案为 5。

214、某天五个朋友聚会，其中一个人历数喝酒对身体的危害，并热心地劝告大家戒酒。他逐个询问说：“你现在戒酒了吗？”四个人的回答各不同。请根据他们的回答，判断这四个人当中，谁没有违反这个推理隐含的前提：

- A 我正准备戒酒
- B 我已经戒酒啦
- C 我从来不喝酒

D 我特别喜欢喝酒

解析：题干中劝戒酒者热心地劝告大家戒酒。他逐个询问“你现在戒酒了吗？”，事实上隐含的前提是“曾经喝酒且已经戒酒”。只有 B 选项完全符合前提。因此，本题答案为选项 B。

纠错：

A 选项还没有戒酒，C 选项不曾喝酒，D 选项没有戒酒，都不符合“曾经喝酒且已经戒酒”的隐含前提，故排除。

215、节能：减排：环保（ ）

A 火药：造纸：四大发明

B 起床：步行：上班

C 生产：销售：管理

D 锻炼：营养：健康

解析：实现环保的方式或者手段包括节能减排，同样实现健康的方式有锻炼和营养，因此，本题答案为 D 选项。

纠错：

A 项火药和造纸属于四大发明，不是四大发明的手段，排除；B 项起床和步行也不是实现上班的方式，排除；C 项生产和销售不是管理的手段，排除。

216、所谓诬告陷害罪是指捏造事实诬告陷害他人，意图使他人受刑事追究，情节严重的行为。根据上述定义，下列行为构成诬告陷害罪的是：

A 乙捏造“文某强奸幼女”的事实，并向司法部门举报

B 甲与丁某长期不和，便捏造丁某包养情人并匿名举报，使丁某与妻子离婚

C 丙捏造同事万某受贿 10 万元的事实，并印刷大量传单在县城的大街小巷张贴

D 丁匿名举报李某抢劫他人 50 万元。事后查明，李某只抢劫了 5000 元

解析：诬告陷害罪的关键要件有：（1）捏造事实诬告陷害他人；（2）意图使他人受刑事追究。在 A 选项中，满足了上述两个条件，符合诬告陷害罪的定义，为正确选项。在 B 选项中，没有意图使他人受刑事追究，故不是诬告陷害，不符合关键要件（2），所以排除。在 C 选项中，没有意图使他人受刑事追究，故不是诬告陷害，不符合关键要件（2），所以排除。在 D 选项中，该行为是匿名举报，不符合条件（1），也不是诬告陷害，所以排除。因此，本题答案为 A 选项。

217、从法律规则形式特征上看，可分为规范性规则和标准性规则。规范性规则指规则的内容明确、肯定和具体，且可直接适用的规则；标准性规则指法律规则的部分内容或全部内容（事实状态、权利、义务、后果等）具有一定伸缩性，须经解释方可使用且可适当裁量的规则。根据上述定义，下列属于规范性规则的是：

A “早六点至晚六点间本街道禁止通车”

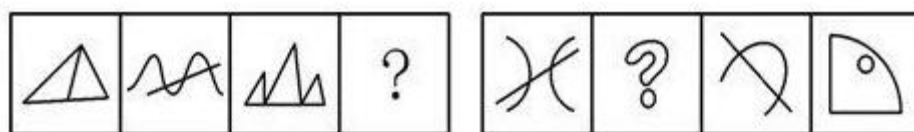
B “每一选民在一次选举中只有一个投票权”

C “民事活动应当尊重社会公德，不得损害社会公共利益”

D “行政机关作出责令停产停业、吊销许可证或者执照、较大数额罚款等行政处罚决定之前，应当告知当事人有要求举行听证的权利”

解析：规范性规则的关键要件有：（1）内容明确、肯定和具体；（2）可直接适用；（3）是法律规则。在 A 选项中，街道限时通车是交通条例而不是法律规则，所以排除。在 B 选项中，原句来源于《选举法》第四条规定，是法律规则，而且内容明确、肯定、具体，而且可以直接适用，规范性规则的三条要件都符合，所以是规范性要件。在 C 选项中，“遵守社

会公德”这一说法不够明确、肯定和具体，具有一定的伸缩性，所以排除。在 D 选项中，“等行政处罚决定”这一说法不够明确、肯定和具体，使条例有一定的伸缩性，所以排除。因此，本题答案为 B 选项。



A B C D

218、



解析：第一个图形：封闭图、全直线；第二个图形：半封闭图形、曲线+直线；第三个图形：封闭图、全直线；第四个图形：半封闭图形、曲线+直线。因此，正确答案是 C 选项。

219、)公民的基本权利与义务：是指由宪法所确认，作为中国公民所应当享有和履行的最起码的法律权利和义务。依据上述定义，下列说法正确的是（ ）。


- A 基本权利表明公民的宪法地位，构成一个国家权利体系的基础
- B 凡是宪法规定的基本权利，各级政府和社会都应该为其实现提供一切可能的条件，不得打折扣
- C 张三年老体弱，膝下无子女，当地政府应该将其收进福利院颐养天年
- D 丁某是某省流浪到北京的智障者，在北京流浪一年后，该省当地政府有义务将其接回老家

解析：本定义有这样几个要件构成：1、宪法确定；2、公民享有和履行；3、最基本的；C、D 两项中的政府行为并不是宪法要求的，排除。B 项的“一切可能”“不得打折扣”说法错误；保障公民权利的方式可以是多种多样的。故，A 表述正确。


220、




A



B



C



D

解析：第 1 个图顺时针转 90°成第 2 个图，第 2 个图顺时针旋转 180°成第 3 个图，第 3 个图顺时针旋转 270°成第 4 个图，第 4 个图顺时针旋转 360°成第 5 个图。因此，本题答案为 C 选项。

221、徘徊：徜徉

- A 妩媚：婵娟
- B 忐忑：感念
- C 惭愧：惆怅

·D 逍遥：进退

解析：本题属于对应关系。徘徊和徜徉都是表示动作的动词；C 项中惭愧和惆怅都是表示心理的形容词。因此，本题正确答案是 C 选项。

纠错：

A 项妩媚是形容词，婵娟是名词，词性不同，所以排除；B 项忐忑是形容词而感念则是一个动词，基本解释为感谢怀恋，所以排除；D 项逍遥是个形容词，进退是个既可以做动词也可以做名词，所以排除。

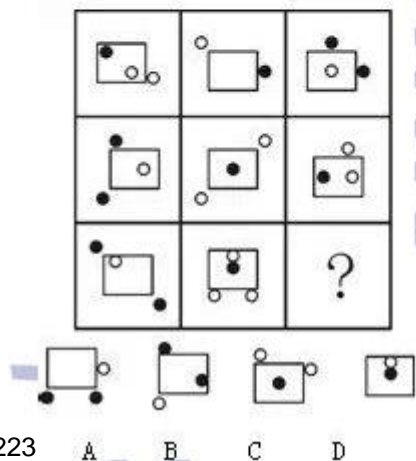
222、光是一种电磁波。不能吸收光电磁波的物体，一般是透明的物体。半透明的物体只吸收光的一部分，也叫滤色体。不透明的物体能吸收光的全部，也叫黑体。透明的动物身体没有吸收可视光的能力，看不出色素来，其隐蔽性较强。隐形动物的秘密就在于它的身体是透明的，同时又是无色的。因此（ ）。

- A 有些隐形动物的身体是透明的，但可能是有色的
- B 不透明动物的身体能吸收可视光，有明显色彩，隐蔽性差
- C 透明的能吸收光电磁波的物体可能被称为白体
- D 红色的金鱼属滤色体

解析：由题干“隐形动物的秘密就在于它的身体是透明的，同时又是无色的”，得出 A 项错误。题干中完全没有提到“白体”的问题，C 项错误。D 项，金鱼不是透明的，自然也不是滤色体。所以只有 B 是正确答案。

拓展：

结论类的题目属于或然性推理，应当遵循的基本原则有：主题一致原则、从弱原则、现在原则。常犯的典型错误有偷换概念、无由猜测和夸大事实。



223

A B C D


解析：本题的规律是黑白小球的个数，每一行中黑球的总数都是 4 个，白球的总数呈递增趋势，第一、二行分别为 4、5，第三行应该有 6 个白球。故问号处应选一个包含一个黑球，两个白球的图。因此，本题答案为 C 选项。

224、反映论，是指坚持认识的本质是人脑对客观世界反映的认识论原则，亦即思想是反映存在的理论。根据上述定义，下列不属于反映论的是（ ）。

- A “存在就是被感知”
- B “从物到感觉和思想”
- C “凡以知，人之性也；可以知，物之理也”

·D “没有被反映者就没有反映者”

解析：反映论是人脑对客观世界的反映，而 A 项“存在就是被感知”意思是不被感知就不存在，明显不符合反映论的定义，因此，本题答案为 A 选项。



A B C D

225

解析：此题考查的是图形的封闭面。观察题干，在这个九宫格图形中，从纵向上观察，每列图形的封闭区域有两个图形的封闭区域数目相同，故第三列图形的空缺处包含的封闭区域要么为 4，要么为 5， B 正确。因此，答案为 B 选项。

226、 定义：①奉献管理：指企业员工都自觉地在企业文化的支配下，对变幻莫测的市场，很快地联合行动，采取对策。②合作管理：指合作双方在优势互补的基础上，按行规运作，并规范自身行为，通过真诚合作，有效沟通，实现合作利益最大化，让双方都成为赢家的管理。③权力管理：指运用科学方法和手段，对权力的运行进行监督和控制，对行使职权进行检查、考核、评价和管理。典型例证：（1）某公司主动按照国际油运公司的通行做法，对不适应中外合作要求的组织机构和用工、分配制度进行了超前改革，解决了与国际油运公司在体制、机制和运作方式上的衔接问题。（2）作为项目总设计，张某从初步方案开始就紧抓优化设计，如在进口设备费用较高的情况下，想尽办法大幅提高设备国产化率，大胆采用了国产设备，降低工程投资约 1000 万元。（3）当市场的参与者分散成独立于政府的法人后，组织权力作为调配资源的主要手段之一，不作管理，甚至只要不作严格的管理，就会损害到市场经济的公正公平原则。对上述典型例证与定义的关系判断正确的是（ ）

- A 例证（1）与定义②相符
- B 例证（2）与定义③相符
- C 例证（3）与定义①相符
- D 例证（2）（3）分别与定义①③相符

解析： 例证（1）只是某公司单方面的调整，而并非“合作双方……规范自身行为……”，故不符合合作管理的定义，所以排除 A 项；在例证（2）中，并不存在对权利的管理，故不符合权利管理的定义，排除 B 项；在例证（3）中不涉及企业员工，所以例证（3）与定义①不相符，排除 C 项。因此，本题答案为 D 选项。

227、定义：①语言简明：指以尽可能少的语言符号表达必要的信息，表达简洁、明白，消除歧义，并取得最佳效果。②语言连贯：指语言表达注意句与句的排列阻隔，注意上下句的联系、衔接与呼应，做到话题统一，句序合理，呼应自然。③语言得体：指掌握语言使用的

分寸，语言运用能切合各种语境，符合说话目的、场合，表达方式自然得当。典型例证：（1）小倩告诉我说，等她把那张参加比赛的水粉画“磨蹭”完了，我们就可以一起去青岛旅游了。

（2）“世界屋脊”上晶莹的湖泊、冰峰、大漠、雪岭，数不清的珍奇异兽，以其特殊的魅力，吸引着越来越多的游客。千里风雷的青藏公路，正成为令人神往的旅游热线。（3）深夜，听到您抑制自己的咳嗽声，我能感到，您是多么地爱我们。您戒掉烟，有一个健康的晚年，就是对我们最大的爱。爸爸，我也爱您，我不希望过早地失去您。对上述典型例证与定义的关系判断不正确的是（ ）

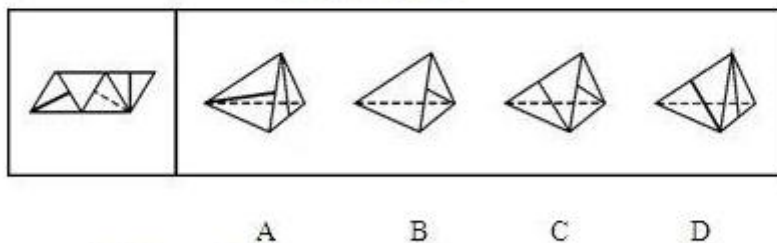
- A 例证（1）与定义①不相符
- B 例证（2）与定义②不相符
- C 例证（3）与定义③相符
- D 例证（2）（3）分别与定义①②不相符

解析：例证（1）中“她”指代不明，存在歧义，虽然简洁，但不符合“简明”的要求；例证（2）“世界屋脊上”后先接词，后接短语，根据字数排序更加符合阅读和写作习惯；例证（3）中“有一个健康的晚年”表述不当，应改为“身体健康”，“不希望过早地失去您”用得不妥，删去。另外，例证（2）表述不够简洁，例证（3）各句之间缺乏衔接。因此，答案为 C 选项。



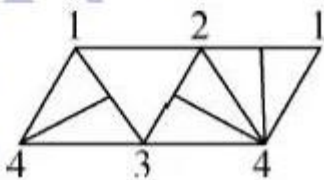
228、

解析：本题考查图形的相邻关系。由题干第一个图形可知 B 项上面线条方向错误，排除 B 项；由第三个图形简单翻转后可知 C 项斜线方向错误，排除 C 项；由第二个图形可知，D 项正对面图形错误，排除 D 项。因此，本题答案为 A 选项。



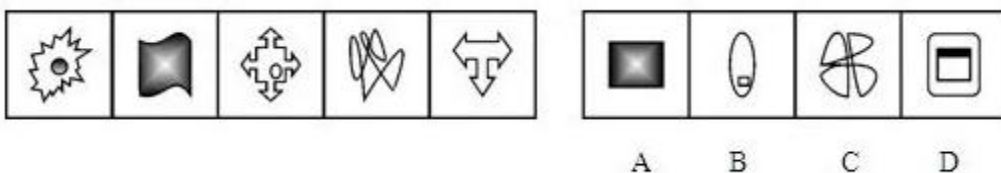
229、

解析：本题考查立体重构图形面与面之间的位置关系。对原图中各个顶点进行编号，如图：



号，如图：

很容易能够看出，4 和 4 这两个顶点在立体重构图形中是重合的，也就是说从 4 这个顶点引出了三条“三角形的高线”而 A，C，D 中不符合。因此，本题答案为 B 选项。



230、

解析：本题考查样式类遍历问题。题干中的 5 个图形加上选项中的所要选择的一个图形共 6 个，此题考查的规律是前三个图形成规律，后三个图形成规律。前三个图形分别是不规则图形、阴影图形、规则图形，后三个图形的前两个分别是不规则图形、规则图形，那么根据图形样式的遍历，就差一个阴影图形了，选项中只有 A 是阴影图形。因此，本题答案为 A 选项。

231、服务性公关：指为获取社会公众的了解和好评，树立组织的良好形象，向消费者提供各种实惠服务的公共关系活动。

下列属于服务型公关的是

- A 某冰箱生产企业定期向客户发送食品贮存、保鲜新信息
- B 某公司借助墙报和公司网站定期公布产品研发销售情况
- C 某帐篷生产企业及时向某地震灾区捐助了数百顶帐篷
- D 某著名品牌的消费者自建一个交流使用体验的 QQ 群

解析：关键词“实惠服务”，B、D 两项中的“销售情况”、“QQ 群”都不属于实惠服务，排除。

C 说的“数百顶帐篷”的对象不是“消费者”。因此，选择 A 选项。

232、晕轮效应又称“光环效应”、“成见效应”、“光晕现象”，是指在人际相互作用过程中形成的一种夸大的社会印象，正如日、月的光辉，在云雾的作用下扩大到四周，形成一种光环作用。常表现在一个人对另一个人（或事物）的最初印象决定了他的总体看法，而看不准对方的真实品质，形成一种好的或坏的“成见”。所以光环效应也可以称为“以点概面效应”。是主观推断的泛化、定势的结果。根据上述定义，下列属于晕轮效应的是（ ）。

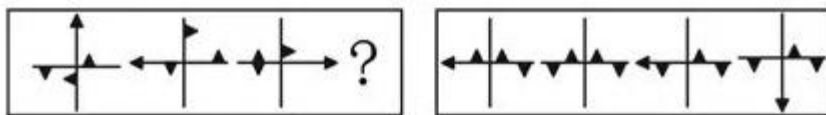
- A 一见钟情
- B 三岁看八十
- C 小时了了，大未必佳
- D 一朝被蛇咬，十年怕井绳

解析：晕轮效应的关键要件是“人际相互作用过程中”、“夸大的”、“最初印象”A 项中的“一见钟情”就是由于对象的某一方面符合自己的审美观，往往对思想、情操、性格诸方面存在的不相配处都视而不见，觉得对象是“带有光环的天仙”，样样都尽如人意，是典型的“晕轮效应”。因此，本题答案为 A 选项。

233、直觉思维是指行为步骤和思维过程不明确、不清晰，对某些现象或者问题直接地迅速地作出某些猜想、假设或判断的思维。下面哪一个是典型的直觉思维？（ ）

- A 公安刑警根据收集到的证据，对案件进行分析
- B 军事指挥员根据侦察兵的情报材料作出军事决策
- C 根据所学过的知识解答考试时的难题
- D 医生根据病人的口述材料，迅速地做出疾病的诊断


解析：直觉思维的关键要件是（1）步骤和思维过程不明确、不清晰，（2）直接地迅速地作出某些猜想、假设或判断的思维。A、B、C 均是根据已经收集到的资料或者已经学过的知识进行分析的过程，思路是清晰、明确、有条理的，不符合（1）。而 D 中医生只是根据病人的口述，并没有经过一系列的检查便迅速做出了判断，符合直觉思维的定义。因此，本题答案为 D 选项。



234、

A B C D

解析：此题的解题点是图形的位置。下一方格中三角形的位置是上一方格中三角形以顺时针方向移动大约一个边长距离的结果。且当三角形从端点（直线）移动到横线（竖线）上时旋转 90°。因此，本题答案为 A 选项。



235

A B C D

解析： 本题图形呈现的规律是线段和圆点逐个增加，因此空格中的图形应该有六条直线和五个圆点。C 项和 D 项均符合这一规律，但进一步观察图形可以看出第一幅图和第三幅图均有一条没有连接点的线段，因此，本题答案为 D 选项。

236、 学前儿童低估有意识的人的思维，而高估无意识的人的思维，甚至一个成年人显然在进行思考时，他们也认为这个人并非在思考着；他们似乎对自己或其他人可能在思考什么，没有多少认识。同时，他们却高估某个沉睡中的人所具有的自我知觉和决断能力。

上述论断的前提假设是：

- A 成年人对人类思维的判断是比较合理的
- B 学前儿童的判断能力不太成熟和稳定
- C 沉睡中的人所具有的思维能力并不容易为人所了解
- D 学前儿童也是在积极主动地作出心理判断

解析：论点是学前儿童判断能力的质疑，B 选项是论点，不属于前提。C 选项，无关，排除。

A 选项成年人判断合理，才能以成年人为标准说明学前儿童不合理。D 选项用否定代入法，学前儿童不积极思考不能否定我们的论点。

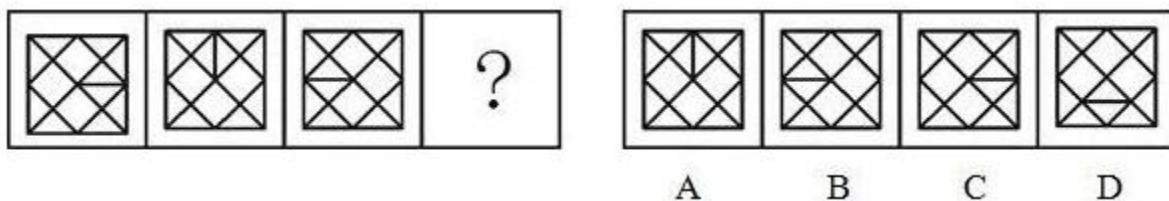
237、 恐怖症是指病人持续地和非理性地害怕某一特定物体、活动或情境，这种恐惧相对于实际的威胁来说是夸大的和非理性的。

根据上述定义，下列不属于恐怖症的是：

- A 赵亮的上司脾气不好，赵亮每次与他交谈时都会紧张、害怕
- B 张伟特别怕蜘蛛，每次看到无毒的小蜘蛛都会尖叫
- C 刘红不敢去商场，她很担心自己会像上次一样突然摔倒
- D 王明每次乘坐电梯都会很害怕，担心电梯的门打不开

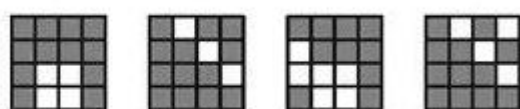

解析：定义要点为持续地、非理性的害怕某一物体或情境，C 项中刘红只是因为害怕像“上次”一样，因此不符合持续地这一要素，因此不符合定义，故本题答案为 C。

238



A B C D

解析：第一个图形是第三个图形的镜像，两个图形呈镜像对称。依次规律，第四个图形应该是第二个图形的镜像，四个选项中，能和第二个图形呈现镜像对称的，只有 A。



239、 A B C D

解析：九宫格的图形，首先横向观察，发现第一行的图形阴影部分数目为 4、7、11，第二行阴影部分数目为 6、6、12，由此可知，每一行的第三个图形的阴影数目为这一行的第一个图形与第二个图形的阴影数目之和，因此，第三行的阴影部分数目为 5、8，故要选择阴影数目为 $5+8=13$ 的图形，因此，选择 B 项。



A B C D

240、

解析：本题考查的是一笔画问题，因此，选择 B 项。

241、定窑白瓷是继唐代的邢窑白瓷之后兴起的一大瓷窑体系。主要产地在今河北省曲阳县的涧磁村及东燕川村、西燕川村一带。定窑所烧制的白瓷，其胎、釉呈现出精、白、薄的特征，有些器物的白度甚至超过了邢窑的细白瓷器。定窑白瓷花纹千姿百态，有用刀刻成的划花，用针剔成的绣花，特技制成的“竹丝刷纹”、“泪痕纹”等等。在出土的定窑瓷片中，发现刻有“官”、“尚食局”等字样，这说明定窑中一部分产品专为官府和宫廷烧造，但更多的是为民间需求而生产的。为使上述论证成立，以下假设必须为真的一项是（ ）。

- A 在当时的历史条下，只有官府和宫廷用品，才会刻有“官”、“尚食局”等字样
- B 刻有“官”、“尚食局”等字样的定窑瓷片，只占出土瓷片的一少部分
- C 史料中关于定窑原为民窑，自宋中后期开始烧造官府和宫廷用瓷的记载是真实的
- D 官府和宫廷对定窑白瓷的需求量远远小于民间

解析：本题考察的是前提假设的加强型论证，论点是定窑中一部分产品专为官府和宫廷烧造，但更多的是为民间需求而生产的，论据是在出土的定窑瓷片中，发现刻有“官”、“尚食局”等字样。C 项的假设如果为真，那么说明刻有“官”“尚食局”等字样的定窑瓷片的出土，能够与史料互证，说明定窑白瓷主要是为民间需求而生产，但同时也烧造官府和宫廷用品。在论点与论据中建立了一种必然联系，因此，选择 C 项。

纠错:

A 项的假设不能体现民间需求和官府需求的数量差别, 只能说明定窑中一部分产品专为官府和宫廷烧造, 但无法体现“更多的是为民间需求而生产的”; B 项的假设不能保证只有刻有“官”“尚食局”等字样的瓷器才是官府和宫廷用品; D 项的记载与题干用出土的瓷片证明产品为谁烧造的论证过程没关, 所以不是题干论证的前提。

242、命令链是指一种不间断的权力路线, 从组织最高层扩展到最基层, 澄清“谁向谁报告工作”。它能够回答员工提出的这种问题: “我有问题时, 去找谁?” “我对谁负责?” 以下组织设计不属于命令链的是 ()。

- A 在某商场购买的物品若有质量问题, 商场一律准予退货, 再由商场向商品生产厂家索赔
- B 某公司每个职员的工作内容和职务权限都非常明确, 因此该公司员工很少出现角色模糊的现象, 工作效率也较同行企业高出许多
- C 住院病人如果夜间有什么不舒服要先告知护士, 护士问明情况之后若不知如何处理要请示一线值班大夫, 一线大夫若处理不了需要交二线值班大夫处理
- D 某饮料厂, 在其生产线上设立层层关口, 每一关口都派负责任的员工严把质量关, 保证每瓶饮料的质量安全可靠

解析: 命令链的定义要件: 1、一种不间断的权力路线; 2、每位员工都对自己的职责非常明确。A 项中商场和厂家的权责明确, 但事实上并未具体规定哪些员工负责退货, 哪些员工负责向厂家索赔, 当然也无从得知“谁向谁报告工作”, 因此不符合命令链的设计, 因此选 A 项; BCD 均符合定义。

243、欠税: 指纳税人因故超过税务机关核定的纳税期限, 未缴或者少缴税款的行为。对欠税者税务机关除令其限期照章补缴所欠税款外, 并从滞纳之日起, 按日加收所欠税款的滞纳金。根据上述定义, 下面情况属于欠税的一项是 ()。

- A 方利平开有一食品服务小商店, 税务部门规定对他的税款实行查账征收。当有大笔买卖时, 他就将发票撕下来, 将存根联和客户联单独填写数字, 客户联按实际发生金额填写, 而存根联上一般填写很小的数值
- B 某电脑公司在出售个人家用电脑时, 如果是私人买电脑, 他们就给买主开一张自己印的收据; 当买主是某单位或集体时, 就开一张正式的发票
- C 李霖是一外地来的民工, 在给别人打了两年工的基础上, 他发现目前装修房屋是个消费热点, 于是他就联合了几个民工成立了一个装修队, 哪里有人要装修房屋就到哪里干。由于他们是流动的, 税务和工商部门很难对他们进行管理, 没有办法让他们交纳税款
- D 某先生在一次有奖活动中运气非常好, 一下中了头奖, 奖品是奥迪牌小轿车一辆, 他将小汽车以 30 万元人民币卖掉了, 并将售车的款项全部存入了个人的账户

解析: 欠税的主体是纳税人, 因故超过纳税期限, 未缴或者少缴税款的行为。A 项中食品小店的行为属于逃税, 排除; B 项中电脑公司的行为也属于恶意逃税的行为, 排除; C 项中民工装修队的行为, 是因为法律监管上存在着漏洞, 因故不能缴纳税款, 符合定义; D 项中卖掉汽车没有涉及税款的问题, 排除。因此本题答案为 C 选项。

244、使命是一个企业存在的目的和意义, 或企业存在的理由, 是企业存续发展对企业自身及社会的价值与意义。远景是企业使命的形象化与具体化, 由于社会分工的存在以及特定企业在资源及其禀赋等方面的差异性与局限性, 每个企业只能在特定的领域或方面以特定的方式来表达和实现其使命, 从而表现为不同的企业远景。战略目标是企业在一定时期内, 为完

成企业使命及远景所要达到的结果，也是衡量企业经营活动的标准。根据上述定义，下列各项中描述了企业战略目标的是()。

- A 某运动产品生产企业：在日益增长的健身市场上建立强有力的格局
- B 某电子产品生产企业：致力于电子信息技术的研究与应用，提升人类社会生活品质
- C 某家电生产企业：以产业报国为己任，创造绿色世界、服务人类社会
- D 某厨具生产企业：不断为人类提供更新、更好的厨房文化与生活方式，竭尽全力，让家的感觉

解析：战略目标是在一定时期内，企业为完成企业使命及远景所要达到的结果。A 项中运动企业在运动市场上建立强有力的格局，符合题意；B、C 和 D 项均涉及到了提升人类、服务人类等等，这些体现了企业的社会价值，属于使命。因此本题答案为 A 选项。

245、抱负水平是指一种想将自己的工作做到某种质量标准的心理需求。个体从事某一实际工作之前，其内心会预先估计所能达到的成就目标，然后竭尽全力向此目标努力，假如工作的质与量都达到或超过了自己预定的标准，便会有有一种成功感，否则就有失败感、挫折感。

根据上述定义，下列各种心理中符合抱负水平的是()。

- A 部分建筑商无视国家的法纪，在建筑工程中偷工减料
- B 在张老师的精心培育下，试验田里的稻苗结出了饱满的稻穗
- C 老赵年轻时曾放弃国外的优越条件，回到祖国
- D 小王每天都按照工作计划表的要求及时完成自己的工作，从不拖沓

解析：第一步：抓住定义中的关键词

抱负水平强调努力想要达成或超过自己在“从事实际工作前”“预先估计的质量标准”的心理需求。

第二步：逐一判断选项

A 中“偷工减料”根本不是想要“做到某种质量标准”，A 错误。B 中张老师的“预定目标”是使“试验田里的稻苗结出饱满的稻穗”，他为之努力最终也达到了这个目标，这属于抱负水平，B 正确。C 中并没有指明“从事某一实际工作”，C 错误。D 中“小王按照工作计划表的要求及时完成工作”并非小王“自己预先设定的目标”，D 错误。故正确答案为 B。

246、(1) 秦时明月汉时关

(2) 唯向深宫望秋月

(3) 海上明月共潮生

(4) 受降城下月如霜

(5) 夜吟应觉月光寒

·A 3-2-1-5-4


·B 1-3-4-2-5

·C 3-1-4-2-5

·D 1-5-2-3-4

解析：(1) 是盛唐诗人王昌龄 (698-757) 的诗句；(2) 是中唐诗人白居易 (772-846) 的诗句；(3) 是盛唐前期诗人张若虚 (660-720) 的诗句；(4) 是中唐诗人李益 (748-829) 的诗句；(5) 是晚唐诗人李商隐 (813-858) 的诗句。根据诗人出生 (或死亡) 年代由早到晚排列，可知答案为 C。

247



解析： 本题考查的是图形之间的位置变化，题干已知图形中，第一个图形中的最外侧的五边形伸缩到了第二个图形的最内侧，同样，第二个图形中的最外侧的八边形伸缩到了第三个图形中的最内侧，以此类推，未给出的图形最内侧应该是前一个图形中的外侧形状四边形，因此，本题答案为 C 选项。

248、一种流行的看法是人们可以通过动物的异常行为来预测地震。实际上，这种看法是基于主观类比，不一定能揭示客观联系。一条狗在地震前行为异常，这自然会给它的主人留下深刻印象。但事实上，这个世界上的任何一刻，都有狗行为异常。

为了评价上述论证，回答以下哪个问题最不重要

- A 被认为是地震前兆的动物异常行为，在平时是否也出现过
- B 两种不同类型的动物，在地震前的异常行为是否类似
- C 地震前有异常行为的动物在整个动物中所占的比例是多少
- D 在地震前有异常行为的动物中，此种异常行为未被注意的比例是多少

解析：论点：人们通过动物的异常行为来预测地震的看法是基于主观类比，不一定能提示客观联系。题干中阐述了狗震前的行为异常，在日常生活中也可能发生，只是主人没有发现，进一步的对论点进行削弱。B 项不同类型的动物是否有相似的异常行为并不重要，关键是是否有异常行为，B 项不能对该论证构成质疑，因此，本题答案为 B 选项。

纠错：

对 A 项的回答可以说明动物的异常行为是否与海啸有关，有助于评价论证；对 C 项的回答可以说明有异常行为的动物是否占多数，如果是，则说明预测是有一定根据的，如果不是，则说明没有根据，所以对 C 项的回答也有助于评价论证；如果大部分异常行为没被注意，则说明即使有异常行为，用来预测海啸也是很难的，对 D 项的回答也有助于评价论证。

249、古罗马历史学家塔西佗曾这样谈论执政感受：当政府不受欢迎的时候，好的政策和坏的政策都会得罪人民。这个见解后来成为西方政治学的定律之——“塔西佗陷阱”。

以下符合“塔西佗陷阱”定律的是：

- A 当社会发生突发公共事件时，无论政府做好事还是坏事，都会被认为做坏事
- B 当公权力遭遇公信力危机时，无论政府说真话还是假话，都会被认为说假话
- C 当食品安全出现危机时，无论合格食品还是不合格食品，都会被认为不合格食品
- D 当网络成为信息传递渠道时，无论真信息还是假信息，都会被认为假信息

解析：主体为政府，政府不受欢迎，政策无论好坏都会得罪人民。主体不一致排出 C、D；A.错在突发事件与题干不相符。所以选择 B。

纠错：

A, B, C 项并没有提到政府不受欢迎，故排除。

250、假性痴呆是指在某种特殊的心理背景下出现的一种部分短暂、可逆的智能障碍，而无明显脑器质性损害的证据。

以下属于假性痴呆的是

- A 某人听到门响怀疑有人影
- B 某播音员播报过程中突然语塞

- C 车祸脑伤患者思维迟缓，反应迟钝
- D 受精神打击后暂时忘记自己的姓名，不认识亲人

解析：定义中的关键信息为：假性痴呆是短暂、可逆的智能障碍。符合这一信息的只有 D 项，而其它选项都不符合这一关键信息。

纠错：

A、B 项中没有心理背景；B 项是车祸脑部受伤患者，也不是心理原因导致的，故排除。

251、偏见是一种缺乏客观依据、同定的、先入为主的观念和态度。在社会心理学中，偏见多指否定性、拒斥性的态度。歧视是指不以能力、贡献、合作等为依据，而是以诸如身份、性别、种族或社会经济资源拥有状况为依据，对社会成员进行区别对待的行为。

根据上述定义，下列各项中属于偏见的是

- A 某售楼处只接待拥有 20 万以上资产证明的客户
- B 某高校规定，年龄在 50 岁以上的讲师不能参评副教授
- C 航空公司通常都给予头等舱的乘客更优厚的待遇
- D 长久以来，女性的工作能力经常受到他人的质疑和否定

解析：定义中的关键信息为：偏见是一种先入为主的、否定态度。D 项中“女性的工作能力经常受到他人的质疑和否定”符合“否定态度”。

纠错：

定义中的关键信息为：偏见是一种先入为主的、否定态度。D 项中“女性的工作能力经常受到他人的质疑和否定”符合“否定态度”。A 选项的行为属于歧视。

252、食物：食品

- A 拘泥：拘谨
- B 达到：到达
- C 发挥：发扬
- D 矿产：矿石

解析：食物指：是指能被食用并经消化吸收后构成机体供给活动所需能量或调节生理机能的无毒物质；食品指：可供人类食用或饮用的物质，包括加工食品，半成品和未加工食品，不包括烟草或只作药品用的物质。食物的范围大于食品的范围，二者是包含关系，D 项中矿产泛指一切埋藏在地下（或分布于地表的、或岩石风化的、或岩石沉积的）矿产可供人类利用的天然矿物或岩石资源；矿石指：含有用矿物并有开采价值的岩石。矿产的范围大于矿石，是包含关系，因此，本题答案为 D 选项

纠错：

A 项中拘泥指：固执而不知变通，拘谨指：言行过于谨慎、拘束，二者意思不同，不符合题干词项的逻辑关系；B 项中达到和到达是近义词关系，排除，C 项中发挥指：把内在的性质或能力表现出来，把意思或道理充分表达出来，在原有的基础上发展，引申为吩咐，出主意；发扬指：发展和提倡，不是题干中的包含关系，因此排除。

253、得陇望蜀：狼子野心

- A 沐猴而冠：狐假虎威
- B 指桑骂槐：趾高气扬
- C 坐井观天：鼠目寸光
- D 投桃报李：指雁为羹

解析：得陇望蜀指已经取得陇右，还想攻取西蜀，比喻贪得无厌。狼子野心指比喻凶暴的人

居心狠毒，习性难改，题干两个词之间词义不同，但是从词的倾向性来讲，都是贬义词，但是，都是贬义词的选项不止一个，成语的类比推理，从词义、词性上分析，找不到解题思路，可以从词的结构上分析，得陇和望蜀都是动宾结构，并且两者之间是并列结构，狼子和野心都是名词，并且两者之间是并列关系，C项坐井观天，坐井和观天都是动宾结构，并且前后是并列关系，鼠目和寸光都是名词，前后并列，逻辑关系符合；因此，本题答案为C选项。

纠错:

A项中沐猴而冠，前后不是并列关系，排除；B项第二个成语趾高气扬，趾高和气扬是主表结构，不是名词，所以排除；D项指雁为羹，指雁和为羹是动宾结构，排除。

254、后果：结果：成果

- A 信心：信念：信仰
- B 妄想：遐想：理想
- C 反动：反对：反思
- D 思维：思想：思绪

解析：本题考察包含关系和语义关系。题干中“成果、后果”都是“结果”，构成包含关系，而“后果”是贬义词，“成果”是褒义词。B项中“妄想、理想”都是“遐想”，构成包含关系，而“妄想”是贬义词，“理想”是褒义词。故应选择B。

255、

解析：本题属于位置类、样式类的综合考查，每幅图都有内外两个图形，并且前一幅图形中里面的图形是下一幅图形外围的图形，因此，问号处的图形外围应该是倾斜的正方形，排除A、B选项，每个图形都是由一个直线图形、一个曲线图形构成，并且1、3图形是直线图形在外，2、4两幅图是曲线图形在外，所以问号处应该是直线图形在外，曲线图形在内，因此，本题答案为D选项。

256、（ ）对于 教师 相当于（ ）对于 树木

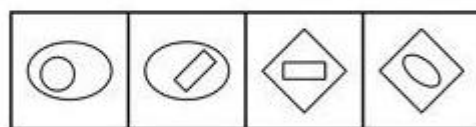
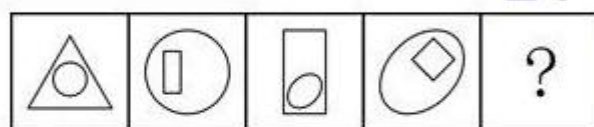
- A 学生
-14小鸟
- B 校长
-14小草
- C 医生
-14鲜花
- D 学校
-14森林

解析：C项医生和教师属于并列关系，二者都是职业，鲜花和树木也属于并列关系，二者都是植物。故选C

纠错:

A 项学生和教师属于并列关系，而小鸟和树木不属于并列关系。

B 校长和教师属于交叉关系，小草和树木是并列关系。



A

B

C

D

D 项学校最主要的组成不是教师，但是森林最主要的组成是树木。

257、唐诗：七律

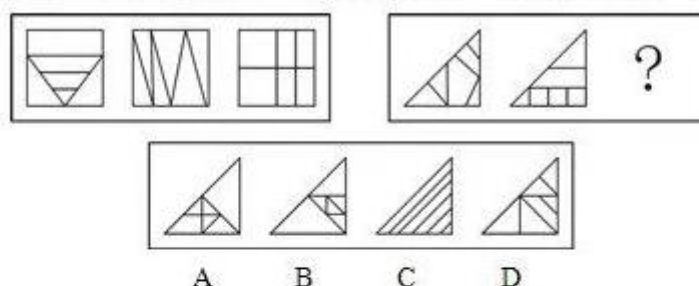
- A 曲艺：越剧
- B 瓷器：茶杯
- C 哺乳动物：老虎
- D 自行车：汽车

解析：七律即七言律诗，七言律诗是中国近体诗的一种，唐诗泛指创作于唐代的诗，二者为交叉关系。故选 B。

纠错：

七律即七言律诗，七言律诗是中国近体诗的一种，唐诗泛指创作于唐代的诗，二者为交叉关系。故选 B。

从所给的四个选项中，选择最合适的一个填入问号处，使之呈现一定的规律性：



258、

解析：所有图形面的个数都是 6，第一组图形中，相同元素的数量分别是 2、3、4（两个全等直角三角形、三个全等直角三角形，四个全等长方形），第二组图中，前两个图中相同元素的数量分别是 2,3（两个全等直角三角形，三个全等小正方形），所以选项应该包含有 4 个相同元素的图形，只有 B 选项满足。

259、经济活动是人们在一定的经济关系的前提下，进行生产、交换、分配、消费以及与之有密切关联的活动。经济关系是人们在经济活动中结成的相互关系，在各种经济关系中，占主导地位的是生产关系。下列哪项与上面论述中的前提有关？（）

- A 如何处理政治、经济的关系
- B 适应经济发展的文化
- C 管理其他各种经济活动
- D 关于农业生产互助合作

解析：本文的前提是“一定的经济关系”，选项中与此前提相关的只有 A，故选 A。

纠错：

B 项说的是文化，与前提无关；C、D 两项是经济活动，但设问要求的是与前提相关的，因此排除。

260、民间组织不是政治组织，但是具有一定的政治功能。政治的核心概念是权力。所谓政治，乃是指权力的占有和使用。由此可以得出（）。

- A 民间组织必须在法律的范围活动
- B 民间组织的领导者也需要遵守纪律
- C 民间组织的权力小于政府权力

·D 权力的重点在使用而不是占有

解析：根据题干民间组织不是政治组织，但有一定的政治功能，因此民间组织的权力应该小于政府权力。选择 C 项。

纠错：

题干并未涉及法律和纪律，排除 A、B 选项；也没有比较权力的使用和占有，排除 D

261、司法：亦称法律的适用，是指国家司法机关依据法定职权和法定程序，具体应用法律处理案件的专门活动。下列选项中哪种是司法活动？（ ）


·A 根据群众的举报，海淀区工商局采取行动，于某日晚依法对几家音像店进行了查处，缴获盗版光盘千余张

·B 景县公安局干警依法对犯罪嫌疑人王某予以逮捕，并对其进行审问

·C 李某作为一审的被告，对本市中级人民法院的审判不服，上诉到上级人民法院，省高院对该案进行二审

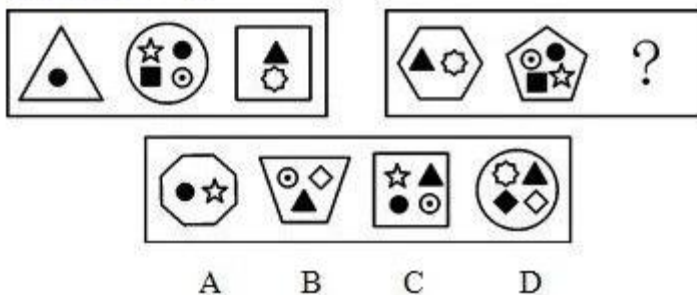
·D 海淀区人民法院深入街道居委会，积极开展普法宣传，提高人们的法律意识

解析：司法的关键信息有：（1）主体“国家司法机关”；（2）具体应用法律处理案件。A 项的主体是工商局，不属于司法机关，不符合（1）；B 项的主体是公安局，为行政机关、执法机关，不符合（1）；C 项主体为省高院，属于国家司法机关，同时是具体应用法律处理案件，符合定义条件；D 项开展普法宣传活动不是处理案件的活动，不符合条件（2）。因此，本题答案为 C 选项。



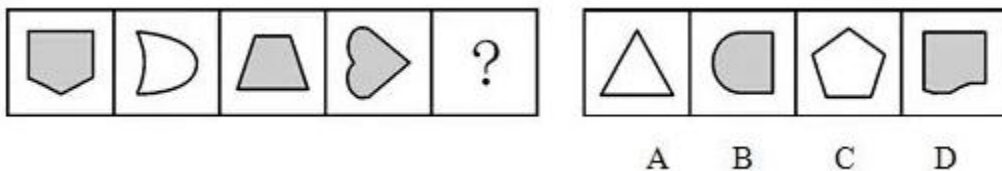
262、

解析：本题考查规律类中图形的实体信息。前一组图形中，三个图形分别为蔬菜、汽车生产企业标识、铁路运输系统标识，分别代表了第一产业、第二产业和第三产业；后一组图形中，前两个图形分别为水果和电脑生产企业标识，分别代表了第一产业和第二产业，故应选一个代表第三产业的选项，C 项的餐饮服务标识属于第三产业。因此，本题答案为 C 选项。



263

解析：本题考查数量类中图形的点数以及元素的数量。前一组图中第一个图内的元素个数加上外围的图形的线条数为 4，第二个图内的元素个数加上外围的图形的线条数为 5，第三个图内的元素个数加上外围的图形的线条数为 6，依次成等差数列 4,5,6。按照相同的规律，后一组图形应满足 8,9,10。因此，本题答案为 A 选项。



264

解析：本题考查样式类图形内在属性中的对称性。题干中的 4 个图形都均为轴对称图形，且对称轴的数目均为 1，选项中只有 B 项的图形满足此条件。因此，本题答案为 B 选项。

265、因为青年人开车容易急躁，所以，在我国尽管十八、九岁的司机只占注册司机的 7%，但是在交通死亡事故的肇事者中，他们的比例却是超过 14%。下面每一项，如果正确，都能削弱青年人开车容易急躁的观点，除了（ ）。

- A 与其他人开的车相比，青年人开的车较旧，且稳定性也差
- B 青年人开车时的乘客人数很有可能比一般的司机多
- C 青年司机平均每年开车的距离超过其他司机的两倍
- D 青年人引起的交通事故比其他人引起的交通事故严重

解析：本题是对削弱论证中另有他因的考查。分析题干可知：

论据：青年人开车容易急躁

论点：青年司机只占注册司机的 7%，交通死亡事故的肇事者比例却是超过 14%。

D 项中指出青年人引起的车祸比其他人引起的车祸要严重，并没有指出是由什么原因造成的，对论证关系不存在削弱作用。因此，本题答案为 D 选项。

纠错：

A 项、B 项以及 C 项分别指出中车的原因、乘客人数以及每年开车的距离都可能导致青年司机在交通死亡事故的肇事者中比例较高的这一现象，均属于另有他因，具有削弱作用。

266、应该清醒地认识到，目前房地产市场最大的矛盾不是供需之间的矛盾，而是百姓囊中羞涩与房价不断上涨之间的矛盾。而这一问题产生的根源就在于房子被当作奇货可居、有利可图的商品，被房产商和手有余钱的业主一而再再而三地热炒。于是我们看到一些房产商宁愿把房子成片闲置也不愿平价或降价出售；某些富有的业主拥有两三套，甚至十数套房产，而大量炒房团也应运而生。以下最能加强上述结论的是（ ）。

- A 经济学家近来十分关注炒房对房价上涨的影响作用
- B 在一些内陆地区，未发生炒房现象，房价比较平稳
- C 在一些经济发达的地区，炒房现象虽不突出，但房价仍然居高不下
- D 一些地区拟对拥有多套房者开征土地使用费，可以有效地抑制虚假的住房需求

解析：本题考查加强支持类论证。论点：目前房地产市场最大的矛盾不是供需之间的矛盾，而是百姓囊中羞涩与房价不断上涨之间的矛盾。而这一问题产生的根源就在于房子被当作奇货可居、有利可图的商品，被房产商和手有余钱的业主一而再再而三地热炒。

D 选项，增加论据，“一些地区拟对拥有多套房者开征土地使用费，可以有效地抑制虚假的住房需求”说明住房需求是炒出来的，并非真实的需求，即证明了题干的论点。因此，本题答案为 D 选项。

纠错：

A 选项，经济学家对炒房是否关注与题干的论点无关。由 B 选项可知，通过对比试验，可知发生炒房现象的话，房价并不平稳，但是不平稳不代表这上涨，因此与题干无关。C 选项，通过对比试验，可得知炒房并不能促使房价高，对题干论点构成质疑。

267、某省发布地质灾害防治方案，方案指出，全省各地区、各有关部门要结合实际情况，

因地制宜，突出重点，迅速组织开展地质灾害隐患巡查排查工作，特别要逐一排查城镇乡村等人口密集区和江河流域、交通干线、重要设施等重点区域的地质灾害隐患，不留死角。下列各项做法中属于贯彻执行该方案中这一要求的是（ ）

- A 甲县气象局预测，该年度极端天气较历年偏多，局部暴雨、冰雹等强对流天气将频繁发生，容易造成崩塌、滑坡、泥石流、地面塌陷、地裂缝等地质灾害
- B 乙县充分发挥基层党组织和干部群众的作用，建立汛期值班等制度，并把防灾避险、监测预警的任务具体落实到城镇、乡村、学校、医院、企业等单位及相关责任人员
- C 丙县要求全县各乡、村自查自纠，发现该县某处煤矿采空区地面塌陷，危及尚未拆迁的居民房屋和公共设施以及铁路运行安全
- D 丁县建有大型水库，因而该县水利部门认真做好水库周边和河道两侧的地质灾害防治工作，严防地质灾害危及水库和河道安全及引发次生灾害

解析：题干中所涉及的方案要求是地质灾害隐患巡查排查工作，C 选项，全县各乡、村自查自纠，发现该县某处煤矿采空区地面塌陷，属于地质灾害隐患巡查排查工作。因此，本题答案为 C 选项。

纠错：

A 选项是预测，B 选项是预防洪涝灾害，D 选项是地质灾害防治，均不属于地质灾害隐患巡查排查。

拓展：

此题关键是要抓住题干中的核心信息，并且采用符合验证的方法来寻找正确答案，排除错误选项。

268、警察：安全

- A 太阳：温暖
- B 酒吧：娱乐
- C 乞丐：流浪
- D 飞机：战争

解析：警察带给人安全感，太阳带给人温暖的感觉。

纠错：

B 项酒吧是娱乐的场所，但并不带给人娱乐的感觉，并且安全是形容词排除；C 项乞丐给人的感觉是贫穷，不是流浪，排除；战争里边可能用到飞机，但看到飞机不会感到战争，排除 D。

269、产业结构，亦称国民经济的部门结构，是指国民经济各产业部门之间以及各产业部门内部的构成。社会生产的产业结构或部门结构是在一般分工和特殊分工的基础上产生和发展起来的。研究产业结构，主要是研究生产资料和生活资料两大部类之间的关系；从部门来看，主要是研究农业、轻工业、重工业、建筑业、商业服务业等部门之间的关系，以及各产业部门的内部关系。下列哪一项属于产业结构的要素？（ ）

- A 需求结构、资源供给结构、科学技术
- B 技术结构、产业布局、产业组织、产业链
- C 主导产业、生产率、物质产品
- D 生产要素、产业划分、科技投入

解析：产业结构的关键信息为国民经济各产业部门之间以及各产业部门内部的构成。B 项中的“技术结构、产业布局、产业组织、产业链”各要素都与国民经济各产业部门之间以及各产

业部门内部的构成有关；A 项中的科学技术、C 项中的生产率以及 D 项中的科技投入，都不是各产业部门以及内部的构成，不属于产业结构的要素。因此，本题答案为 B 选项。

270、所谓“人口红利”指的是在一个时期内生育率迅速下降，少儿与老年抚养负担均相对较轻，总人口中劳动适龄人口比重上升，从而在老年人口比例达到较高水平之前，形成一个劳动力资源相对比较丰富的黄金时期。对“人口红利”理解不正确的是（ ）。

- A “人口红利”是推动经济持续增长的利好因素
- B “人口红利”不意味着经济必然持续高速增长
- C 优化人口结构是保持“人口红利”的主要途径
- D 提高劳动生产率可以缓解“人口红利”的不利影响

解析：人口红利的关键信息有：（1）生育率迅速下降；（2）老年人口比例达到较高水平之前；（3）劳动力资源相对比较丰富。A 项由（3）劳动力资源相对丰富可以理解“人口红利”是一个推动经济持续增长的利好因素；B 项由（3）可知劳动力资源相对丰富，是一个利好因素，但并不是经济增加的充分条件；C 项由（1）和（2）可知，“人口红利”本身就是在人口结构的基础上所形成的一个时期，而生育率下降，随着时间的推移，老年人口比例必然会增加，优化人口结构也无法保持这一时期；D 项由（1）和（2）可知，可以在“人口红利”期过去后，必然会有一个人口老龄化的不利时期。而这个时期的劳动力减少，需要靠提高劳动生产率维持经济增长。因此，本题答案为 C 选项。

271、“给力”是中国北方的土话，表示给劲、带劲的意思。闽南话意思为很精彩、很棒的意思。2010 年“给力”一词流行起来，2010 年 11 月 10 日，《人民日报》头版标题《江苏给力“文化强省”》引发国内舆论热议，许多报刊纷纷效仿运用。下列对“给力”一词运用不当的是（ ）。


- A CPI 创 25 个月新高，食品给力 74%（《沈阳晚报》2010 年 11 月 12 日）
- B 7 万个亿了！财政应“给力”民生（《燕赵都市报》2010 年 11 月 12 日）
- C 抗通胀工资是否能“给力”？（《成都商报》2010 年 11 月 12 日）
- D 高房价给力光棍节（《东方早报》2010 年 11 月 12 日）

解析：“给力”的关键信息是很精彩很棒，A 项中指出食品物价上涨导致 CPI 的增加，给人们生活带来压力，并不是值得夸奖的事情，不适合使用给力一词；B 项中财政的大力支持是值得夸奖的事情；C 项中是问句，工资是否能成功抵抗通货膨胀；D 项中可以理解为讽刺的含义，针对高房价问题。因此，本题答案为 A 选项。

272、民生主要是指民众的基本生存和生活状态，以及民众的基本发展机会、基本发展能力和基本权益保护的状况等。下列哪一项不属于保障民生的行为？（ ）

- A 《北京市房屋租赁管理若干规定》明确规定对房屋租赁实行登记制度
- B 《中华人民共和国社会保险法》规定，国家通过税收优惠政策支持社会保险事业
- C 《劳动合同法》规定，劳务派遣工应与其他员工同工同酬
- D 《廉租房保障资金管理办法》规定，该项资金实行国库集中支付、专款专用

解析：保障民生的关键信息为保障民众的基本生存和生活状态，以及民众的基本发展机会、基本发展能力和基本权益保护的状况。A 项对房屋租赁实行登记制度，主要目的是方便政府管理，不属于保障民生的行为；B 项中的社会保险、C 项中的同工同酬以及 D 项中的廉租房，都是为了保障民众的基本权益。因此，本题答案为 A 选项。

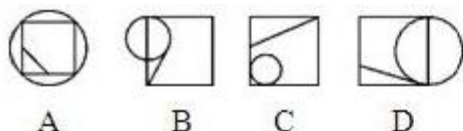


A B C D

273、

解析：第一个图形到第二个图形，先左右翻转，再黑白互换，依此规律，第三个图形到第四个图形也是先左右翻转，再黑白互换，因此本题答案是 D 项。

274、下列哪个图有别于其他三个图？



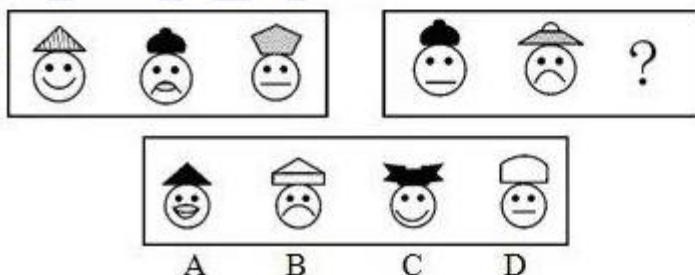
解析：观察题干给出的一组图形，除了 B 之外，别的三幅图形中都有一个直角三角形。因此本题答案是 B 项。

275、心理防御机制是指个体面临挫折或冲突的紧张情境时，在其内部心理活动中具有的自觉或不自觉地解脱烦恼，减轻内心不安，以恢复心理平衡与稳定的一种适应性倾向。根据上述定义，下列不属于心理防御机制范畴的是：（ ）。

- A 学生考试不及格时说教师评分不公或试题太偏
- B 运动员在遇到自己力所不及的困难训练时，产生头痛、手足麻木等症状
- C 某职工产生对上级的不满情绪，在家中对亲人发泄出来
- D 某人因身体发育有缺陷而努力学习，以卓越成绩赢得别人的尊重

解析：心理防御机制的定义要点是：（1）面临挫折或冲突；（2）内部心理活动；（3）恢复心理平衡。在 A 选项中，学生考试不及格说教师评分不公或试题太难属于寻找外部原因，不符合（2）。B 选项“遇到自己力所不及的困难训练”符合“面临挫折或冲突”，“产生头痛、手足麻木”符合“内部心理活动”、“恢复心理平衡”；C 选项“对上级不满”符合面临冲突，“在家中对亲人发泄”是想恢复心理平衡与稳定，符合“内部心理活动”、“恢复心理平衡”；D 选项“身体发育有缺陷”符合“面临挫折或冲突”，“努力学习，以卓越成绩赢得别人尊重”符合“内部心理活动”、“恢复心理平衡”。

因此，本题答案为 A 选项。



276

解析：第一组图中，三顶帽子各不相同，三个图形的嘴巴都不相同，排除 B、D。在嘴巴的元素中一共有四种元素，应选择 A 项。

277、在玉米地中套种的小麦有可能得小麦黄叶病，这种病是由于光照不足造成的，一旦光照充足，比如玉米收割后，症状很快就会消失，且不会影响产量。而小麦锈病是由花斑锈菌引起，如果在病症初起时不及时恰当应对，就会使小麦植株很快枯死。由于小麦锈病和小麦

黄叶病初期症状很难区分，所以，在玉米地中套种小麦，必须高度注意小麦锈病的定期筛查和预防。以下哪项最可能是上述论证的假设前提（ ）

- A 科学家一直没有找到有效鉴别小麦锈病的方法
- B 花斑锈病对小麦的危害与光照是否充足是无关
- C 如果及时恰当处理小麦锈病就不会使小麦减产
- D 小麦黄叶病不会诱发小麦锈病

解析：小麦黄叶病是不是诱发小麦锈病与“高度注意小麦锈病的定期筛查和预防”没有直接关系，而充足光照就可以预防小麦黄叶病，但是光照与否对小麦锈斑病发病没有影响，所以选 B 项。

278、风俗：习惯

- A 男人：大人
- B 吃饭：生活
- C 电力：能源
- D 爱好：特长

解析：习惯包含风俗，二者为包含关系；C 能源包含电力，二者亦为包含关系；因此，本题答案为 C 选项。

纠错：

A 项男人与大人之间为交叉关系，非包含关系，排除；B 项吃饭是生活的一部分，但吃饭为动词，题干风俗为名词，排除；D 爱好与特长之间为交叉关系，非包含关系，排除；

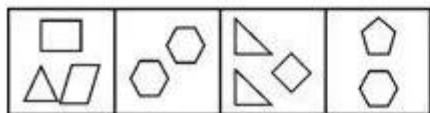

279、太师：太傅：太保

- A 状元：榜眼：探花
- B 司马：司徒：司空
- C 京剧：中医：国画
- D 立德：立功：立言

解析：本题涉及对历史常识的考查。三公为古官名，其说法各异。《汉书·百官公卿表》：“太师、太傅、太保，是为三公”（德韶者居之）；“或说司马主天，司徒主人，司空主土，是为三公”（才高者居之）；或说“丞相主民、太尉主军、御史大夫主法”（德才兼备者居之）。因此，本题答案为 B 选项。

纠错：

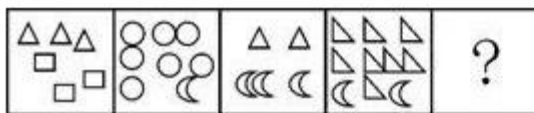
A 项为考试名次的叫法，科举考试选状元开始于隋，确立于唐，完备于宋。明、清时期，殿试的一、二、三名，名称确定为“状元”、“榜眼”、“探花”，合称“三鼎甲”。名次非官职，排除；C 誉满中外的中国京剧、中国画、中国医学，被世人称为“中国的三大国粹”，非官职，排除；D 春秋时鲁国大夫叔孙豹称“立德”、“立功”、“立言”为“三不朽”，非官职，排除。



A B C D

280


解析：本题考查数量类线段数，观察每一列图形规律可以看出，前两个图形的直线段数之和等于第三个图形的直线段数，都是 12，应该选择直线段数是 12 的图形，只有 B 符合。故本题选择 B 项。



A B C D

281

解析：从题中可以看出奇数项的各个素之间都是分离开的，偶数项的各个素之间是部分相连的，第 5 项内的各个素之间应该是分离开的，只有 D 项符合规律。故本题选择 D 项。



A B C D

282

解析：本题考查数量类线段和汉字笔画问题。题中图形都是有 5 条线段，汉字笔画都是 5，只有 B 符合规律。故本题选择 B 项。



A B C D

283

解析：本题考查样式类中的新运算以及图形的旋转问题。题干中的图形后一个图形外部图形形状与前一个图形内部最上面的图形形状相同，因此，问号处图形的外部图形应为圆形；观察图形题干各个图形，下一个图形内部最上面图形是前一个图形内部的左下方图形，因此，问号处内部图形最上面图形应该是前一个图形左下方这个三角形；因此，本题答案为 D 选项。

拓展:

新运算是图形推理样式类运算中的一种新考法, 针对的不是两个图形之间的运算, 主要考查的是单独一个图形的自行变化, 包括图形形状颜色本身的变化, 形状主要是变大、变小, 里变外, 外变里, 以及颜色黑变白, 白变黑等。

284、技术创新是新产品或工艺从设想产生到市场应用的一个完整过程, 它包括新设想的产生、研究、开发、商业化生产到推广这样一系列的活动。新设想的产生到研发活动, 是技术知识产权的创造过程; 商业化生产到推广, 则是促进品牌知识产权的创造过程。根据上述定义, 下列属于技术创新的一项是 ()。

- A 上世纪 90 年代, 丹麦一家助听器公司推行了一种全新的组织模型: 没有正式的层级和汇报关系, 资源分配是围绕项目小组展开的, 组织是完全开放的。这种创新取得了巨大成功
- B 钢铁公司通过引进国际先进技术, 建设了一条超薄热带生产线, 实现了以薄为主, 以热代冷的生产方式, 填补了国内空白
- C 经过研究和实践, 我国某农业科学家提出果树嫁接的新技术, 实现了产量翻两番的目标
- D 技术人员引进并吸收了国外发达技术, 设计生产出具有自主知识产权的高速动车组, 并已应用到京津、武广等线

解析: 技术创新的关键要件有: (1) 新产品或工艺; (2) 从设想产生到市场应用的一个完整过程。在 A 项中, 丹麦公司推行了组织模型, 未涉及到新产品, 不符合 (1)。在 B 项中, 钢铁公司引进先进技术填补国内空白, 未涉及到设想, 不符合 (2)。在 C 项中, 科学家提出新技术实现高产, 未提到市场应用, 不符合 (2)。因此, 本题答案为 D 选项。

285、乡村旅游是以各种类型的乡村为背景, 以乡村田园风光、乡村生活和乡村文化为旅游吸引物, 以农业和农村特色资源为基础开发旅游产品, 以农民为经营主体、以城市居民为目标的一种休闲旅游形式。根据上述定义, 下列属于乡村旅游的一项是 ()。

- A 五一期间靖远县旅游局组织东湾镇大坝村农民 20 人, 赴景泰黄河石林景区参观学习当地农家乐建设情况
- B 周末, 小王约了几位好友一起去爬慕田峪长城, 归途中向农民购买了一些特产
- C 杨家埠位于山东潍坊, 这里的农民心灵手巧, 制作出了精美的木版年画和风筝, 从而吸引了数以万计的国内外宾客前来观光旅游
- D 周末某市机关组织职工去郊区采摘甜瓜。在这里, 家家户户都种植甜瓜, 只要与农户谈好价格, 就既能体验采摘乐趣, 又能把新鲜甜瓜果带回家

解析: 乡村旅游的关键要件有: (1) 以乡村为背景; (2) 以乡村田园风光为旅游吸引物; (3) 以农村特色资源为旅游产品; (4) 以城市居民为目标的休闲旅游形式。在 A 项中, 组织农民旅游参观学习, 不符合 (1)。在 B 项中, 小王和好友爬长城, 不符合 (2)。在 C 项中, 农民制作年画和风筝, 不符合 (3)。因此, 本题答案为 D 选项。

286、内在经济是指一个厂商在生产规模扩大时自身内部所引起的收益增加, 而外在经济是指整个行业规模扩大时给个别厂商所带来的收益增加。根据上述定义, 下列属于外在经济的是 ()。

- A 稀土行业近年来发展迅速, 一些开采企业由于运输成本和关税的降低, 出口量不断增加, 和许多国家都建立了贸易往来关系
- B 某茶叶生产商由于引进了一批先进设备, 提高了生产效率, 销售量比往年扩大了一倍
- C 国产手机行业发展迅速, 规模不断扩大, 某手机生产商为了增强产品竞争力, 开始精简机构降低成本

·D 由于国际油价节节攀升，广东省一些地区的加油站通过提高价格获得了较多利润

解析：外在经济的关键要件有：（1）整个行业规模扩大；（2）个别厂商收益增加。在 B 项中，某茶叶生产商引进设备提高效率，属于内在经济。在 C 项中，某厂商为了增强竞争力精简机构成本，不符合（1）和（2）。在 D 项中，加油站提高价格获得利润，不符合（1）。因此，本题答案为 A 选项。

287、社会工作是以利他主义价值观为指导，以科学的知识为基础，运用科学方法助人的服务活动。根据上述定义，下列属于社会工作的一项是（ ）。

·A 广州亚运会组委会在学校、街道招募了很多志愿者，为亚运会的圆满举办提供了人力保障

·B 自然之友等民间组织多年来开展了各种形式的宣传活动，提高了人们的环保意识

·C 日前众多明星应邀参加了一次慈善拍卖会，募得的善款资助失学儿童

·D 小张是一名专业的心理咨询师，他每学期都会为附近的中小学生义务开课，讲解如何预防青少年犯罪等知识

解析：社会工作的关键要件有：（1）利他主义为指导，科学知识为基础；（2）科学助人。

在 A 项中，广州亚运会的志愿者提供服务，不符合（1）。在 B 项中，民间组织宣传环保活动，不符合（2）。在 C 中，明星募得善款资助儿童，不符合（2）。因此，本题答案为 D 选项。

288、某年全市的文理科高考状元都是志远私立高中的学生，于是很多家长得出结论说：“志远中学比市重点高中——一中的教学质量都高”。以下哪项最能反驳这些家长们的结论？（ ）

·A 有没有出现文理科高考状元并不是衡量学校教学水平高低的唯一标准

·B 该年志远中学学生高考平均分比市一中学生的低很多

·C 因为志远中学的教师待遇好，有不少教师离开市一中来志远教书

·D 志远中学的学生都住宿，所以他们在校学习时间比市一中学生长

解析：本题是对削弱论证中切断联系的考查。分析题干内容可知：

论据：文理科状元都是志远中学的学生。

论点：志远中学教学质量高。

A 项中指出是否出现文理科状元与学校的教学质量之间并不存在必然的推理关系，仅有此论据是无法推出论点的，反驳了家长们的观点，削弱力度较强。因此，本题答案为 A 选项。

纠错：

B 项举个反例，削弱力度低于削弱论证；C 项中的教师待遇与题干描述内容无关，不存在加强作用；D 项中学生在校时间的长短与学校质量之间不存在联系，故可排除；

289、《天天快报》报社组织拓展训练，最后一天对所有参加拓展的员工进行考核。如果考核结果达到 3 分或 3 分以上，记为优秀。在考核之前，有几个人就成绩讨论起来。陈东说：“小军、小霞身体素质都不错，他们俩至少有一个优秀。”牛力说：“训练的时间太短，大家练习都不够，这次没有人能得优秀。”马方说：“怎么可能呢？有人以前就参加过训练，他们一定能得优秀。”假设这三个人只有一个人的猜测得到了验证，那么一定可以推出以下哪项结论？（ ）

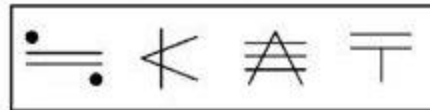
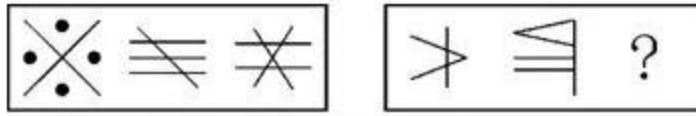
·A 牛力说的对，参加拓展的报社成员没有人得优秀

·B 没法确定对错，但所有训练成员都得到优秀

·C 马方说的对，有人获得了优秀，但也有人没优秀

·D 陈东说的不对，小霞没有得到优秀

解析：题干中牛力所说为“所有的人都没能得优秀”，马方所说为“有的人一定能得优秀”，二人所说内容为矛盾关系，满足“必有一真必有一假”，条件指出三个人中只有一个人猜测为真，可以推出陈东所说为假，即可推出小军、小霞都没有优秀。因此，本题答案为 D 选项。



A B C D

290、

解析：本题考查数量类中的交点数。题干中前三个图的交点数分别为 1,3,5，后两个图的交点数为 3,5，选项 C 中图形交点数为 7。因此，本题答案为 C 选项。

拓展：

点可分为交点，端点，切点等，在数的过程中遵循先整体后部分的思路，同时注意点的类型。

291、恐惧症：对某种物体或某种环境的一种非理性的、不适当的恐惧感。一旦面对这种物体或环境时，尽管当时并无危险，恐惧症患者仍会产生一种极端的恐惧感。根据上述定义，下列属于恐惧症的是（ ）。

·A 陈女士从小就胆小，一次去乡下办事经过一户农家的门口，冷不防一只体型壮硕的狼狗钻出来凶恶地盯着她，吓得她立刻尖叫着跑掉了。

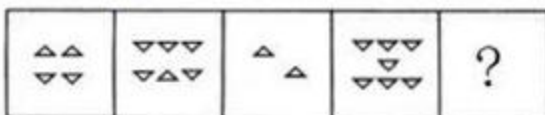
·B 工程师小徐每次看到印有深海的照片时，就感觉自己像置身于深海之中，四周都是幽暗深邃的海水，感到呼吸困难、心跳加快，害怕得再也不敢看那些照片一眼

·C 晚饭后，有点醉意的老同事执意送大家回去，小李还没到小区门口就喊着要下车，因为他受不了那种害怕会出车祸的精神压力了

·D 看了一部日本恐怖片后，小钱感觉脑子里总是浮现电影里的恐怖场景，好几天都睡不好觉

292、解题的关键要件有：（1）非理性的、不适当的恐惧感；（2）面对这种物体或环境时，无危险仍产生恐惧。A 选项中这只体型壮硕的狼狗对陈女士是有威胁的，不符合（1），排除；B 选项中小徐看到照片时并无危险，他的这种恐惧感是非理性的，属于恐惧症；C 项中醉酒驾车是很危险的，不符合（1）；D 选项中的“总是”不符合（2）中的面对这种物体或环境，排除。因此，本题答案为 B 选项。

293



A B C D

解析：本题属于数量类，考察数量替换。通过求解这两种图形间的数量关系来求解。1 个△等于 4 个▽，将每个方格内的图形都换算成▽，则包含的▽的数目分别是 10，9，8，7 个，那么下一个图形应包含 6 个▽。因此，本题正确答案为 A 选项。

拓展:

这是一道由两元素组成的图形推理题。在公考中常常出现这类仅由两种元素构成的图形推理题目，遇到这类题目一定要认真去分析两种元素之间的关系，它们可能单独呈现一定的规律，也可能一起呈现一定的规律，还可能两种元素互相转换从而构成规律，比如本题命题人假定一个=四个▽，进行任意的替代命题，考生需要注意。

294、元宵：汤圆

- A 清明：龙舟
- B 冬至：面条
- C 重阳：菊花
- D 端午：茱萸

解析：本题考查中国节日与特定的民俗文化的对应关系。题干中元宵节吃汤圆，重阳节赏菊花与题干关系一致。因此，本题答案为 C 选项。

纠错:

A 选项中与龙舟对应的节日应是端午，排除；B 选项中冬至对应的应该是饺子，排除；D 选项中与端午对应的应该是粽子，排除。

295、某国今年来放松了对销售民用枪支的管制，枪击案发生率快速上升。据统计，大多数枪击案与合法购置的民用枪支被滥用有关，所以有人提出为减少该国的枪击案发生率，政府应该加强销售民用枪支的限制。

下列哪项最能支持上述论述？

- A 该国走私枪支的数量远远大于合法购置的枪支
- B 目前对枪击案罪犯的严厉惩罚没有足够的威慑力
- C 大多数在该国销售的民用枪支的杀伤力并不大
- D 严格限制销售民用枪支能得到国民的支持

解析：题干中论点是减少该国的枪击发生率，政府应该加强销售民用枪支的限制。只有惩罚没有足够的威慑力，那么正规途径的限制才有意义。

纠错:

A 选项是构成削弱作用的；

C 选项属于无关项，因为题干中说的是枪击案的发生率，与杀伤力大小没有关系；

D 选项得不到国民支持的话也可以强制执行，因此是无关项。

296、新加坡国立大学社会学家波林·斯特劳恩副教授对当地已婚者和离婚者展开的调查发现，恋爱时间较长的夫妻，婚后闹分手的几率会比哪些恋爱时间较短的夫妻低，于是有人得出结论，要想以后的婚姻更稳固，必须延长恋爱时间。

下列哪些为真，最能削弱上述结论？

- A 恋爱谈得越长，两人结婚的可能性会越低。
- B 情侣在恋爱期是否深入了解彼此比恋爱时间长短更重要。
- C “一见钟情式”的速成婚姻容易破碎
- D 恋爱时间长的人，往往会忘记恋爱的目的是婚姻。

解析：题干中论点为“恋爱时间长使得婚姻更稳固”，B 选项说“恋爱期是否深入了解彼此”比“恋爱时间长更重要”，因此出现另外的原因使得婚姻稳固。即他因削弱。选 B 选项。

纠错:

A 选项说结婚的可能性，和婚后婚姻的稳定程度没有关系，属于无关选项。C 选项恋爱时间短导致婚姻不稳固，属于对比实验没 A 没 B 的加强形式。D 选项属于无关选项。

297、中国：杭州

- A 美国：匹兹堡
- B 法国：法兰克福
- C 美国：瓦伦西亚
- D 阿联酋：沙特

解析：考查包含关系，杭州是中国的一个城市，匹兹堡是美国的一个城市。

纠错：

法兰克福是德国第五大城市；瓦伦西亚是西班牙的城市；沙特阿拉伯和阿联酋是两个国家。

298、科学家们认为，梦是大脑中主管人体各种功能的各个中心点联合作用的结果。人在睡眠时其部分脑细胞仍然在活动着，这就是梦的基础。最近的研究成果证实，做梦不仅不会影响人的睡眠和健康，而且还是保护大脑健康所必需的生理活动之一。以下哪项如果为真，最能支持上述结论？（）

- A 根据问卷分析，长期不做梦的人比经常做梦者所需的睡眠时间更长，在休息后有一半人仍会感到疲倦
- B 实验中，研究人员在睡眠者出现做梦的脑电波时，就立即将其阻断，结果发现被试的血压和体温明显增高
- C 研究中，梦境被打扰的被试在醒来后显得焦虑不安，容易紧张，并出现记忆的短期障碍
- D 调查显示，能完整讲述梦境的被试相比遗忘梦境者，在工作中更能快速集中注意力，从而工作效率更高

解析：题干中给出论点：梦不仅不会影响人的睡眠和健康，而且还是保护大脑健康所必需的生理活动之一，只有一个论点，没有论据，最好加一个论据，或者是重复观点。A 项直接给出一个论据，支持观点，所以答案选 A。

纠错：

B 项血压和体温升高没有说明是健康还是不健康。C 这是做梦和梦被打断的比较，而不是做梦对大脑健康的关系。D 项讲不讲出梦境跟做不做梦是两个概念，排除。

299、蒸发冷却是指液体在蒸发成气体的过程中会吸热，从而降低周围的温度起到冷却的效果。蒸发冷却效应是指在目的或志趣相同的人们组成的社会团体中，团体的价值跟液体的整体温度类似，当价值较高的成员离开社团后，社团自身的平均价值会降低。根据上述定义，下列属于蒸发冷却效应的是（）。

- A 某高校的街舞社团的团长毕业离开学校后，该社团便再没有在街舞比赛中取得较好的名次
- B 某知名流行音乐演唱组合中的一名歌手因意外去世，大批歌迷认为这个歌手的离开导致该组合整体演唱水平大打折扣
- C 某教育机构的一些老师离开该机构创办自己的教育公司，使该机构在市场竞争的形势变得更加严峻
- D 某社交网站的影评小组建立之初时人数较少，影评质量较高，后来有大量人加入这个小组上传影评，使这里整体的影评质量有所下降

解析：A 没有取的好成绩，既是平均价值降低了，选 A；B 中是歌迷认为的，不是真的价值

减低了；C也未提到平均价值降低；D项并没有人员的离开，不符合定义。

300、自白任意性规则是指只有基于犯罪嫌疑人自由意志而作出的、承认有罪的真实陈述，才具有证据能力。根据上述定义，下列符合自白任意性规则做法的是（ ）。

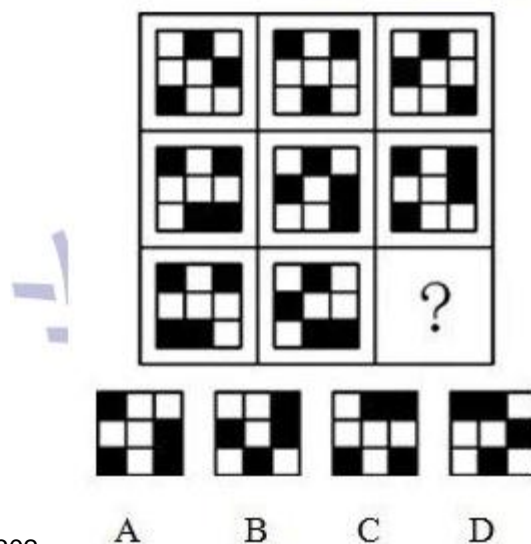
- A 为避免犯罪嫌疑人有做出虚假陈述，应中止讯问
- B 犯罪嫌疑人的有罪陈述须与收集到的证据材料一致
- C 犯罪嫌疑人主张自己无罪，可以不承担举证责任
- D 以从轻处罚为条件，换取犯罪嫌疑人的有罪答辩

解析：A中不是基于犯人的自由意志，而是警察；C令其主张自己无罪，不符合；D也不是以犯人的自由意志，排除。

301、一场超级篮球赛即将进入比赛最后阶段，4支球队将为最后名次展开激烈拼杀。行家们根据各球队以往战绩及现场表现，对比赛结果做出了3项预测：（1）天空队、大地队都不能进入前两名；（2）如果江河队获得第一，那么海洋队将获得第二；（3）如果天空队获得第三，那么大地队将进入前两名。比赛结束后，发现行家们的预测只有一项是正确的。据此，可以推出（ ）。

- A 江河队获得第一
- B 海洋队获得第二
- C 天空队获得第三
- D 大地队获得第四

解析：此题考查的是分析推理题型。根据题干，条件1和条件3均有“天空队”、“大地队”两个关键词，我们可以从条件1和条件3入手，假定条件1、条件3为假，那么由条件3假能推出条件1真，因此条件1、条件3不同为假，结合“行家们的预测只有一项是正确的”，条件1和条件3只能一真一假，故条件2一定为假，从而得出确定结论：江河队获得第一且海洋队没有获得第二。因此，本题答案为A选项。



302、

解析：此题考查的是图形的旋转。观察题干，在这个九宫格图形中，从横向上观察，每一行中图形的阴影部分均按逆时针旋转，即每个小黑点均是相同的规则在旋转。因此，本题答案为A选项。

303、税收中性原则是指国家征税应尽可能减少税收干扰或扭曲市场机制，不能超越市场

而成为影响资源配置和经济决策的力量。根据上述定义，下列选项运用到税收中性原则的是（ ）


- A 出台政策要求企业多纳税
- B 减免征收外资企业所得税
- C 税率不与收入水平相挂钩
- D 提高企业营业税的起征点

解析：本题中的要点为：国家征税应尽可能减少税收干扰或扭曲市场机制。**ABD** 均由于征税而影响市场。所以本题选择 **C**。

304、盖亚假说认为地球生命体与非生命体形成了一个可相互作用的复杂系统。该假说又分为强盖亚假说和弱盖亚假说。其中弱盖亚假说认为地球上的各种生物有效地调节着大气的温度和化学构成，在生物体影响生物环境的同时，环境又反应过来影响生物进化的过程。强盖亚假说更进一步认为地球是一个巨大的有机体，具有自我调节的能力，为了这个有机体的健康，甚至可以自行消除那些有害的因素。根据上述定义，下列选项中属于弱盖亚假说的是：

- A 地球利用太阳能是一种星球尺度上的新陈代谢作用
- B 环保的重要性在于地球是唯一适合人类居住的星球
- C 大气层出现臭氧层空洞是因为人类过度活动造成的
- D 沙漠中引种耐热植物后，促进了当地旅游业的发展

解析：弱盖亚假说强调：地球生物体影响生物环境，反过来生物环境又影响生物进化的过程。**A** 项“地球利用太阳能”不能体现生物与环境之间的关系，不符合定义。**B** 项环保的作用也没有体现地球生物体影响生物环境。**C** 项说明人类活动造成臭氧层，而臭氧层反过来影响人类，符合弱盖亚假说定义。**D** 项“沙漠中引种耐热植物促进了当地旅游业的发展”不能说明生物体和环境之间相互影响关系。因此正确答案为 **C**。



305、

解析：本题考查样数量类中直线的数量。第一组图形中直线的数量分别为 3,4,5，找出规律，属于等差数列，第二组图形中直线的数量分别为 8,10，按照等差数列的规律（加 2），第三个图形线的数量应为 12。因此，本题选择 **C** 选项。

306、近来，月嫂收入成为人们讨论的热门话题。有人要求政府加强监管，并质疑月嫂的收入为何能高过一个医学博士的月薪。也有人反驳说，月嫂的收入为什么不能高过医学博士呢？月嫂收入的提高，一方面是市场调节的结果，另一方面反映了我国越来越重视体力劳动，尊重体力劳动者是社会的进步。

下列哪项陈述不能支持反驳者的观点？

- A 收入高低不完全取决于学历高低
- B 有些月嫂非常优秀，具有博士学位
- C 随着新生儿的增多，出现“一嫂难求”的现象

·D 谁能放下身段去赚辛苦钱，谁就值得尊重

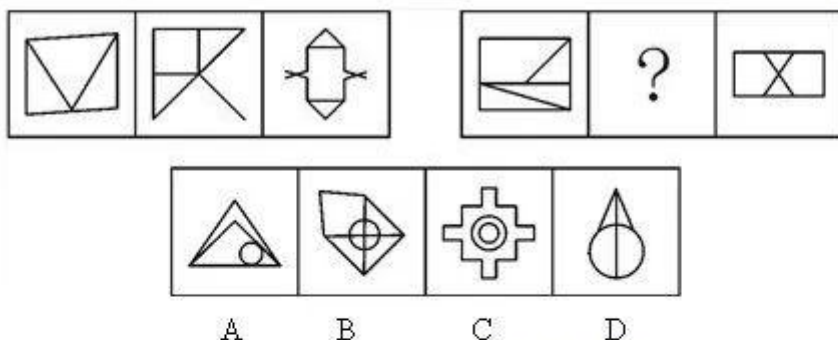
解析：题目中反驳者的观点是：月嫂的收入可以高过医学博士。论据是：“市场调节的结果”和“我国越来越重视体力劳动，尊重体力劳动者”。

A 收入高低不完全取决于学历的高低，说明收入与学历并无直接关系，故月嫂的收入有可能高于医学博士。

B 项说有些月嫂非常优秀，具有博士学位，但并没有涉及到收入高低的问题，因此 B 项无关。

C 选项指出“一嫂难求”的现象，说明需求量大于供应量，才导致月嫂的工资可能会高于医学博士。

而 D 说“谁能放下身段去赚辛苦钱，谁就值得尊重”是支持论据中的“我国越来越重视体力劳动，尊重体力劳动者”，从形式上进行了加强。因此本题正确答案为 B。



307

解析：本题考查图形属性问题中的对称性和数量问题中的封闭空间数。两段式的出题形式，第一段中所有图形包含的封闭空间的数量为 3，第二段中给出的两幅图形包含的封闭空间数量为 4，因此问号处图形包含的封闭空间的数量应为 4，故排除答案 B、C。同时第一段中，第一个图形没有对称轴，第二个图形有一条对称轴，第三道图形有两条对称轴；第二段图形与第一段规律应该一致，对称轴数量为 0、1、2。A、D 选项中 D 选项有一条对称轴。因此，本题答案为 D 选项。

308、某机关拟在全民国防教育日举办专项国防教育活动。至于采用何种活动形式，组织者甲、乙、丙三人意见如下：甲：如果搞读书演讲、知识竞赛，那就不搞文艺演出和专题展览乙：如果不搞文艺演出和专题展览，那就搞读书演讲、知识竞赛丙：不搞读书演讲、知识竞赛上述三人的意见只有一个人的意见与最后结果相符合，最后结果是：

- A 搞读书演讲、知识竞赛，也搞文艺演出和专题展览
- B 搞读书演讲、知识竞赛，不搞文艺演出和专题展览
- C 搞文艺演出和专题展览，不搞读书演讲、知识竞赛
- D 不搞读书演讲、知识竞赛，也不搞文艺演出和专题展览


解析：甲：A→-B=-A 或-B；乙：-B→A=B 或 A；丙-A，所以此题选 A。

309、顶层设计：是指统筹考虑系统各层次和各要素，追根溯源，统揽全局，在最高层次上寻求问题的系统性解决之道。根据上述定义，下列选项不符合顶层设计的是：

- A 某市政府在有关园林绿化决策执行效果的检查过程中发现问题，有关领导指示对北区绿化方案进行优化
- B 某公司董事会就公司扩大经营范围、在海外收购项目等问题召集相关专家起草方案，在论证之后董事会进行表决


- C 某岛屿具有不冻不淤的深水港口和沙白滩阔等条件，辖区政府为利用好这些资源，组织海内外专家研究岛屿开发方案
- D 软件公司在开发大型软件时，就软件的框架召集专家进行论证，在充分吸收专家意见的基础上，确立了软件设计思路

解析：顶层设计的关键要件有：（1）最高层次上；（2）系统解决之道。A 项对北区绿化方案进行优化，只是对园林绿化决策中的部分进行优化，即只对其中的北区进行优化，并非系统性的解决之道，不符合定义要件。B、C、D 三项符合定义要件，排除。因此，本题答案为 A 选项。



310、 A B C D

解析：本题考查数量类题型中的元素的种类。在题干的每个图形中，都包含有三种元素：黑圆、白圆和网状圆，因此“？”处的图形也应包含这三种元素。因此，本题答案为 A 选项。



311

解析：结合第二竖行发现出现的图形都是一样的，所以排除 D 选项。同时第二竖行圆形将正方形与五角星分开，并且上下的位置发生颠倒，所以答案为 C 选项。 这里改成：继续观察其他位置的，比如第一列的实心圆，出现的位置分别是 3、4、2，第二列的五角星，出现的位置为 3、4、2，第三列的正方形，出现位置也必为 3、4、2。其它位置的元素同理。

312、比赛：裁判

- A 歌唱：指挥
- B 诉讼：法官

·C 驾驶：司机

·D 考试：监考

解析：裁判是比赛胜负的决策者，法官是诉讼胜负的决策者。因此，本题答案为 B 选项。

纠错：

A 选项指挥是指挥合唱人员合唱的，排除。C 选项司机是驾驶车辆的，排除。D 选项监考人员是在考试中防止学生作弊的，所以排除。

313、生产、销售有毒、有害食品罪是指在生产、销售的商品中掺入有毒、有害的非食品原料的，或者销售明知掺有有毒、有害的非食品原料的食品的行为。

根据上述定义，下列构成生产、销售有毒、有害食品罪的是：

·A 刘某在地下工厂用工业用高纯度酒精加自来水制造大量假酒，并将其销售给商店，获利 8 万多元。

·B 某肉食品加工厂用病死猪肉作原料生产火腿，造成大批消费者食物中毒。

·C 某饮料生产家在生产的可乐中添加了食品添加剂---咖啡因，但并未在包装上予以注明，使大量消费者饮用了含有咖啡因的可乐

·D 某食品厂在所生产的一款彩虹糖中添加食用色素超标，长期食用会给人体健康造成危害

解析：本题考查法律法规类。生产、销售有毒、有害食品罪要掺入或者销售有毒有害的非食品原料。而 A 是掺入工业酒精，是非食品原料，而且危害巨大。故答案选 A。

纠错：

B 病死猪不是非食品原料，而是制造火腿的基础材质。C 是问题在于未标明，而且咖啡因并非有毒有害的材料。D 食用色素并非有毒有害，而是超标会造成危害。生产、销售有毒、有害食品罪是一旦掺入就会危害巨大，而不是超标后危害巨大。

314、（ ）之于岛屿，好像陆地之于（ ）

·A 海洋湖泊

·B 荒凉辽阔

·C 山岗海洋

·D 海洋山岳

解析：本题考查对应关系。岛屿是海洋上的一个特殊部分，即岛屿是海洋上的陆地，湖泊是陆地上的一个特殊部分，即湖泊是陆地上的水域。因此，本题答案为 A 选项。

纠错：

B 选项，荒凉修饰岛屿，即岛屿是荒凉的，二者是属性关系，辽阔修饰陆地，即陆地是辽阔的，但是其位置关系与前者不一致；C 选项中，山岗和岛屿是并列关系中的反对关系，陆地和海洋是并列关系中的矛盾关系；D 选项，海洋和岛屿是并列关系中的反对关系，陆地的一个组成部分是山岳，山岳和陆地是包含关系中的组成关系。

315、典范借鉴：是指从他人(或对方)那里发现、学习并应用最佳做法的过程，以达到帮助改善自身业绩的目的。根据上述定义，下列属于典范借鉴的是（ ）。

·A 小李过去买股票总是亏损，在学习了经济学的基本知识后，炒股赚了一些钱

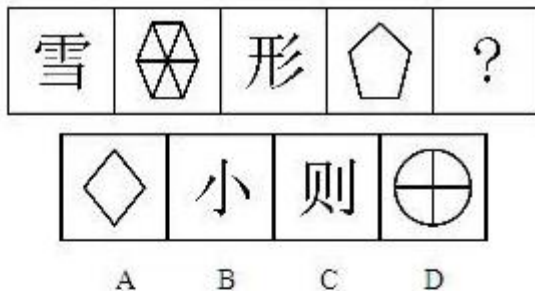
·B 甲市领导吸取了乙市城市建设的经验，提出了令人满意的城市建设规划图

·C 小王看小李种植烟叶收入颇丰，他也开始种植烟叶

·D 小张在小李帮助下，终于通过了英语四级考试

解析：典范借鉴的关键要件有：（1）从他人(或对方)那里发现、学习并应用最佳做法；（2）

目的是帮助改善自身业绩。在 A 选项中，小李自身进行了经济学知识的学习，不符合（1），所以排除。在 B 选项中，甲市领导吸取了乙市城市建设的经验，并且改善了自身的业绩，符合定义要件。在 C 选项中，小王并没有去学习并应用小李的最佳做法，只是模仿了种植烟叶这种行为，不符合（1），所以排除。在 D 选项中，小张是在小李帮助下，终于通过了英语四级考试，而并非主动学习发现、学习并应用小李的最佳做法，不符合（1），所以排除。因此，本题答案为 B 选项。



316、

解析：本题考查数量类中的线段、笔画问题。题干中的 4 个图形的线段数量或者笔画数量依次为：11，9，7，5，呈等差数列规律，所以选一个线段或笔画的数量为 3 的图形。因此，本题答案为 B 选项。

317、分水岭 对于（ ）， 相当于（ ）对于 水稻

- A 山岭 ； 大米
- B 地质 ； 节气
- C 界线 ； 作物
- D 回归线 ； 青稞

解析：本题考查的是并列关系。分水岭是指分隔相邻两个流域的山岭或高地；回归线指的是太阳每年在地球上直射来回移动的分界线，属并列关系；青稞和水稻也都属于农作物的一种，并列关系。所以选 D 选项。

纠错：

A 项分水岭包含山岭，水稻包含大米（大米是稻谷加工而来，而稻谷是水稻的果实，属于它的一部分）关系对应错位，不选； C 项界线包含分水岭，作物包含水稻，关系对应是错位的，不选。

318、居住：居民

- A 乞讨：流浪者
- B 吝啬：守财奴
- C 顺从：独裁者
- D 继承：继承人

解析：本题考查对应关系，居民居住，主谓关系，前一词词性为动词，后一词词性为名词，A 项中继承人继承，主谓关系，词性也相符。

纠错：

B 项中吝啬为形容词，不符。C 项不对应；D 项中的“乞讨”对应“乞丐”。

319、姑息治疗是指对那些治愈性治疗无望或不能接受治愈性治疗的病人采取完全的主动的医疗和护理，控制疼痛及有交症状，并对心理、社会和精神问题予以重视。其目的是为病人和家属赢得最好的生活质量。姑息治疗同样适用于早期肿瘤病人，将姑息治疗与抗肿瘤治疗相结合。

根据上述定义，下列不属于姑息治疗的是：

- A 某患者因病情恶化且年老体衰，无法翻身，身体生了褥疮，口腔也有霉菌感染，护士为其洗澡擦身，并做了口腔清洁
- B 某患者因为癌症晚期，且自身状况差无法进行抗癌治疗，医生认为患者已没有治疗价值，劝患者回家休养
- C 某年轻患者刚结婚便被诊断为乳腺癌，情绪非常激动，拒绝接受治疗
- D 某患者手术后严重疼痛，无法入睡，医生给他安置了止疼泵，并给予一定的镇静药，让患者能好好休息

解析：姑息治疗：（1）治疗无望或不能接受治愈性治疗（2）采取完全主动的医疗和护理（3）控制疼痛及有关症状（4）对心理、社会、精神问题重视。

D 选项主体与“治疗无望或不能接受治愈性治疗的病人”的主体不符。故选 D。

320、选择性接触是指受众在接触大众传播活动之际，并不是不加区别地对待任何媒介和内容，而是更倾向于接触与自己的既有立场、观点、态度一致或者接近的加以接触，或有意无意地回避与自己既有倾向相左的媒介或内容。

根据上述定义，下列属于“选择性接触”的是：

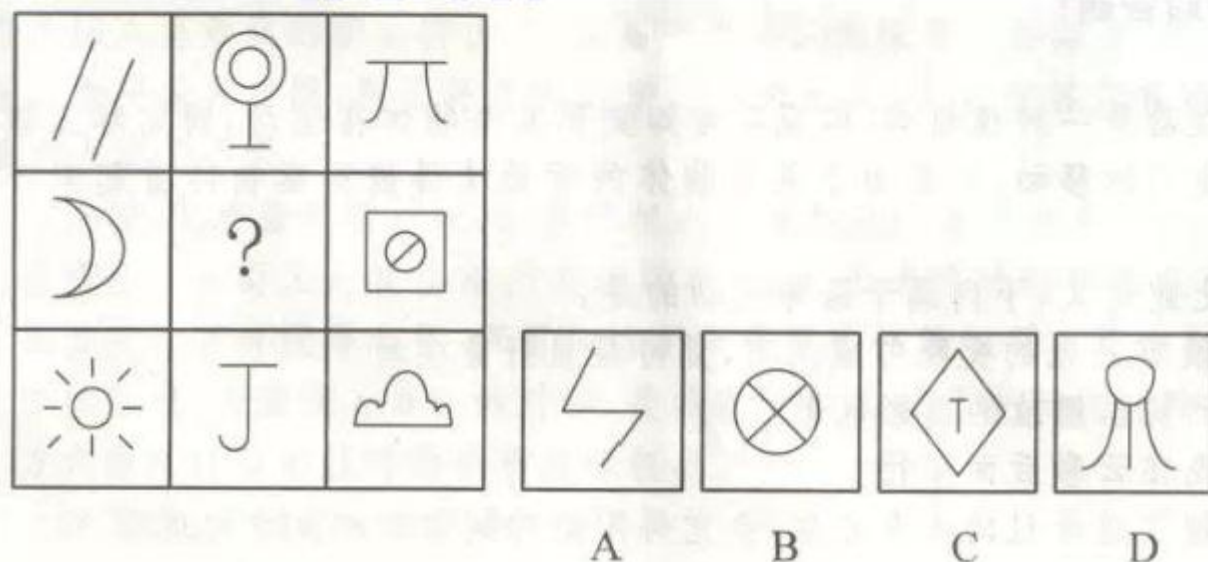
- A 旅行社推出的夕阳红系列游的团体活动受到很多退休老人的欢迎
- B 减肥产品最的人群是那些正在减肥的人，而不是那些打算减肥的人
- C 初中政治老师王某每天回家的第一件事就是收看新闻联播
- D 赵总监推崇人性化管理，经常参加人本主义取向的心理学培训课程

解析：本题考查社会学类。选择性接触是选择那些与自己既有立场一样的媒介和内容。D 项选择说出既有观点是人性化管理。选择也是与这种既有观点一致。故答案选 D。

纠错：

A、B 主体不是受众，而 C 没有体现选择。

321



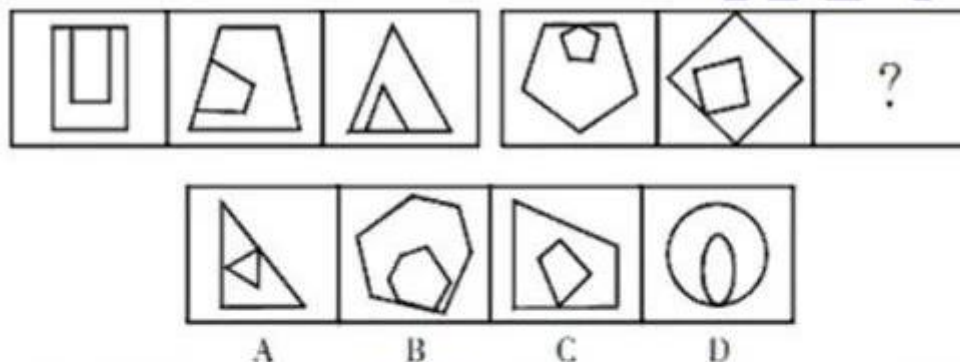
解析：每行图形直线和曲线的交点数为：0、1、2，所以在？处，应该选 1 个交点的，选 D。

322、美国睡眠专家设计了一项测试，让志愿者在睡眠实验室里连续度过 13 个夜晚，前 4 个夜晚，志愿者每晚能睡足 8 小时；接下来 6 天，他们的睡眠时间缩短至每晚 6 小时；最后 3 个晚上，志愿者出现“补觉”现象，每天要睡 10 小时，测试结果显示，持续几天睡眠不足后，

志愿者各反应速度变慢。补觉后，虽然感觉头脑清醒一些，但仍行动迟缓、笨拙。由此可见，连续工作一周、睡眠不足后，用 3 个晚上补觉可以改善困倦的状况，但是不能改善缺觉对认知功能造成的累积影响。以下哪项如果为真，最能支持上述结论？

- A 很多志愿者难以适应睡眠实验室的环境，晚上经常做梦
- B 志愿者平时习惯的睡眠时间不等，平均睡眠时间为每晚 6 小时
- C 实验前对志愿者进行大脑功能扫描，发现大脑结构并无明显异常
- D 补觉后让志愿者进行反应灵敏度测试，多数人的灵敏度明显低于平时

解析：D 项灵敏度明显低于平时，说明补觉后仍行动迟缓、笨拙；是因为灵敏度下降，即认知功能下降，也就是说补觉不能改善缺觉对认知功能的影响，加强了论点，是正确答案。A 项，晚上经常做梦，说明认知功能的下降不一定是由睡眠不足造成的，不是补觉可以改善的，属于他因削弱；B 项平均睡眠时间是每晚 6 小时，说明测试期间，志愿者并没有睡眠不足，所以并非睡眠不足影响了认知功能，所以与是否补觉无关，属于他因削弱，C 项，大脑外部结构无明显异常，与补觉是否能改善认知功能无关，属于无关选项。故正确答案为 D。



322

解析：本题考查位置类旋转问题。两段式题型，在第一段中找到规律：内部图形与外部图形形状相同，并且相交位置（重合边）逆时针旋转，将规律用于第二段中，内部图形与外部图形相交位置（重合点）逆时针旋转。因此，本题答案为 C 选项。

323、恐慌是指面临迫近的危险时人们为获得安全而进行的逃逸。恐慌通常出现在这样的情况下：虽然有逃离的路径，但数量有限或是即将消失，因此看起来只有一些、而不是所有的人能够逃离。

根据上述定义，下列不属于恐慌的是：

- A 剧院演出正进入高潮时，突然发生火灾，人们不顾一切地冲向出口以致相互踩踏
- B 当股票持有人目睹股票的资产价值在不断减少时，担心股票价格跌破发行价导致损失，便立即抛售股票
- C 当一篇描述外星人袭击某市的小说在该市被当作真实新闻播出后，该市的许多人迅速驾车逃离，而另一些人则把自己锁在家里，听天由命
- D 小王经历了地震，目睹过地震造成的种种惨烈现象，因而每当周围稍有响动，他都会迅速跑出房屋，寻找安全地带

解析：此定义的要件为“面临迫切的危险”，而 D 选项中“稍有响动”小王就逃离，并不是面临迫切的危险，所以 D 选项不属于恐慌，答案选择 D 选项。

纠错：

- A 项中“突然发生火灾”属于面临迫切危险。
- B 项中“股票的资产价值减少”也符合要件。
- C 项中“外星人袭击被当做真实新闻播出”也符合定义要件。

324、某公司计划招聘一批员工，最不可能被录用的是学历在初中以下，或者是没有工作经历的人，在有可能被录用的人中，品德高尚的会被优先录用。

以下最有可能被该公司录用的是（ ）

- A 老李，小学文化水平，从未放松过学习，常参加各种培训班，收获较大
- B 小张，大学应届毕业生，学习成绩优秀，品德高尚
- C 孙先生，40 岁，高中文化水平，具有 8 年工作经验
- D 赵女士，小学文化水平，为人随和，品德高尚

解析：最不可能被录用的要求是 学历初中以下或者没有工作经历，这两情况只要有一项满足，就不可能被录取。A 项，老李小学文化水平，满足不可能被录取的学历初中以下要求，所以不可能被录取。B 项，小张应届毕业，但是没有工作经历，满足不可能被录取的没有工作经历的要求，所以，小张不可能被录取。C 项，孙先生高中文化水平，有工作经历，两项不可能被录取的要求都不满足，所以孙先生最有可能被录取。D 项，赵女士，小学文化水平，满足不能被录取的初中以下文化水平，所以不能被录取。所以，本题选 C。



325、

A. G B. S C. B D. Y

解析：本题考察的是字母的开口方向。图形的规律是左边三幅图太写字母的开口数为 1、2、3；右边三幅图也依次规律，答案为 D。

326、全国政协常委、著名社会学家、法律专家徐静村教授认为：我们应当制定全国性的政策，用立法的方式规定父母每日与未成年子女共处的时间下限。这样的法律能够减少子女平日的压力。以下哪项是人们能够得到的启示？（ ）

- A 父母有责任关心自己的孩子
- B 孩子平常应该多与父母经常地在一起
- C 这项政策的目的是消除孩子们在平日生活中的压力
- D 父母现在对孩子多一分关心，就会减少日后父母很多的操心

解析：本题属于归纳推理题。题干主题是在说，用立法的方式规定父母每日与未成年子女共处的时间下限，能够减少子女平日的压力。这给我们的启示更多的是父母应该怎样关心未成年孩子，关注未成年孩子方面。根据话题一致原则，主体应是父母，因此优先排除 BC 项。而 D 选项属于过度推断。所以选择 A 选项。

327、感觉是事物直接作用于感觉器官时，对事物个别属性的反映，包括视觉、听觉、触觉、嗅觉和味觉。感觉对比是指同一感受器在不同刺激作用下，感受性在强度和性质上发生变化的现象。

根据上述定义，以下属于感觉对比的是（ ）。

- A 感冒的人比健康的人更怕冷
- B 打针时肌肉注射比静脉注射更疼
- C 饥饿的时候看到吃的觉得更饿
- D 吃苦药后觉得吃糖特别甜

解析：定义的关键点在于（1）感觉是对事物个别属性而不是综合属性的反应，感觉对比亦是个别属性之间的对比；（2）对比是不同刺激间的对比；（3）不同刺激作用于同一感受

器；（4）由于对比，对同一刺激的反映不同。A 选项中是对同一种刺激的反映，故排除。B 选项中作用的感受器不同，故排除。C 选项中饿不属于感觉，故排除。因此，本题的正确答案为 D 选项。

328、维果斯基的“最近发展区理论”，认为学生的发展有两种水平：一种是学生的现有水平，指独立活动时所能达到的解决问题的水平；另一种是学生可能的发展水平，也就是通过教学所获得的潜力。两者之间的差异就是最近发展区。

根据上述定义，以下能够体现最近发展区的是（ ）。

- A 三岁的丽丽在妈妈的指导下，逐渐学会了自己穿衣服
- B 小艺的妈妈希望小艺将来能成为一名优秀的科学家
- C 七岁的小燕实际身高和七岁女孩平均身高之间的差距
- D 五岁的小明已经能够背诵 100 首古诗


解析：定义的关键点在于最近发展区是已有水平和通过教学能获得的水平之间的差异。A 选项体现的是“从不能独立穿衣服到自己穿衣服”之间的变化，属于最近发展区。B 选项是可能的发展水平，D 选项是已有水平，都没体现已有水平和可能达到水平之间的差异，故排除。

C 选项之间的差距不是通过教学能够达到的，故排除。因此，本题的正确答案为 A 选项。

329、智育一般指向学生传授科学知识，训练技能，发展能力的教育。智育主要是指包括各门学科的知识教育，各种智力因素和非智力因素的统一发展，各种智力培养的教育活动。在实施全面发展教育过程中，智育可以为其他各育提供一个科学文化知识基础和智力基础，可以促进其他各育的发展。下列不属于智育的是（ ）。

- A 英国思想家 F.培根、捷克教育家 J.A.夸美纽斯提出传授百科全书式的科学知识的泛智教育，主张把一切知识教授给一切人。
- B 中国早在西周时期已有六艺之教；其后，自汉武帝“独尊儒术”到宋代程朱理学兴起。
- C 在西方，古希腊雅典的教育中，以语法、修辞、逻辑（或辩证法）以及算术、天文、几何、音乐等作为学校的教学内容。
- D 学校老师对学生进行德、体、美、劳教育。

解析：A 选项中提出传授百科全书式的科学知识的泛智教育，属于智育；B 选项中六艺之教、汉武帝“独尊儒术”、朱理学都属于智育教育；C 选项中古希腊的学校教学内容也属于智育；D 选项中分别属于德育、体育、美育、劳育，与智育属于平行关系。它们都属于教学内容，教学既要完成智育的任务，也要完成德、体、美、劳诸育的任务，而智育则主要是指包括各门学科的知识教育。



330

- A 乃
- B 姚
- C 风
- D 气

解析：汉字的考点主要有求同、求异、笔画、面的个数。通过观察得知本题考察的是样式中的部门求同，每个汉字都有弯钩。故正确答案是 B。

331、功败垂成：功亏一篑

- A 念念不忘：朝思暮想
- B 朝三暮四：见异思迁
- C 请君入瓮：瓮中捉鳖
- D 精神矍铄：青春焕发

解析：考察的是近义词的关系。A 选项念念不忘和朝思暮想形容非常想念或经常想着某一件事，为近义词，正确选项；B 选项中朝三暮四原比喻聪明的人善于使用手段，愚笨的人不善于辨别事情，后来比喻反复无常；见异思迁看见另一个事物就想改变原来的主意。指意志不坚定，喜爱不专一。两个成语意思不同，故排除；C 选项中请君入瓮喻指以其人之法，还治其人之身。瓮中捉鳖比喻想要捕捉的对象已在掌握之中，形容手到擒来，轻易而有把握。两个成语意思不同，故排除；D 中精神矍铄形容老年人，青春焕发一般形容年轻人。

332、货币：价值与（ ）在内在逻辑关系上最为相似。

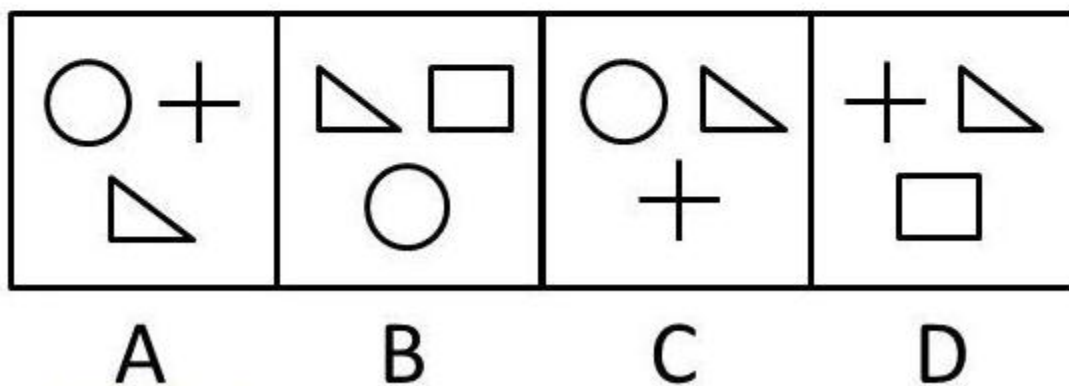

- A 法律：约束
- B 刀具：谋杀
- C 书本：印刷
- D 观点：立场

解析：首先从题干中两个概念的内涵来看，价值是凝聚在商品中的无差别的人类劳动；货币是在进行商品交换时使用的一般等价物。实际上货币即衡量商品价值的尺度。因此货币与价值之间可以用一个动词来连接，构成主宾关系，即货币表明价值。我们把这个动词代入各个选项，发现只有“观点表明立场”可以成立。因此，本题答案为 D 选项。

纠错：

本题的关键在于通过题干两个概念的内涵，迅速找到两个词之间的语法关系。A 选项，法律与约束只能构成主谓关系，排除；B 选项一个是名词，一个是动词，刀具只能作为谋杀的工具，并不能构成主宾关系，排除；C 选项同样一个是名词，一个是动词，书本只能作为印刷的宾语，无法构成主宾关系，也排除。

333

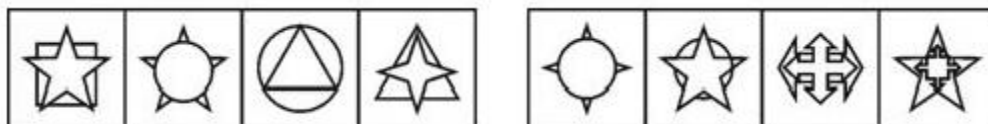


解析：本题考查元素遍历。以每行或每列为单位，对应行列中，三组图中任意两组都存在两个相同的图形。也即未知图形应包含本组其他两组图中不同的部分，观察图形可知应包含矩形和圆，只有 B 符合条件。因此，本帖选 B。

334、围湖造田：饮鸩止渴

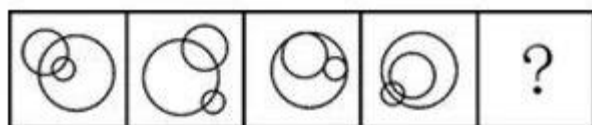
- A 卧薪尝胆：学以致用
- B 忍辱偷生：削足适履
- C 兢兢业业：刻苦奋进
- D 山穷水尽：柳暗花明

解析：本题是一道关于成语的考查题型，成语题型的解题思路多是考虑近义成语和反义成语，围湖造田和饮鸩止渴是同义词，都是指不考虑后果而行事。C 项中为近义词，所以本题答案 C 选项。



335

解析：前四个图依次是五角星叠放在正方形之上，圆形叠放在五角星之上，三角形叠放在圆形之上，四角星叠放在三角形之上，以此类推，第五个图应该是某个图形叠放在四角星之上，故选 A。



336

解析：方法一：通过对题干四个图形的观察可知，这些图形都存在一些明显的数量变化，所以此题一定是数量类的考题。依据“什么明显先数什么”的规则，此题存在明显的封闭空间，即面。从面的数量来看，从左到右依次是 5，5，4，5，那么问号处接下来应该是 5，符合答案的只有 A 选项。所以本题答案 A 选项。

方法二：本题题干中每个图形里的几个圆都有交点，那么我们也可以从交点的数量入手解题。从交点数量来看，4，4，3，4，问号处应该填入的交点数是 4，对答案进行分析可知：符合答案的只有 A 选项。所以答案 A 选项。

337、近年来的许多研究证实睡眠有利于学习和记忆。不仅是学习后的睡眠具有记忆巩固功能，而且学习前的睡眠对于随后的学习也是必须的。长时间觉醒学习后，脑内突触链接增多、增强，导致突触间隙饱和，阻碍随后继续学习。睡眠的作用是减弱突触连接到基础水平，为随后的学习记忆提供充足的空间和能量。以下哪项如果为真，最能支持研究人员的观点：

- A 睡眠时大脑内的突触突然停止工作
- B 突触的链接活动需要占用空间和能量
- C 学习和记忆必须要在觉醒状态下进行
- D 睡眠时人体内寄出代谢废物将会减慢

解析：题干中论点是睡眠有利于学习和记忆，论据是学习和记忆导致突触增多，而睡眠可以减弱突触连接到基础水平，因此必须保证论据中的突触和论点中的睡眠建立联系，即睡眠可以使突触减少，保证前提成立，因此答案选 A。

338、峰回路转：山穷水尽

- A 安居乐业：四海为家
- B 比比皆是：一成不变
- C 沉默寡言：豪言壮语
- D 囫囵吞枣：融会贯通

解析：峰回路转与山穷水尽是反义词关系，D 项的囫囵吞枣与融会贯通也是反义词关系。

纠错：

A 项中安居乐业的反义词应当是颠沛流离，或流离失所，而不是四海为家，四海为家形容的是志在四方，而不是没有住所。

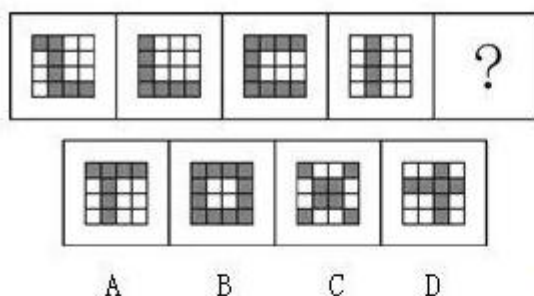
339、骆驼：沙漠

- A 企鹅：南极
- B 鲸鱼：海洋
- C 熊猫：中国
- D 鸟类：蓝天

解析：骆驼生存的环境是沙漠，鲸鱼生存的环境是海洋，因此本题选 B 选项。

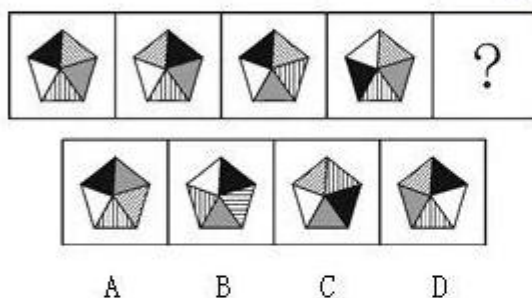
纠错：

A 企鹅生存的地理位置是南极，C 熊猫生存的地理位置是中国。D 鸟类是一个抽象概念，骆驼和鲸鱼是具体概念。



340


解析：通过观察，题干中的黑色方格都是首尾相连，所以结合选项，答案为 B 项符合



341

解析：每幅图都与第一幅图有相同的图案，并且均有三个部分的位置与第一个图形相同，其他剩余的两个部分位置互换。只有 A 项符合。

342



解析：此题考查的黑色区域的平移，题干中第一组图形的每一列中，第一列和第四列向下移动一格，第二列向上移动一格，第三列不变。第二组的图形也分为四列，不考虑图形形状，只考虑黑色区域的移动，第一列和第二列向上移动一格，第三列和第四列不变，正确答案为C。

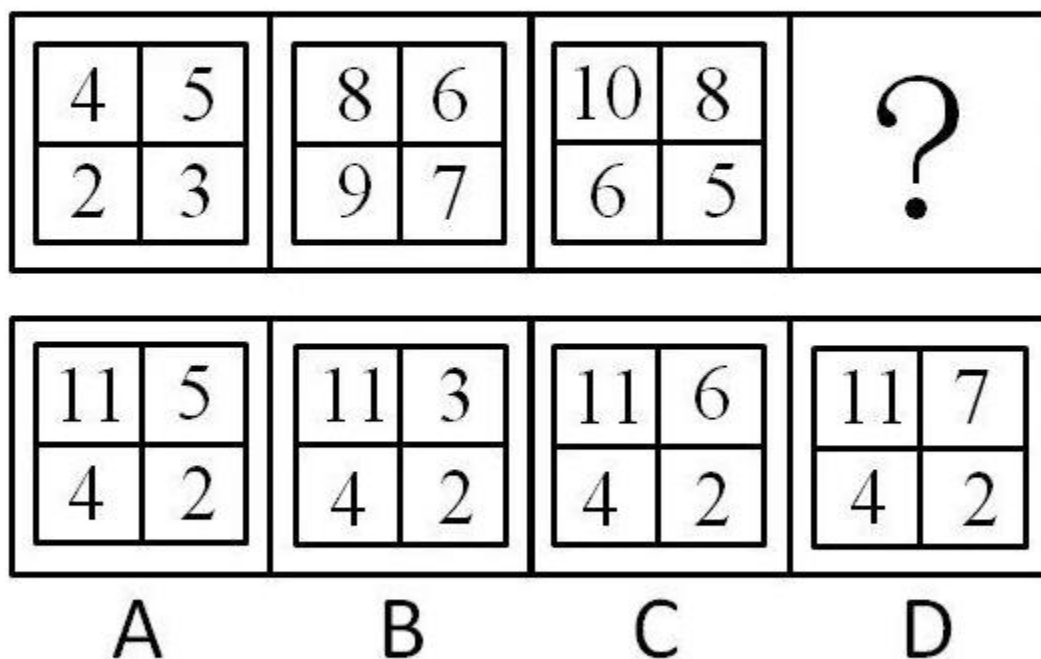
343、一家人共有兄弟姐妹七人，但只知道甲、乙、丙、丁、戊、己、庚七个人中如下情况：
（1）甲有三个妹妹；（2）乙有一个哥哥；（3）戊有两个姐姐；（4）丁有两个弟弟；（5）丙，她有两个妹妹；（6）己也是女的，但她和庚没有妹妹。

请问，这七个人中谁是男性？

- A 乙、丁、戊、庚为男性·
- B 甲、乙、丙、庚为男性
- C 甲、乙、戊、丙为男性
- D 甲、乙、戊、庚为男性

解析：丙是“她”所以丙是女的，因为有4个男的所以甲不是女的。

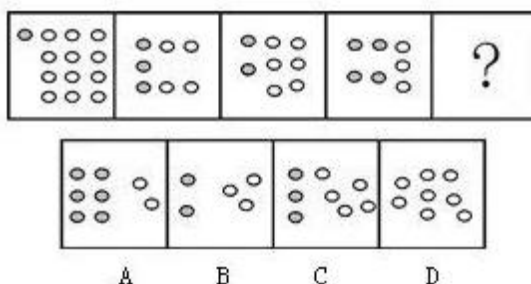
344、



解析：前三组图形的规律分别是： $3 \times 4 - 2 \times 5 = 2$ ； $8 \times 7 - 6 \times 9 = 2$ ； $10 \times 5 - 8 \times 6 = 2$ ；A 选项： $11 \times 2 - 5 \times 4 = 2$ ，所以 A 选项正确。

纠错：

B 错在 $4 \times 6 - 11 \times 2 = 2$ 相乘位置与题干不一样。



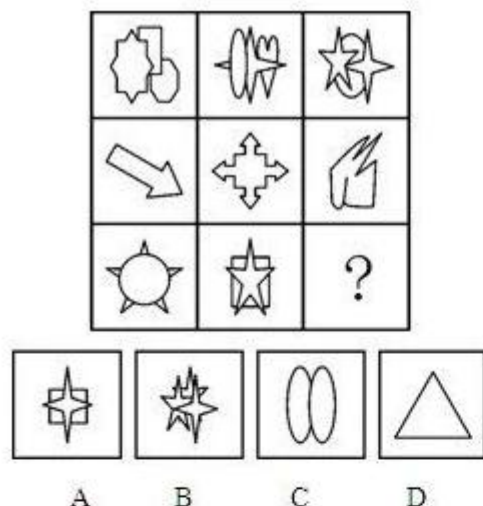
345

A B C D

解析：每个图形中的黑圈和白圈数量分列如下：[1,12]，[3,4]，[2,6]，[4,3]，可以看出每组的元素数量乘积都是 12，故选 A 项。

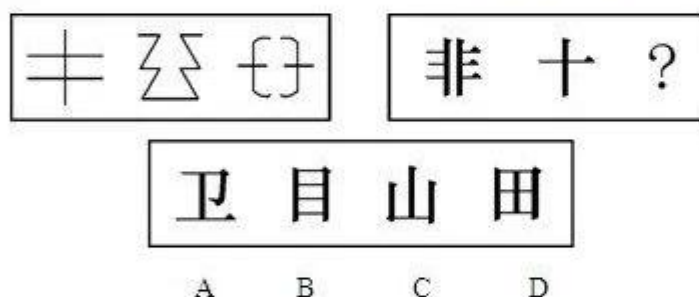
拓展：

每个图形中只包含两种元素，并且数量差异较大，可以预判为数量规律。



346

解析：本题考查数量类中的元素种类和元素的个数。第一行中的每个图形都包含三种元素，且每个图形的元素个数都为 3。第二行中的每个图形都包含一种元素，且每个图形的元素个数都为 1，第三行中的每个图形都包含两种元素，且每个图形的元素个数都为 2。故选 A。



347、

解析：本题考查样式类的封闭性和对称性。左边三个图形都是竖轴对称的开放图形。选项中 A 不左右对称，B 和 D 项是封闭图形，只有 C 项符合。故选 C。

348

在以下 5×5 矩阵中，每个小方格中可填入一个汉字，要求每行每列均含有金、木、水、火、土 5 个汉字，不能重复也不能遗漏。根据已经给定的条件，矩阵中①所在方格中应填入的汉字是

+	水	①	金	
	木			
		木		
		土		

解析：根据第一行和第三列的分布，可知第一行中间的位置不能是水、金、木、土，故只能是火，故?只能是木或土，而已知第四列已经有木了，所以?只能是土。

349、缺陷补偿是指个体在充当社会角色时不可能事事成功，当自我角色目标失败时，常常可能会对相关的社会角色的重要性做重新评价，从而进行自我定义以补偿自己的角色缺陷。根据上述定义，下列属于缺陷补偿的是（ ）。


- A 小王认为评上优秀员工是晋升的关键，因此当评选失利后决定在下一次的评选中再接再厉
- B 小张有份很不错的的工作，他参加公务员考试是抱着试试看的态度，所以当他得知自己没有通过考试时并未觉得太遗憾
- C 黄某大学毕业后求职不顺利，他觉得这是由于自己不是名牌大学毕业生，否则就业会容易的多
- D 袁女士离婚后全身心投入工作，取得了很大成绩，她认为事业成功比婚姻幸福更重要

解析：分析定义可知，要归类于“缺陷补偿”，必须符合以下条件：（1）当自我角色目标失败时，（2）对相关的社会角色的重要性做重新评价。A、B、C 三项，在“自我角色目标失败时”，都没有“对相关的社会角色的重要性做重新评价”，不符合定义的要求，排除。只有 D 项所说的“袁女士离婚后”（自我角色目标失败），“认为事业成功比婚姻幸福更为重要”（对相关的社会角色的重要性做重新评价），符合“缺陷补偿”的定义要求。因此，本题答案为 D 选项。

350、T 型管理是指在一个组织内部自由地分享知识（T 的水平部分），同时注重单个业务单元业绩（T 的垂直部分）的提升。T 型管理通过跨业务单元学习，共享资源，沟通思想，来创造横向价值（T 的水平部分），同时通过各业务单元的密切合作，使单个业务单元的业绩（T 的垂直部分）得到良好发展。根据上述定义，下列各项中没有运用 T 型管理方法或运用错误的是（ ）。

- A 某电视机生产企业经常将企业管理者派出学习先进的管理经验，管理者的管理水平得到很大提高，直接促进了企业经济效益的提高
- B 张某是某大型连锁超市的分店经理，他虚心向其他分店学习进货和存货布置等方面的经验，使得他所管理的分店存货减少 20%，销量增加了 10%
- C 王某新任某粮食生产企业部门主管时，由于他对粮食保管方面的业务所知甚少，所以他特意从其他部门借调来几名同事帮助他制定出完善的粮食保管方面的规章制度
- D 某企业经常召集销售人员开经验交流会，在交流会上，大家纷纷介绍自己成功的销售经验和方法。每次交流会后，所有人的销售业绩都会得到提升

解析：T 型管理的定义要件：1、创造横向价值；2、跨业务单元学习，共享资源，沟通思想；3、各业务单元的密切合作；4、单个业务单元业绩的提升。A 项不在组织内部，因此选 A；B 项张某通过向其他分店学习，本身的能力得到提高，同时使得他所管理的分店销量增加，符合定义；C 项王某从其他部门借调同事来帮忙，能够制定出完善的规章制度，符合定义；D 项销售人员通过共享资源，所有人的销售业绩都会得到提升，符合定义。因此答案为 A。



351、

解析：本题考查数量类中素的问题。每格图形内部图形种类均 2 种，个数很明显不同，首先考虑元素个数。横行看第一行四角形个数 2,4,6 五角星个数 5,4,3；第二行三角形个数 3,5,7 四边形个数 4,3,2；第三行心形个数 3,2, ? 下个应该为 1，圆形个数 1,3, ? 应该为 5；因此，本题答案为 D 选项。

352、 虚拟人力资源管理是指以合作关系为基础，充分利用现代信息网络技术，帮助企业获取、发展和筹划智力和劳力资本的一种人力资源管理办法，它可以满足企业管理虚拟化发展的要求，将大量的人力资源管理活动外部化或由员工实现自主管理，企业从而可以将主要精力放在核心人力资源管理方面，提高人力资源管理效率。根据上述定义，下列选项不属于虚拟人力资源管理的是：（）

- A 某企业通过猎头公司物色到一位产品研发专家
- B 某集团将其全部广告交由同一家广告公司设计
- C 小李和同事都被公司派到某职业学校培训半年
- D 某公司委托劳动派遣公司负责分发员工的薪酬

解析： 虚拟人力资源管理的要件是：(1)合作关系为基础；(2)利用现代信息网络技术；(3)帮助企业获取、发展筹划智力和劳力资本；(4)人力资源管理办法。

- A 项某企业和猎头公司是合作关系，猎头公司的工作方式，一般利用现代网络技术，物色到产品研发专家，是帮助企业获取劳力资本的人力资源管理办法，因此符合定义。
 - B 项广告交与广告公司设计，不是人力资源的管理，因此不符合虚拟人力资源管理的定义。
 - C 项公司和某职业学校之间是合作关系，帮助企业发展智力资本，因此是符合定义的。
 - D 项某公司和劳动派遣公司是合作关系，发放薪酬是人力资源管理的部分，因此符合定义。
- 因此，本题答案为 B 选项。

353、古诗：李白

- A 国家：楼兰
- B 民间艺术：手工陶艺
- C 运动：拳击
- D 民族冲突：加沙地带

解析：提到古诗立刻想到李白，提到李白马上想到古诗；说到民族冲突，一定会想到加沙地带，说到加沙地带立刻想到民族冲突，对应关系选 D。

纠错:

A 项楼兰属于国家，种属关系，排除；B 项手工陶艺属于民间艺术，种属关系，排除；拳击属于运动项目，种属关系，排除 C。

354、共产党员：模范

- A 矛盾：统一
- B 文凭：智商
- C 企业家：MBA
- D 新陈代谢：生命

解析：共产党员可以是模范，模范也可以是共产党员；企业家可以是 MBA，MBA 也可以是企业家。因此，本题答案为 C 选项。

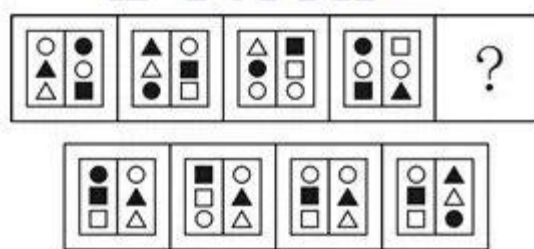
纠错:

A 项矛盾和统一是反义词，所以排除；B 项文凭和智商没有直接的关系，所以排除；D 项新陈代谢是生命方式，所以排除。

355、聚合思维是指从已知信息中产生逻辑结论，从现成资料中寻求正确答案的一种有方向、有条理的思维方式，是从不同来源、不同材料、不同层次探求出一个正确答案的思维方法。因此，聚合思维对于从众多可能性的结果中迅速做出判断，得出结论是最重要的。依据上述定义，下列行为中属于聚合思维的是：（ ）

- A 人类失去联想，世界将会怎样？
- B 浮想联翩，夜不能寐
- C 甲>丙，甲<乙，乙>丙，乙<丁，其结果必然是丙<丁
- D 巴金的《灯》由“眼前的灯”到“回忆的灯”再到“联想的灯”，最后归结为“灯光不会灭的”

解析：聚合思维是指从现成资料中寻求正确答案的一种有方向、有条理的思维方式，是从不同来源、不同材料、不同层次探求出一个正确答案的思维方法。C 项从现成的资料中得出了正确答案，符合定义，属于聚合思维。A、B 项描述的内容最终都没有得到正确的答案，不符合定义。D 项所述巴金的《灯》由“眼前的灯”到“回忆的灯”再到“联想的灯”，最后归结为“灯光不会灭的”是一个联想的过程，不属于聚合思维，是发散思维。故本题选择 C 项。

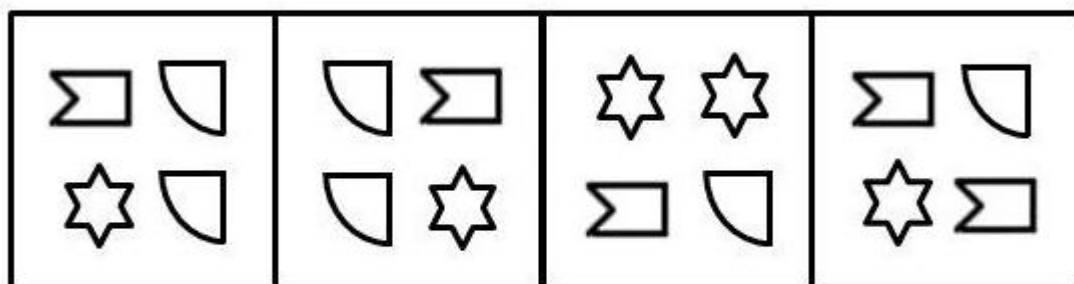



356

A B C D

解析：本题属于位置类。这是道一段式的题，一段式我们可以考虑观察相邻图形，可发现第一个图形中的第二行和第三行图形在第二个图形中移动到第一行和第二行，依次类推，后一个图形第一行第二行图形都是前一个图形第二行第三行图形移动过来的，故本题选 C。

357、



A

B

C

D

解析：本题考察元素个数及位置，九宫格图形横行观察可知，每一行都包含三种元素，并且每种元素个数加起来都是四个，故排除 CD。仔细观察后发现，第一、二行中同一个元素图形在一个格子中的四个部位，既左上角、右上角、左下角、右下角都要遍历一次，所以我们看第三行图中两个扇形分别出现在左下角和左上角，因此，剩下的两个扇形应该都在右边，所以答案选择 A。

358



- A ①②④, ③⑤⑥
- B ①⑤⑥, ②③④
- C ①③④, ②⑤⑥
- D ①④⑤, ②③⑥

解析：①②④图形均为轴对称图形，③⑤⑥均为非轴对称图形。因此，本题选 A。

359、铝既能溶于酸，又能溶于碱，它是人体维持正常运转所需的微量元素。据实验表明，红烧肉在铝锅里存放一夜，铝在肉中的含量每公斤可高达 120 毫克至 250 毫克。但人体吸收铝元素后很难再从体内排出，容易造成早衰和老年痴呆症。

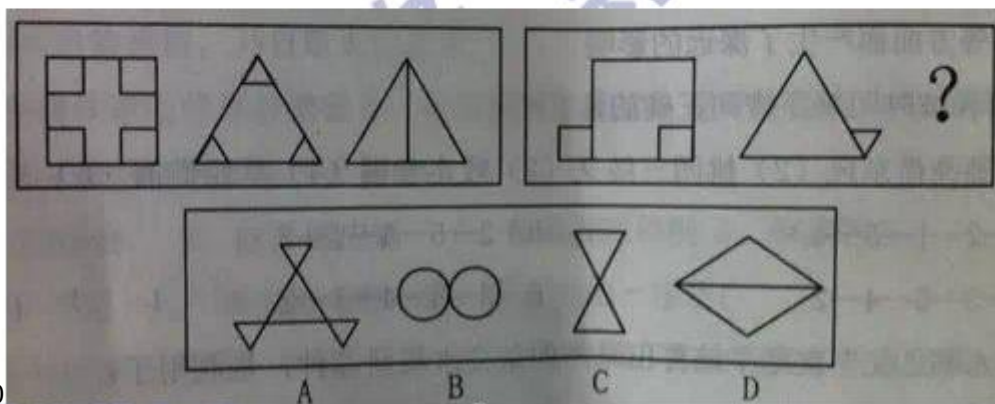
由此我们可以得出

- A 铝是人体的必需元素
- B 老年痴呆症是由于过量摄入铝造成的
- C 红烧肉不能隔夜吃
- D 铝在人体内的含量很容易超标

解析：根据题意，由“铝既能溶于酸，又能溶于碱，它是人体维持正常运转所需的微量元素”，可知铝是人体的必需元素，A 选项由题意可以得出。本题答案为 A。

纠错：

B 项无法得出，题干中说的是“人体吸收铝元素很难再从体内排出，容易造成早衰和老年痴呆症”，不代表所有的老年痴呆症都是由于过量摄入铝造成的，；C 项不能推出，红烧肉在铝锅里放一夜可能会对人体造成伤害，但若使用其他对人体没有伤害的容器存放，则可以过夜吃。D 项“铝在人体内含量容易超标”不能由题干所给信息得出。



360

解析：本题为两组式，第一组图中，图形以边相连，第二组图中前两个图也为以边相连，故所选图形应为以边相连。因此答案为 D。

361、登门槛效应又称得寸进尺效应，是指一个人一旦接受了他人的一个微不足道的要求，为了避免认知上的不协调，或想给他人以前后一致的印象，就有可能接受更大的要求。这种现象，犹如登门槛时要一级台阶一级台阶地登，这样能更容易更顺利地登上高处。

更具上述定义，下列各项不属于登门槛效应的是：

- A 一项调查显示，某城市居民愿意为贫困地区失学儿童捐款的比例是 30%，而如果先请人们在帮助贫困地区失学儿童倡议书上签名，再请他们捐款，愿意捐款的人数增加了 25%
- B 对学习有困难的学生，李老师总是先提出一些比过去稍有进步的小要求，当学生达到这个要求后，在通过鼓励逐步向其提出更高的要求，使学生更容易接受并力求达到目标

·C 某企业成功研制了一种祛除烟渍的洁白牙膏，由于其去除烟渍效果较好而获得了市场好评，该企业趁热打铁，又推出几款不同口感的洁白牙膏，尽管只是将前一种产品稍加改良而成，但仍然成为畅销产品

·D 有个小和尚跟师傅学武艺，可师傅却什么也不教他，只是给他一群小猪让他放养。庙前有一条小河，每天早上小和尚要抱着一头头小猪跳过河，傍晚再抱回来。小猪一天天长大，小和尚的臂力也在不断地增长，不知不觉中练就了卓越的臂力和轻功。

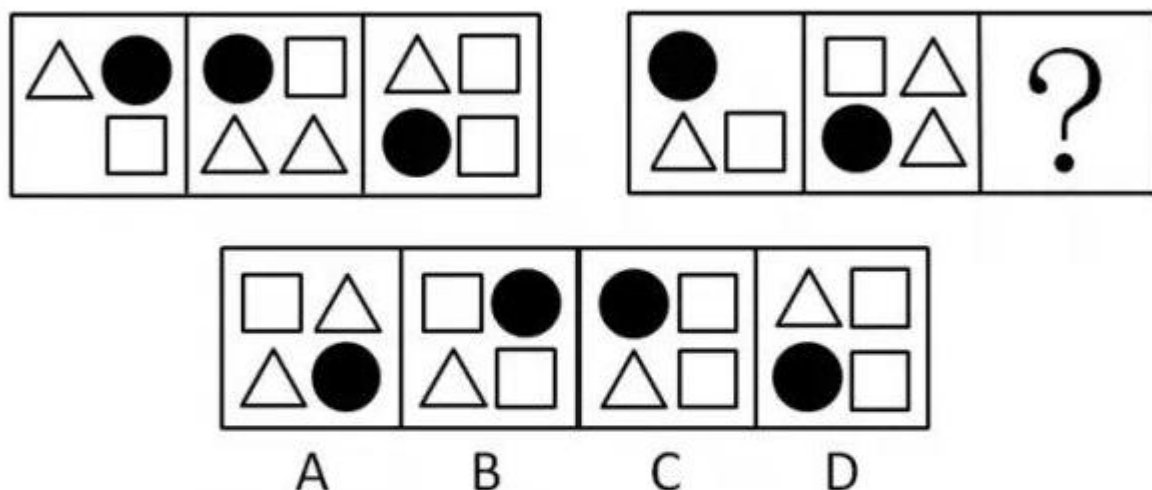
解析：“登门槛效应”的关键点在于“接受别人微不足道的要求，就有可能接受更大的要求”。

同时，还要看到本题的要求是要找出不符合定义的一项。C 选项，消费者并没有针对企业提出要求，而是企业为了提高销量而做出的主动行为，不符合定义。因此，本题答案为 C 选项。

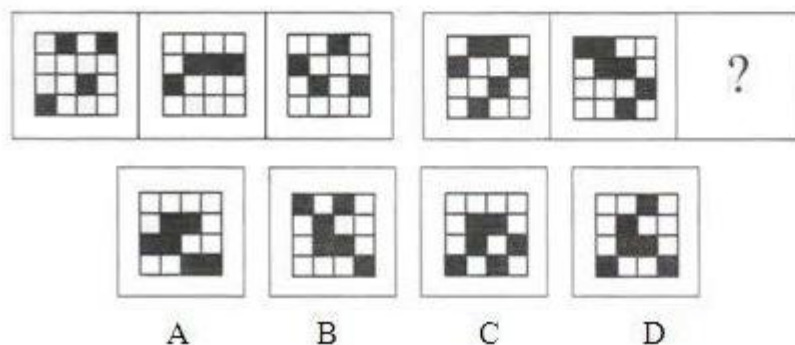
纠错：

A 选项，先签名再捐款，捐款人数增加，符合定义，所以排除；B 选项，老师先提出小要求，接着提出了更高的要求，符合定义，所以排除；D 选项，随着小猪体重的增加，小和尚的臂力和轻功都提高了，这正是老和尚的用意，也是老和尚的要求，小和尚每天坚持抱小猪过河也就是接受了老和尚的要求，所以排除。

362



解析：本题属于样式运算中的一个特殊考点—黑白叠加。根据左半段图像可知，三角形+实心圆形=三角形；实心圆形+正方形=正方形；空+三角形=实心圆形；正方形+三角形=正方形。把这个规律运用到右半段可知只有 B 符合。因此，本题答案为 B 选项。



363

解析：本题考查动态位置的平移规律，第 1 组图形中，第 1 列，第 3 列黑块每次向上移动 1


格，触顶后返到底部。第 2 列，第 4 列黑块每次向下移动 1 格。第 2 组图形中，第 1 列图形每次向上移动 1 格，触顶后返到底部，第 2 列，第 3 列，第 4 列每次都向下移动 1 格。因此，本题答案为 D 选项。

364、生物燃料泛指由生物质组成萃取的固体、液体或气体燃料。生物质是指利用大气、水、土地等通过光合作用而产生的各种有机体，即一切有生命的可以生长的有机物质。它包括植物、动物和微生物。

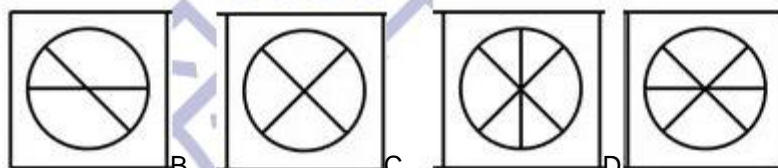
根据上述定义，下列不属于生物燃料的是：

- A 玉米加工之后变成的车用乙醇
- B 由转基因大肠杆菌生成的燃料
- C 农作物厌氧发酵生成的沼气
- D 能够提炼生物柴油的大豆

解析：本题的关键词为燃料。A 项玉米转化的乙醇属于燃料。B 项大肠杆菌属于微生物转发成的燃料。C 项属于农作物产生的燃料。D 项主语为大豆，能够转化，但是还未转化，这时大豆仍属于生物质。故本题答案为 D 项。

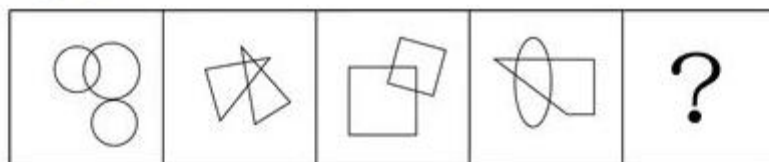


365、

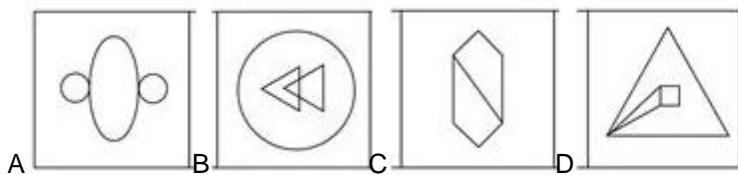


A、 B、 C、 D

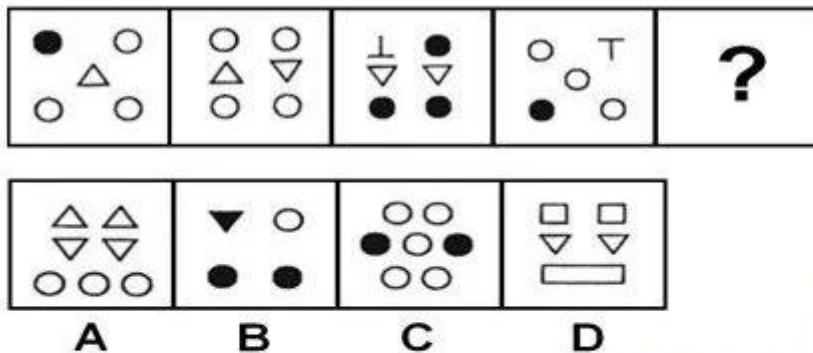
解析：本题是样式中的遍历规律。每列图形的外框均有三角形、圆形、方形三种，内部线条均有“—”、“|”、“X”、“/”四个线条，问号处只缺少“X”、“/”两条线。因此，本题选 B。



366、



解析：都是由 2 个或多个不同的图形组成，观察它们之间的关系。已知图形都有两个元素相交的面，选项中符合的只有 B 项。因此，本题选 B。



367

解析： 本题考查数量类中素的种类。题干给出图形中每个图形都包含了三种元素。观察选项可以排除 C 选项。题干所给图形中每幅图都比前几幅图增加一个元素，依此规律应该选 B。B 选项中出现了新的元素黑色三角形，且只包含了三种元素。

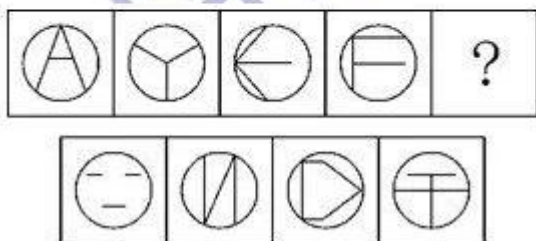
368、发动机：飞机：旅客

- A 琴键：钢琴：音乐
- B 电池：手电筒：灯光
- C 发条：钟表：时间
- D 杆秤：秤杆：重量

解析：发动机是飞机的动力来源，飞机是运送旅客的工具，因此，本题答案为 C 选项。

纠错：

琴键不是钢琴的动力来源，故错；电池是手电筒的动力，但是手电筒和灯光无必然联系，对应关系不对；杆秤不是秤杆的动力，故错。



369

A B C D

解析： 本题考查数量类，题干每幅图形中圆内部的直线的数量都为 3，且与外部圆形的交点数都为 3。因此，本题答案为 D 选项。

370、某大学寝室有 8 个人，三个是广东人，一个是北京人，有两个是北方人，一个保送生，三个是贫困生。假设上述介绍涉及该寝室是所有同学，则下列关于该寝室同学的判断与题干有矛盾的是：

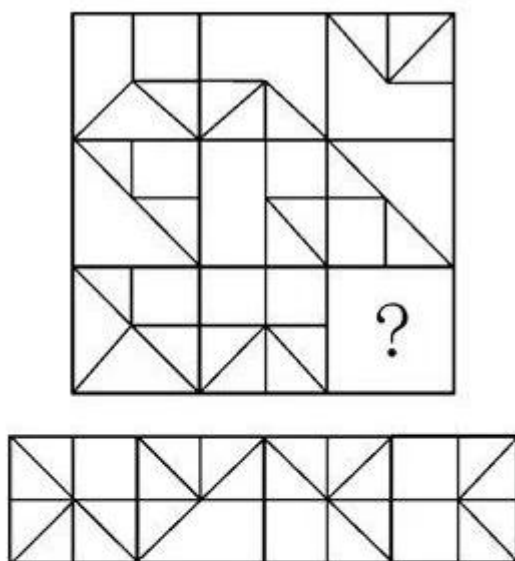
- A 保送的学生来自北方

- B 北京人既不是保送生也不是贫困生
- C 有两个贫困生是广东人
- D 没有一个来自黑龙江的学生

解析：题干中北京人肯定是北方人，故广东人加上北方人一共 5 人，该寝室一共 8 人，而如 C 选项所说，如果两个贫困生是广东人，则还剩一个贫困生和一个保送生，此时最多有 7 人，与题干矛盾，因此，本题答案为 C 选项。

纠错：

A 选项，若保送学生归属与北方的范畴，则最终人员为三个广东人，两个北方人和三个贫困生，共 8 人，因此 A 与题干不矛盾；B 选项也满足最后 8 人的条件，与题干不矛盾；D 选项也可以满足最后 8 人的条件，与题干不矛盾。



371 A B C D

解析：本题考查样式类运算的叠加问题。题干中九宫格第一、二列中，上面一个图形与下面一个图形叠加得到第三个。因此，本题答案为 C 选项。

372、泥：環

- A 嫁：休
- B 众：沸
- C 弦：枝
- D 武：踪

解析：此题考查的是汉字的结构。题干两个字都是左右结构，且是左形右声的形声字，符合此特点的只有 C 选项。因此，本题答案为 C 选项。

纠错：

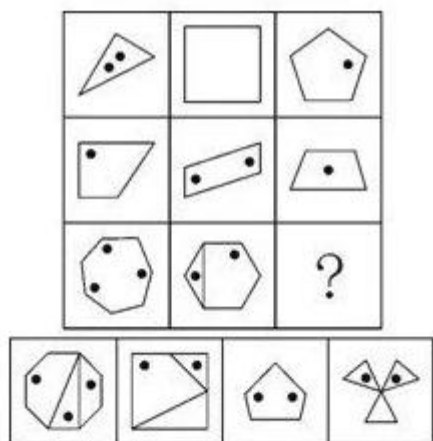
A 选项中“休”不是形声字，排除；B 选项中“众”不是形声字，排除；D 选项中“武”不是形声字，排除。

373、竞争：共赢

- A 博弈：和棋
- B 判决：和解
- C 买卖：互惠

·D 球赛：平局


解析：竞争可以达到共赢，买卖可以促成互惠。



374、

A B C D

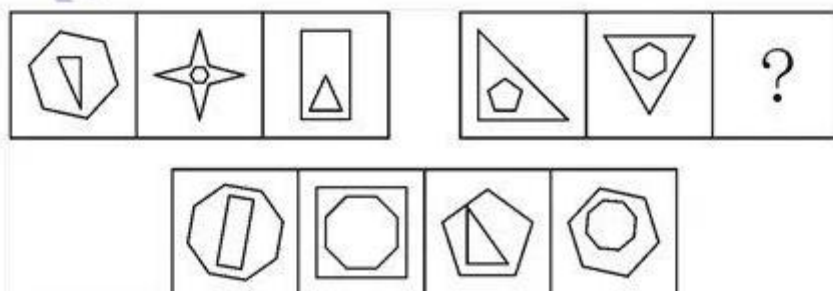
解析：本题考查数量类中点和角的数量。看九宫格的方式是竖看。前两列中第一个图点的数量与第二个图点的数量相加为第三个图中点的数量，按照此规律，第三列所求图形点的数量应为 2；同时前两列中第一个图角的数量与第二个图角的数量相加为第三个图中角的数量，按照此规律，第三列所求图形角的数量应为 9。因此，本题选择 D 选项。



375

A B C D

解析：本题考查样式类中的求异或相减运算。前两竖行中第一个图与第二个图去同求异得到第三个图，或每一竖行中第二个图减去第一个图得到第三个图。按照此规律，第三竖行中前两个图进行求异运算，得到 C 项图形。因此，本题选择 C 选项。




376、

A B C D

解析：本题考查数量类问题中的直线数的问题。每个图形都由内外两个图形构成。第一段图

形中，内部图形的直线数量小于外部图形的直线数量。并且外部图形减内部图形直线数量的差为“3、2、1”。第二段给出的图形中，内部图形的直线数量大于外部图形的直线数量，并且内部图形的直线数量减外部图形直线数量差为“2、3、？”因此问号处图形应该是：内部图形直线数减外部图形直线数为 4 的图形，只有 B 选项符合规律。因此，本题答案为 B 选项。



377、 A B C D

解析：本题考查数量类题型中的元素的种类。在题干的每个图形中，都包含有三种元素：黑圆、白圆和网状圆，因此“？”处的图形也应包含这三种元素。因此，本题答案为 A 选项。

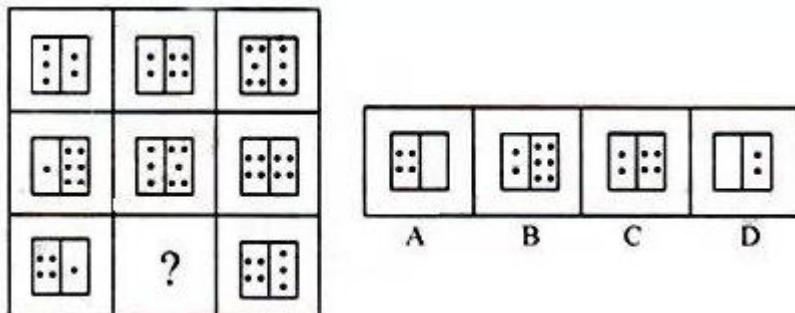
拓展：

在图形推理题目中，若题干特征不是十分明显，可结合选项，通过选项图形和题干图形的对比，选出正确答案。

378、动力定型是指一种在固定程序的条件作用下建立的暂时联系系统。在这一种系统内，各个条件刺激被严格的序列和时间呈现。以获得每个刺激确切而不变的效果，最后的效果就是在大脑皮质的活动中建立了一种动力定型。下列不符合此理论的是（ ）。

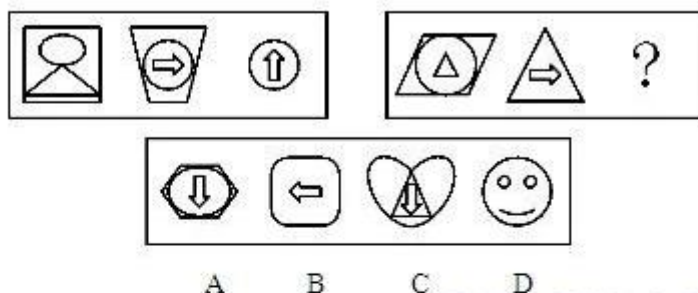
- A 乒乓球运动员通过练习确保陆球的稳定性
- B 小学生学习写字过程中老师不断纠正姿势
- C 篮球明星每天都要练习超过一千次的投篮
- D 动物园饲养员喂动物之前每次都要吹口哨

解析：动力定型是指一种在固定程序的条件作用下建立的暂时联系系统。是要在多个条件刺激下形成的序列和时间呈现。A 选项乒乓球运动员是通过练习确保稳定性，具体就是挥拍出手的稳定，击球的稳定。所以符合定义。B 选项教师指示初学写字的儿童“坐直”“头不要偏”等，就能制止那些不必要的动作，使有关皮质区域的兴奋过程更快集中，加速技能的形成。C 选项篮球的投篮，就像是炮弹的发射。首先发射架要保持相对的稳定，才可能打的准。也就是要求有稳定的动力定型。简单划分的话，就是下盘功夫和上肢的动力定型。D 选项只是存在单一的口哨声，因此，本题答案为 D 选项。



379、

解析：本题考查数量类题型中的点的个数。在题干中，每行前两幅图左侧点数之和与第三幅图左侧点数相同，且右侧点数为三个连续的自然数。所以“？”处图形的左侧点数应为 0，右侧点数应为 2。因此，本题答案为 D 选项。



380

解析：本题考查样式类运算中的同问题。题干中的前一组图形局部求同，即均含有圆，后一组图形中前两个图形局部求同，即均含有三角形，所以选一个包含三角形的图形。因此，本题答案为 C 选项。

381、南征北战：东讨西伐

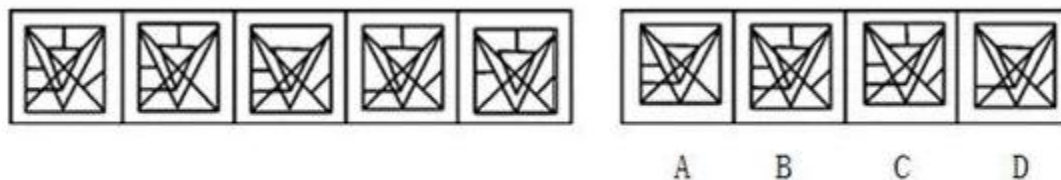
- A 万紫千红：姹紫嫣红
- B 古往今来：天南地北
- C 朝三暮四：喜新厌旧
- D 左顾右盼：东张西望

解析：本题考查成语的结构和含义。南征北战与东讨西伐是近义词，指经历很多战争，且结构类似；左顾右盼与东张西望是近义词，指向周围看，结构也相似。故答案选 D。

纠错：

A 项虽然是近义词，但是结构不同，不符；B 项虽然结构类似，但是不是近义词；C 项朝三暮四多指反复无常，喜新厌旧多指对爱情不专一，不是近义词。

382、



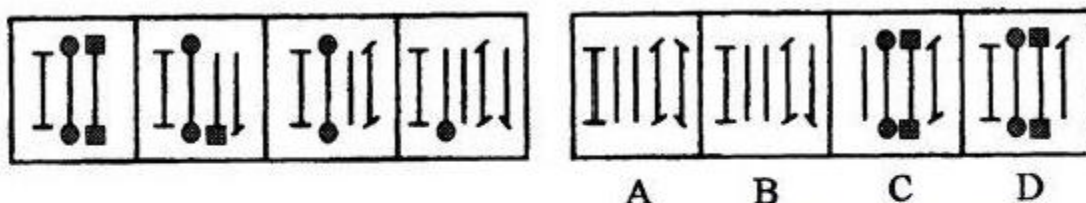
解析：此题考查的是线段的数目。观察题干中的五个图形，从第一个开始逆时针消除一个线段，依此规律推断，正确选项应该是 C 选项。因此，本题答案为 C 选项。

383、忧郁 对于 （ ） 相当于 热情 对于 （ ）

- A. 紫色——好动
- B. 蓝色——红色
- C. 发愁——冷漠
- D. 黑色——绿色

解析：本题属于词语语义关系题。蓝色代表了忧郁，红色代表了热情。所以选择 B 选项。

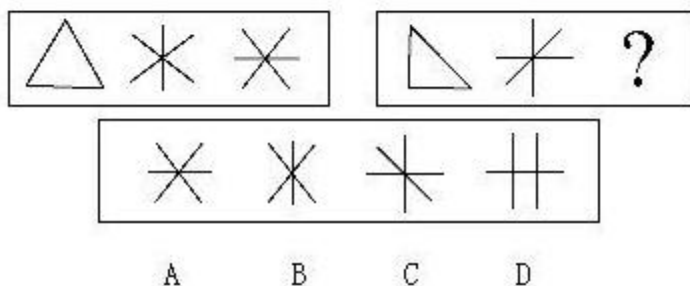
384



解析：本题考查数量类的线段和端点的个数。观察题干给出的一组图形，每幅图形的线段两端斜线的个数递增，2、3、4、5、（6）。结合选项来看，只有 A 项符合这一规律。

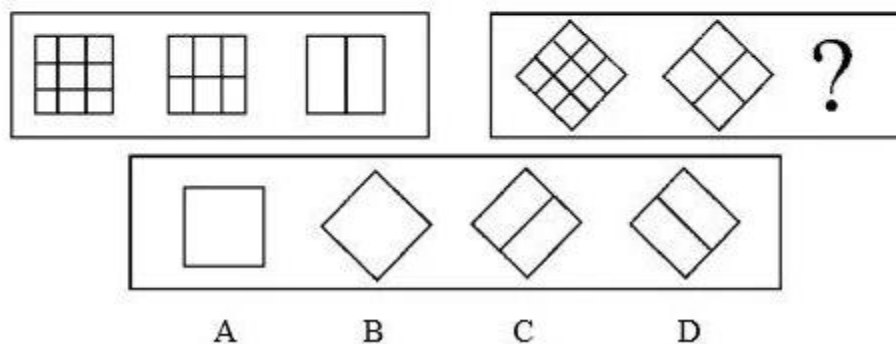
拓展

本题也可以先观察线段两端的端点个数，4、3、2、1（0），结合选项可排除 C、D 两项，再观察线段两端斜线的个数，2、3、4、5、（6）。因此本题答案是 A 项。



385

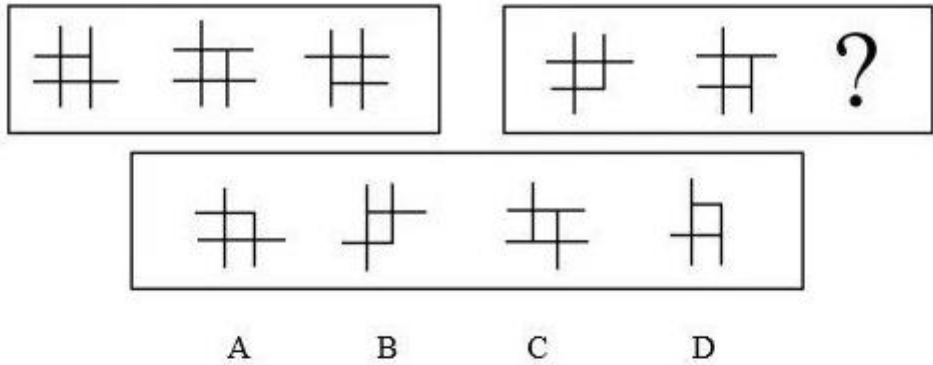
解析：这是一道位置类的旋转题目。本题属于两段式图形推理。第一段图形中，第三个图形是由第二个图形逆时针旋转而成，那么第二段图形第二个图形逆时针旋转得到选项 C。注意本题中每段图形第一个图形可以不用考虑，直接考虑第二个图形到第三个图形之间的规律就可以得出答案。



386

解析：观察第一组图中的三个图形，为左右对称的，且三个图的外形都是形同的正方形。第二组图中前两个图形，为左右对称的，且二个图形的外形都是菱形。所以，第二组图中第三

个图也应是左右对称的，而且外形应为菱形。因此答案为 B。



387、

解析：观察图形特点，第一组图中的三个图形都是由三个长线段、一个短线段组成；第二组图中的前两个图都是由二个长线段、二个短线段组成，且短线段是互相垂直的。

纠错

C 两个短线段相互平行，应该垂直。

388、(1)强调家具应舒适、实用(2)对居住面积提出了新的要求(3)室内陈设应具有美学观点(4)住所的位置是关键所在(5)不满一般的室内装修

A. 1-2-3-4-5

B. 1-3-5-2-4

C. 3-2-1-4-5

D. 4-2-5-1-3

解析：本题考查事件排序的逻辑顺序问题。根据事件发生的逻辑顺序，住所的位置是关键所在，所以对居住面积提出了新的要求，对一般的室内装修不是很满意，强调家具应舒适、实用，室内陈设应具有美学观点。因此本题答案是 D 项。

389、(1)生物遗体沉积海底(2)细菌将有机体分解(3)高温高压形成石油(4)泥沙覆盖生物有机体(5)海洋生物大量繁殖

A. 1-4-3-2-5

B. 5-4-2-1-3

C. 2-1-5-3-4

D. 5-1-4-2-3

解析：本题考查事件排序的逻辑顺序问题。本题是描述海底产油的过程。根据事件发生发展的逻辑顺序，可知 3 是排在最后的，结合选项排除 A、C 项。接着分析 B、D 项，不同的就是 1 在 4、2 的前面还是在后面，细菌将有机体分解，分解之后不可能会有生物遗体沉积海底，故排除 B 项，因此本题答案是 D 项。

390、尝试：成功

A. 奋斗：目标

B. 动力；创造

C. 劝说；接受

D. 改革；进步

解析：对于类比推理，造个句子是我们常用的手段，只有尝试才能成功，只有改革才能进步，而且成功和进步都表示一种状态。

纠错

A 错是因为“只有奋斗才能目标”是不可以的，我们只能说“只有奋斗才能取得目标”，B 中“只有动力才能创造”不符合日常用语习惯，C 中“只有劝说才能接受”，我们在日常生活中也很少这样说。

391、飞鸟的集体自杀，是大自然的一个难解之谜。当今一个通行的说法是：鸟类集体自杀，主要是地球磁极的移动使它们看不准定向标。以下哪项如果为真，最能削弱上述专家的观点？（ ）

- A. 空气漂浮的大量毒气云团是飞鸟致死的元凶
- B. 飞鸟的集体死亡一般是大自然的偶然事件
- C. 飞鸟吃了河海里以有毒藻类为食的虾蟹致死
- D. 火山爆发产生大量硫化物造成飞鸟的集体死亡

解析：文段的观点是“鸟类集体自杀，主要是地球磁极的移动使它们看不准定向标”，地球磁极的移动是有规律的（地球北磁极正以每年 40 英里的速度向俄罗斯方向移动），所以鸟类集体自杀也应呈现出规律性特征。B 选项“飞鸟的集体死亡一般是大自然的偶然事件”否定了论点成立的前提条件，故 B 项为答案。

纠错

A、C、D 三个选项是造成飞鸟死亡的三种可能的原因，对论点确实有削弱的作用，但并没有直接否定论点，故排除。

392、自今年起的每年 8 月 8 日为“全民健身日”。甲、乙、丙、丁四人议论“全民健身日”的性质。甲说：“我们办公室所有人都知道这不是法定的健身活动日。”乙说：“如果小张说这不是法定的健身活动日，那么他就认为是法定的‘国家体育日’。”丙说：“小张说这不是法定的健身活动日，也不是法定的北京奥运会纪念日。”丁说：“我们办公室有人就不知道这是法定的健身活动日，而认为是体育节。”已知上述四人中只有一人说的不符合事实。由此推出（ ）。

- A. 甲说假话
- B. 乙说假话
- C. 丙说假话
- D. 丁说假话

解析：丁的弦外之音就是这是法定健身活动日，与甲矛盾，故而丙丁正确，进一步推出甲正确，故而丁错误。

393、红光：满面

- A. 东山：再起
- B. 魂牵：梦绕
- C. 五光：十色
- D. 雨打：芭蕉

解析：红光满面，主谓方式构成的成语，东山再起，主谓方式构成的成语，故选 A。

纠错

魂牵梦绕、五光十色都是并列结构的成语，排除 B、C；雨打芭蕉是民间乐曲，不是成语，排除 D。

394、双杠：单杠

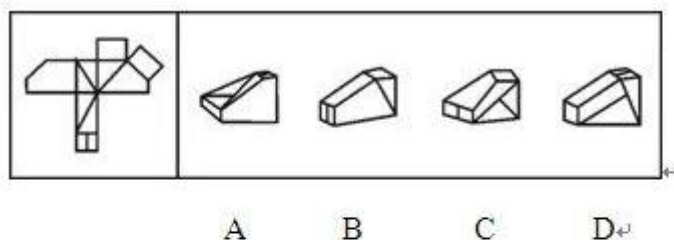
- A. 阑尾：心脏

- B. 毫米：口径
- C. 南宋：北宋
- D. 纪念：周年

解析：单杠和双杠是体操项目中的小项，并列关系，同时在“杠”的范围里只有单杠和双杠；阑尾属于器官，和心脏都属于人体器官，但未包含全部；南宋和北宋，宋朝的 2 个朝代，包括了宋朝的全部，选 C。

纠错

毫米是口径的计量单位，不是并列关系，排除 B；周年和纪念不是并列关系，排除 D；



395

解析：本题考查空间重构类的问题。对于复杂图形首先找特征面，四个选项的立体图形斜面各不相同，而平面图形折成立体图形后，斜面应该是空白的矩形，由此可排除 A 项、C 项；立体图形的侧面为空白面或一条线的面，D 项侧面出现了两条线，排除 D 项。因此，本题答案为 B 选项。

396、假设就是根据已知的科学原理和一定的事实材料，对未知事物的普遍规律性和因果性所做出的假定性解释。下列不属于假设的是

- A. 艾滋病是由支原菌和艾滋病病毒引起的
- B. 世界气候逐渐变暖是大气的因素，或是海洋的因素，或是地球内部的因素
- C. 民法中的“宣告死亡”
- D. 能溶解一切物质的“万能溶液”

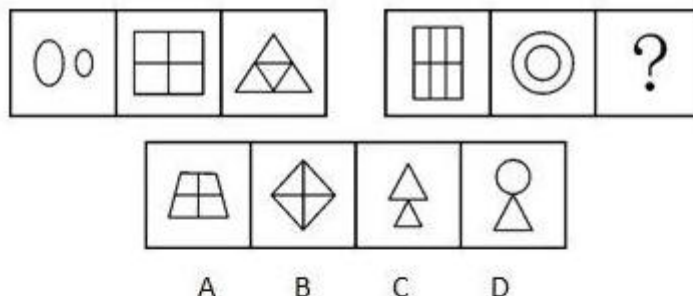
解析：划关键词，题干中的关键词为：强调对“未知事物”做出假定性解释。对比选项，A 中的“艾滋病”已经确实存在，该病由支原菌和艾滋病毒引起也在医学上被证实，因此是对“已知事物”做出确定性解释，A 不符；目前“气候变暖”的真正原因还是“未知”的，“大气、海洋、地球内部”这些因素都只是猜测，B 符合；失踪人是否真的死亡是“未知”的，他事实上也可能还活着，只是被假定死亡，C 符合；根据科学原理推测可能存在一种“能溶解一切物质”的物质，但这种物质是什么还是“未知的”，只是目前假定存在这种物质并且它叫“万能溶液”，D 符合定义。故正确答案为 A。

397、划分是把一个属概念分为组成它的各个种概念，以明确概念外延的一种思维方法。正确的划分要求划分出的各项外延之和必须等于母项，而且要采用同一标准，子项的外延不相容，而且是同一层次的概念。下列语句作为划分正确的是

- A. 直系亲属分为“双亲”、“胞亲”、“配偶”和“子女”
- B. 战争分为常规战争和世界战争
- C. 地球分为北半球和南半球
- D. 健康分为心理健康和生理健康

解析：划关键词，题干中的关键词为：划分需按“统一标准”。划分出的“子项外延之和必须等于母项”且“子项的外延不相容且是同一层次”，即子项应为全异关系，对比选项，A 中各项的

外延之和不等于“直系亲属”，“双亲”、“子女”、“配偶”属于“直系亲属”，但“直系亲属”还应包括外祖父与外孙子女等，且“胞亲”不属于“直系亲属”；B 中按使用的武器种类分为“常规战争”和“非常规战争”，但是它们的外延之和小于战争，因为战争还包括不使用武器的战争；C 中“南半球”和“北半球”是按方位划分的，二者之和等于地球且二者是全异关系；D 中子项外延之和小于母项，因为健康包括心理健康、生理健康和道德健康。故正确答案为 C。



398、

解析：完全相同的，选 B。

399、政府执行力是政府执行的能力和效能，是政府贯彻执行党和国家的路线方针政策以实现既定目标的实践能力。根据以上定义，下列不属于政府执行力的是

- A. 政府执行过程中的量化成分
- B. 政府执行过程中的效果体现
- C. 实现组织经营战略目标的能力
- D. 把行政决策所规定的具体任务化为工作实际

解析：划关键词，题干中的关键词为“执行”的“能力和效能”。对比选项 A 中的“量化成分”符合执行的“能力”；B 中的“效果体现”是符合执行的“效能”；D 中的具体任务实际化符合题干后半句的定义；题干中政府执行力只是“贯彻执行”，并非参与经营，C 不符。故正确答案为 C。

399、有限自然资源的开发利用、公共资源配置以及直接关系公共利益的特定行为的市场准入等可以设定行政许可。这些事项，行政机关应当通过招标、拍卖等公平竞争的方式作出决定。法律、行政法规另有规定的，依照其规定。以这条规定为依据，社会中存在的大量有限公共资源，其利用与配置可设定行政许可。这一领域的许可就是特许。根据上述定义，下列属于行政特许的是（ ）。

- A. 采取了市场化的拍卖与竞标方式进行的出租车牌照的拍卖
- B. 城市户外广告设施的拍卖
- C. 需要得到行政当局同意的驾驶许可、营业许可
- D. 烟草专卖许可、麻醉药品的生产许可

解析：行政特许的关键词是“社会中存在的大量有限公共资源”。A 项中的“出租车牌照”符合此定义，为正确答案。B 项中的“城市户外广告设施”、C 项中的“驾驶许可、营业许可”、D 项“烟草”和“麻醉药品”不属于“社会中存在的大量有限公共资源”，未能满足定义中的关键词，所以也不能叫做行政特许；符合行政特许的定义。故正确答案为 A。

400、人的视觉完形功能，是指当人们在用眼睛观察世界时，总是倾向于用自己所熟悉的经验，把本无联系的散乱事物加工成有机的整体后进行感知。根据以上定义，下列不属于人的视觉完形功能的是（ ）。

- A. 1872 年美国迈布里奇用连动摄影机拍摄到，马在奔跑时至少一蹄着地，不会有古代画家所画的马总是四蹄腾空的样子

- B. 北斗星由七颗星星组成，人们总是亲切地称之为“勺星”
- C. 鲁迅小时候喜欢在画本的不同页上画动作相差很小的一组人物，然后迅速从前往后翻，这时画面本来静止的人们都好像动了起来
- D. 在一个很黑的屋子里燃着一柱香，一个人在凝视香头几分钟后，发觉这个香头竟然自己动了起来

解析：由题干可知，人的视觉完形功能是以经验为准，把本无联系的散乱事物加工成有机体。

A 项中摄影师通过拍摄马的奔跑联想到古代画家所画的马四蹄腾空的样子，是因为相片是一张张静止的图片，多张相片经过人联想由静止变成动态；B 项将北斗星七颗星星的形态联系到勺子，故而有“勺星”这一称呼；C 项通过迅速翻动有相似人物的画本而联系到这些静止的人物似乎动了起来。此三项都属于人的视觉完形功能，只有 D 项不符合题干要求，故而正确答案选 D。

401、商业贿赂是以经营者为主体，以现金、实物等为手段，以销售、购买商品为目的，以破坏正常的市场竞争秩序为根本危害的一种行为。根据以上定义，认定商业贿赂的标准不包括()。

- A. 是否对受贿人的公正判断产生影响
- B. 是否对受贿人起到收买作用
- C. 当事人主观上是否有相关的贿赂意思
- D. 是否使受贿人得到利益，金额超出商业惯例的范围与否

解析：本题中 C 中的“主观上有相关的贿赂意思”题干中并没有提及，且只有主观上的想法没有实际行动不会破坏正常的市场竞争秩序，不属于商业贿赂标准。故正确答案为 C。

402、测验的内容效度是指测验题目对所测内容的代表程度。根据上述定义，下列行为属于对内容效度考查的是()。

- A. 某高校为了评估教师的教学质量，在学生中开展了一次对任课教师的问卷调查，调查的内容很广泛，包括教学方法、教学态度、教师着装、教学语言等
- B. 为了考查期中考试内容的难易程度是否合适，王老师调查了 20 个学生，发现学生普遍反映这次考试偏难
- C. 为了考查竞争激烈的高考是否有效，有关单位对升入大学的考生进行了跟踪调查，看他们是否能很好地适应大学学习
- D. 全国统一的项目经理资格考试今年新增加了一些考试要点，国家组织了专门人员对新增加后的考试内容进行评估，看其是否真正考到了实际工作中该考的内容

解析：根据定义，是指测验题目对所测内容范围的代表程度，符合该定义所指的只有 D 选项。A 项中的“教学方法”明显不是测验题目，B 项中“难易程度”表明不是测验内容范围，C 项调查的是考生，与测验无关。因此，本题答案为 D 选项。

403、行政实施，是指从行政决策一经形成或最后批准时起，行政机关及其工作人员贯彻决策、实施决策的全部活动或整个过程。下列不属于行政实施的一项是()。

- A. 行政部门为推行一项决策，检查行政决策是否与有关法律法规相抵触
- B. 行政部门执行政策时遇上国庆，放假休息
- C. 行政部门准备救灾措施所需要的经费和物资装备
- D. 为推动群众爱城自觉行动，县政府召开动员大会，发布动员令

解析：产业结构政策：指一定时期内政府为促进本国产业结构的调整、优化和省级所制定的政策。根据以上定义，下面哪种政策不属于产业结构政策：()

- A. 对第三产业采取保护与扶持

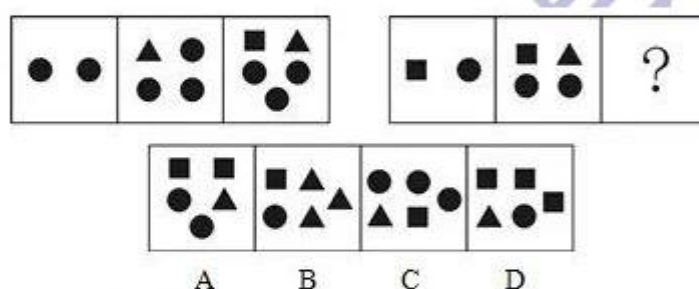
- B. 对涉农产品及产品加工，推行公司加农户的形式
- C. 对“五小”工业采取“关、停、并、转”
- D. 对某些工业产品实行“3C”认证

解析：产业结构政策是在一定时期内政府为促进本国产业结构的调整、优化和升级所制定的政策。A 选项“对第三产业采取保护和扶持”，是对第三产业的调整、优化。B 选项“对涉农产品及产品加工，推行公司加农户的形式”，是产业结构政策。C 选项对五小工业采取的手段是为更好的推进本国的发展。D 选项对工业产品实行 3C 认证，仅仅是让我们知道哪些是符合要求的，与产业结构无关。因此，本题答案为 D 选项。

404、电信：是通信者利用电磁系统，采用任何表示形式，按照公认的协定，向一个或多个确定的通信者或向尽可能多的通信者传递任何性质的信息的任何过程。根据以上定义，下面哪一种属于电信：（ ）

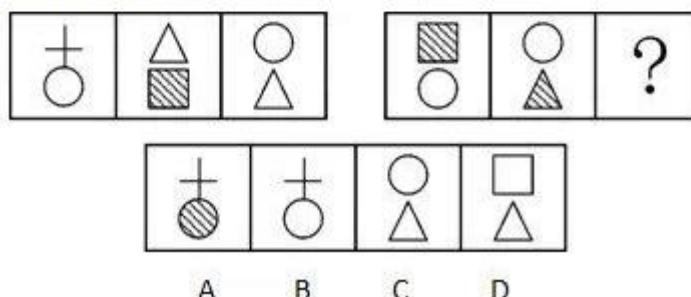
- A. 火车上加装了闭路电视，向旅客播送文艺节目
- B. 小张送给他同学一张电子版的《小说集》光盘，请他阅读
- C. 某公司用短信形式发送本公司产品广告
- D. 老王去朋友家串门，在门口按门铃

解析：通信是通信者利用电磁系统，采用任何表示形式，按照公认的协定，向一个或多个确定的通信者或向尽可能多的通信者传递任何性质的信息的任何过程。A 选项在火车上传递文艺节目，接受者是不确定的，所以不符合定义；B 选项送的光盘不是通过点此系统传递信息；C 选项以短信的形式发放广告，符合定义；D 选项门铃不是电磁系统。因此，本题答案为 C 选项。



405

解析：考查元素的转换。1 个三角形=1 个小黑圆，1 个正方形=2 个小黑圆，第一组图包含的小黑圆的个数为 2、4、6，第二组图包含的小黑圆的个数为 3、5、7，正确答案为 A。



406

解析：本题考查样式类内在属性问题中的曲直性问题。题干给出的第一组图形，我们会发现这三幅图形中有两个图形是由曲线和直线组成的，另一幅图形则仅是由直线组成的，那么第

二组图形继承这个规律，已经出现了两个图形都是由直线和曲线组成，那么缺的必然是一个仅有直线组成的图形。因此，本题答案为 D 选项。

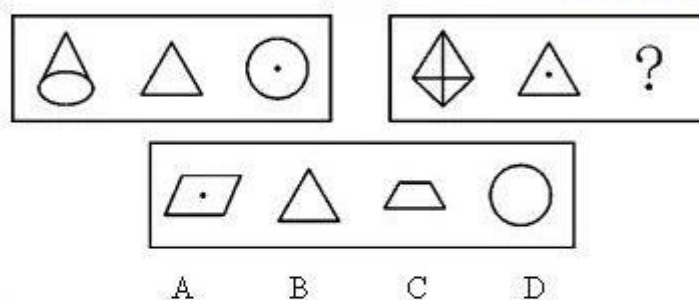
拓展

样式类图形推理中内在属性问题包括曲直性、封闭性、对称性，在做这类题的时候，只要我们发现图形的组成元素比较相似，并且发现组成元素不是很多（三种以上），那么应该考虑下图形自身的内在属性，曲直、封闭或对称。

407、特定物，指具有自身单独的特征，不能为其他物所代替的物。据此定义，下列属于特定物的是（ ）

- A. 外婆传给妈妈的手镯
- B. 汉朝的一个出土文物
- C. 小张的结婚钻戒
- D. 宠物商店里待售的狗粮

解析：特定物是指自身具有独立的特征，或者被权利人指定而特定化，不能以其他物代替的物，包括在特定条件下独一无二的物和从一类物中根据民事主体的意志而特定化的物。一般指古物。B 项是特定物，自身具有独立的特征，在现代没有别的可以替代的物品，其他三项都有可以替代的物品。B 项正确。



408)

解析：第一组图中：第一个图是圆锥体，第二个图是圆锥体的侧视图，第三个图是圆锥体的俯视图；第二组图中：第二个图是第一个图正三棱锥的侧视图，B 选项正确，故选 B。

409、有人从一手纸牌中选定一张牌，他把这张牌的花色告诉 X 先生，而把点数告诉了 Y 先生，两位先生都知道这手纸牌是：黑桃 J、8、4、2；红心 A、Q、4；方块 A、5；草花 K、Q、5、4。X 先生和 Y 先生都很精通逻辑，很善于推理。他们之间有对话如下：

Y 先生：我不知道这张牌。

X 先生：我知道你不知道这张牌。

Y 先生：现在我知道这张牌了。

X 先生：现在我也知道了。

根据以上对话，推测这是下面哪一张牌？（ ）

- A. 方块 A
- B. 红心 Q
- C. 黑桃 4
- D. 方块 5

解析：由于 Y 先生知道这张牌 Z 的点数，如果 Z 的点数是 2、8、J、K 中的一个，那么 Y 先生应该知道 Z 是什么牌。因为这些点是 13 张牌中惟一的点。但 Y 先生不知道 Z 是一张什么牌。所以 Z 的点数应在黑桃 4，红心 A、Q、4；草花 4、5、Q；方块 5、A 之中。如果 Z 的花色是黑桃或草花，那么 X 先生不知道 Z，因为若 Z 在黑桃或草花中，有的点数不是惟

一的，而 X 先生不知道 Z 的点数，也就无法判定 Y 先生知道还是不知道。但 X 先生竟说“我知道你不知道这张牌”，所以 Z 不在黑桃或草花中，而在红心 A、Q、4 和方块 A、5 之中。此时双方都已经知道 Z 在五张牌中。如果 Z 的点数是 A，由于有两张 A，Y 先生无法知道 Z，但 Y 先生竟说“现在我知道这张牌了”，所以 Z 的点数不是 A，而是 Q、4、5。又，如果 Z 的花色是红心，由于还剩两张，那么 X 先生也无法知道 Z，但这时他竟然知道了，所以，Z 不是红心，而是方块，即方块 5。因此，本题答案为 D 选项。

410、自恋：爱

- A. 敌意：批评
- B. 沉思：思想
- C. 内疚：谴责
- D. 贪婪：欲望

解析：自恋是自己对自己过度爱的一种表现，贪婪是自己对自己过度欲望的一种表现。因此，本题答案为 D 选项。

纠错

A 选项敌意不是批评的表现，所以排除。B 选项沉思不是思想的一种表现。C 选项内疚就是自身的反应，谴责是对外的反应。

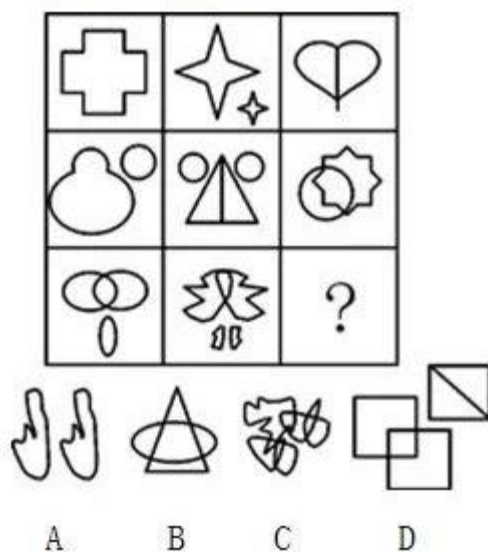
411、模仿：摩擦

- A. 鹦鹉：问好
- B. 音乐会：侵权
- C. 复制：官司
- D. 复印：卡纸

解析：词义的一一对应关系，复制在意义上可以等同于模仿，官司在意义上代表着摩擦。另外，模仿和摩擦没有关系，复制和官司没有关系。因此，本题答案为 C 选项。

纠错


A 选项鹦鹉可以说是模范，但是问好不能代表摩擦，所以排除。B 选项音乐会不能是模仿，音乐会都会有独创性的节目，侵权可以等同于摩擦，所以排除。D 选项复印可以是模仿，但是卡纸不能等同于摩擦，所以排除。



解析：此题考查的是图形的对称性。观察题干，在这个九宫格图形中，从对角线上观察，对角线上所有图形都对称，而且是关于纵轴对称。因此，本题答案为 B 选项。D 选项对称，但不是关于纵轴对称。

拓展

这道题是九宫格中典型的“X”型,关于九宫格的观察方法包括：行或列、S 型、O 型、X 型和 e 型。



413、

解析：此题考查的是图形中交点的个数。观察题干，在这个九宫格图形中，从横向上看，从第一个图起，每个九宫格的交点个数均为 4 个。因此，本题答案为 A 选项。